



**TÜM ADAYLAR İÇİN  
KAMU PERSONEL SEÇME SINAVI  
İSABETLİ SORULAR**

**Genel Yetenek - Genel Kültür**

ISBN 978-605-4359-??-4

**YAZARLAR**

KOMİSYON

İhtiyaç Yayıncılık, 2011

Bu kitabın basım, yayın ve satış hakları İhtiyaç Yayıncılık, Dershanecilik, Turizm, Reklam, Otomotiv, İnşaat, Organizasyon ve Ticaret Ltd. Şti.'ne aittir. Bu kuruluşun izni alınmadan tümü ya da herhangi bir bölümü mekanik, elektronik, fotokopi, manyetik, kayıt ya da başka yöntemlerle çoğaltılamaz, basılamaz ve dağıtılamaz.

***BU KİTAP T.C. KÜLTÜR VE TURİZM BAKANLIĞININ BANDROLÜ İLE SATILMAKTADIR.***

**Dizgi**

İhtiyaç Yayıncılık Dizgi Ekibi

**Grafik/Tasarım**

İhtiyaç Yayıncılık Grafik/Tasarım Ekibi

**BASKI**

Ertem Matbaacılık

0 312 284 18 14

**İHTİYAÇ YAYINCILIK**

**İletişim Adresi:** Kızılırmak Cad. Nu. 53 Kızılay/ANKARA

**İrtibat Telefonu:** 0 312 434 34 00 (pbx)

**Faks:** 0 312 434 35 00

**GSM:** 0 506 265 56 20

**Web:** www.ihciyacgrup.com

**E-posta:** bilg

# ÖN SÖZ

Değerli Arkadaşlar,

Söz konusu KPSS ise

“İhtiyaç Yayıncılık”tan BAŞKASI AYRINTIDIR.”

Başarılar...

İHTİYAÇ YAYINCILIK



*isabetli sorular*

**TÜRKÇE**



## 2011 KPSS – Soru: 1

Kişiliğimizin oluşup gelişmesinde okuduklarımızın büyük payı vardır. Her yazar, kişiliğimizin temeline ayrı bir taş koyar. Bu, edebiyatın temel işlevlerinden biridir.

**Bu parçadaki altı çizili cümleyle, yazarlara ilişkin olarak anlatılmak istenen aşağıdakilerden hangisidir?**

- A) Duyuş, davranış özelliklerimizi geliştirip zenginleştirdikleri
- B) Bizi yanlış düşüncelerden uzaklaştırdıkları
- C) Yaşama biçimimizi belirledikleri
- D) Bizi başka insanların dünyasına taşıdıkları
- E) Yaşamı sevme, ondaki güzellikleri görme gücümüzü pekiştirdikleri

CEVAP: A

## 2011 KPSS – Soru: 2

Kendi aralarında üç beş sözcükle konuşan gençlerimizi gördükçe onların, beyin ve dil yetilerinin daha gelişme evresindeyken kurumuş olmasından kaynaklanan sözcüksel çölleşme içinde olduklarının ayırımına varıyorum.

**Bu cümledeki altı çizili sözle anlatılmak istenen aşağıdakilerden hangisi olamaz?**

- A) Anlatımsal yavanlık
- B) Düşünsel sınırlılık
- C) Duyguları yansıtmada eksiklik
- D) Algısal yetersizlik
- E) Kural tanımazlık

CEVAP: E

## TG Deneme Sınavı

## Deneme: 1 – Soru: 1

Gereksiz tek bir söz ya da sözcük bulamazsınız bu yazılarda. Anlatım, coşkun bir dere gibi akarken dipte de anlamın çakıl taşları parlıyor. Böyle olunca doyamıyorsunuz onları okumaya.

**Bu parçadaki altı çizili cümleyle yazar, aşağıdakilerden hangisini anlatmak istemiştir?**

- A) Yeterli ölçüde ayrıntıya yer verdiğini
- B) Ele alınan her yönden aydınlatıldığını
- C) İçtenliği temel aldığı
- D) Değişik görüşlere kısaca değindiğini
- E) Duygu ve düşünceleri en kısa yoldan anlattığını

CEVAP: E

## Yaprak Test (Çek Kopart)

## Test: 2 – Soru: 9

Bu konuyu seninle enine boyuna konuşmalıyız.

**Bu cümledeki altı çizili söz öbeğinin yerine aşağıdakilerden hangisi getirilemez?**

- A) genişçe
- B) en ince ayrıntısına kadar
- C) uzun uzadıya
- D) tüm yönleriyle
- E) ana hatlarıyla

CEVAP: E

## 2011 KPSS – Soru: 3

İnsanoğlunun çaresizliğe düştüğü, yaşadığı toplumsal ortamda bir başına, yapayalnız kaldığı ve başkalarının yardımına gereksinim duyduğu anlar vardır. Böyle zamanlarda her kapıyı çalar. Ne var ki bütün kapılar kapanmıştır yüzüne. Tam anlamıyla bir çaresizlik içindedir. Bir öyküye, bir romana konu olabilecek böyle bir durumu ---- deyimiyse somutlaştırıcı bir biçimde ne güzel anlatmıştır Türkçemiz.

**Bu parçada boş bırakılan yere aşağıdakilerden hangisinin getirilmesi uygundur?**

- A) ötesi çıkmaz sokak
- B) havanda su dövme
- C) yer demir gök bakır
- D) dört duvar arasında
- E) iki arada bir derede

CEVAP: C

## 2011 KPSS – Soru: 4

**Aşağıdaki cümlelerden hangisi, ayraç içinde verilenlerle uyumsuzdur?**

- A) Benim müziğe yaklaşımım, çevremdeki müzisyenlerin çoğunun benimsediği bu akımla örtüşmüyor (karşılaştırma).
- B) Onun hangi albümünü alırsanız alın, niteliksizlikle, özensizlikle ya da düzeysizlikle karşılaşmıyacağınızdan emin olabilirsiniz (nesnellik).
- C) Ülkemizde yetişmiş piyanistlerin bir kısmı, ilk albümlerinin repertuarında gösterdikleri başarıyı sonrakilerde gösteremiyor (saptama).
- D) Son albümlerindeki başarısızlıkları, önceki çalışmalarında kazandıkları başarıdan dolayı duydukları aşırı öz güvenden kaynaklanmış olabilir (tahmin).
- E) Türkiye’de dünyaca ünlü piyanistlerin yetişmiş olması, sanatımızın gelecek vadettiğini gösteriyor (çıkarım).

CEVAP: B

## Modüler Soru Bankası

## Cevaplı Konu Testi: 1 – Soru: 14

---- deyimini bir insanın ister güzelliğiyle ister bilgisiy-le ya da herhangi bir niteliğiyle başkalarını kendine hayran bırakmak anlamında kullanılır.

**Bu cümlede boş bırakılan yere aşağıdaki deyimlerden hangisi gelmelidir?**

- A) Göz kaş süzme
- B) Göz kırmak
- C) Göz boyamak
- D) Göz kamaştırmak
- E) Göz atmak

CEVAP: D

## Yaprak Test (Çek Kopart)

## Test: 7 – Soru: 3

- I. Bu kitabı daha çok sevmişti. (Karşılaştırma)
- II. Bir kere de derslerini zamanında yapsa. (Yakınma)
- III. Buraya kadar geldin de bana uğramadın ha! (Sitem)
- IV. Bu işleri de yapamayacak göreceksin. (Ön yargı)
- V. Bugünlerde memleketime kar yağmıştır. (Kesinlik)

**Numaralanmış cümlelerin hangisi parantez içindeki anlamla uyumsuzdur?**

- A) I.
- B) II.
- C) III.
- D) IV.
- E) V.

CEVAP: E

**2011 KPSS – Soru: 5**

(I) Bu kitap, ünlü dil bilimcinin dostları, öğrencileri, şair ve yazar arkadaşlarıyla paylaştığı anılarından oluşuyor. (II) Yazılara ek olarak fotoğraflara da yer verilmiş. (III) Bu kitap yazara bir saygı duruşu niteliğinde. (IV) Dil bilimini genç kuşaklara eğlenceli üslubuyla anlatan yazar, bir eğitimci aynı zamanda. (V) Onun bu yapıtı, okuyanların, yazarı her yönüyle tanımalarına olanak sağlıyor.

**Bir kitap ve yazarına ilişkin bu parçadaki numaralanmış cümlelerle ilgili olarak aşağıda verilenlerden hangisi yanlıştır?**

- A) I. cümlede, içeriğiyle ilgili bilgi veriliyor.
- B) II. cümlede, kapsamındaki çeşitliliğe değiniliyor.
- C) III. cümlede, taşıdığı anlam açıklanıyor.
- D) IV. cümlede, mesleki durumuyla ilgili bilgi veriliyor.
- E) V. cümlede, farklı bir tutumu üzerinde duruluyor.

**CEVAP: E**

**TG Deneme Sınavı****Deneme: 12 – Soru: 4**

(I) Taksim için ilk proje, 30'lu yıllarda Atatürk'ün davetiyle İstanbul'a gelen Fransız mimar – şehir plancısı Henri Prost tarafından yapıldı. (II) Bu düzenlemede kentin gelişen semti Şişli ile tarihî merkezi Beyoğlu arasındaki mezarlıklar, yeşil alanlar ve eski Topçu Kışlası'ndan oluşan bölge, "rekreasyon ve kültür vadisi" hâlini aldı. (III) Taksim Meydanı'na bakan geniş merdivenler de "Gezi" olarak adlandırılan bu vadiye yaya erişimi sağlamak için tasarlandı. (IV) Ancak daha sonra Hilton Oteli'nin ve arkasından başkalarının yapılması bölgenin bu ilk işlevini değiştirdi. (V) Vadi, 1996'da düzenlenen BM Habitat Konferansı sonrasında "Kongre Vadisi" olarak adlandırıldı.

**Bu parçadaki numaralanmış cümlelerle ilgili olarak aşağıda verilenlerden hangisi yanlıştır?**

- A) I. cümlede, projenin kim tarafından ve ne zaman yapıldığı açıklanmıştır.
- B) II. cümlede, projenin uygulandığı alanlar belirtilmiştir.
- C) III. cümlede, eylemin hangi amaçla gerçekleştirildiği dile getirilmiştir.
- D) IV. cümlede, bölgenin görevinin nasıl farklılaştığı vurgulanmıştır.
- E) V. cümlede, vadinin yeniden adlandırılmasının nedeni verilmiştir.

**CEVAP: E**

**2011 KPSS – Soru: 6**

(I) Bebeğiniz bir yaşına yaklaşırken artık yalnızca, annesinin ya da babasının ona okuduğu kitaptaki resimlerle ilgilenmez. (II) Onların söylediklerine de kulak vermeye başlar. (III) Onun kolayca anlayabilmesi için karmaşık olmayan, basit hikâyeler seçmelisiniz. (IV) Okuduklarınızı onunla birlikte tekrar etmeye çalışmalısınız. (V) Bu, bebeğin dil ve zekâ gelişimi bakımından çok önemlidir.

**Bebeklere, annelere ve babalara ilişkin bu parçadaki numaralanmış cümlelerle ilgili olarak aşağıda verilenlerden hangisi yanlıştır?**

- A) I. cümlede, açıklanacak bir değişikliğin ipuçları verilmiştir.
- B) II. cümlede, I. cümlede belirtilenin ne olduğu açıklanmıştır.
- C) III. cümlede, okunacak hikâyelerin nitelikleriyle ilgili ölçüt belirtilmiştir.
- D) IV. cümlede, okunanların, bebeğin bildiği sözcüklerden oluşması gerektiği belirtilmiştir.
- E) V. cümlede, IV. cümlede önerilenin yararları dile getirilmiştir.

**CEVAP: D**

**TG Deneme Sınavı****Deneme: 12 – Soru: 5**

(I) Türkiye'nin en büyük özel koleksiyonuna sahip olan İş Bankası, 13 Mayıs'ta yapılan bir kokteyl ile sanatseverlerin karşısına 128 ressamın 131 tablosuyla çıktı. (II) Bunlar, 1940'tan başlanıp günümüze kadar 666 ressamın 2007 tablosu arasından oluşturulan "paha biçilmez bir sanat hazinesi" olarak değerlendiriliyor. (III) Mimar Sinan Üniversitesi tarafından restore edilerek "Mimar Sinan Üniversitesi Kültür Merkezi" adıyla sanat dünyasına kazandırılan Tophane-i Amire'de açılan bu sergi, Türk resim sanatının kronolojik bir tarihçesi niteliğini taşıyor. (IV) Sergi, asker ressamı kuşağından başlayarak günümüze dek uzanan süreçte, Türk resminin temel taşlarını oluşturan çeşitli ekollerden sanatçılar ve onların koleksiyonda yer alan en önemli yapıtlarından oluşuyor. (V) Sergi, 26 Haziran'a kadar sanatseverlerle buluşmaya devam edecek.

**Bu parçadaki numaralanmış cümlelerle ilgili olarak aşağıda verilenlerden hangisi yanlıştır?**

- A) I. cümlede, karşılaştırma yapılmıştır.
- B) II. cümlede, tabloların çok değerli olduğu vurgulanmıştır.
- C) III. cümlede, serginin düzenlendiği yer belirtilmiştir.
- D) IV. cümlede, sergideki resimlerin temaları söylenmiştir.
- E) V. cümlede, serginin bitiş tarihi verilmiştir.

**CEVAP: D**

## 2011 KPSS – Soru: 7

Aşağıdaki cümlelerin hangisinde, ayrıçlarla belirtilen yerlere ötekilerden farklı bir noktalama işareti konulmalıdır?

- A) Buraya yerleşince ev almışlar, büyükbaş hayvan almışlar ( ) ipek böcekçiliği, dokumacılık yapmışlar.
- B) Kabadayı ( ) şımarık bir delikanlı on sekiz yaşındaki dayımla tartışmış.
- C) Ailece aldıkları karar, hiç yılmamak, teslim olmak ( ) sonuna kadar direnmekmiş.
- D) Yaşar Bey'in kiraladığı üç katlı ( ) her katında ikişer oda bulunan teraslı eve yerleşmişler.
- E) Sabah erkenden kalkıyor ( ) dükkânı açıp ortaltığı topluyormuş.

CEVAP: A

## 2011 KPSS – Soru: 8

Aşağıdaki cümlelerin hangisinde bir yazım yanlışı vardır?

- A) Bu fakültede sekiz yüz elli öğrenci eğitim görüyor.
- B) Marmara denizindeki kirlilik oranının günden güne arttığı söyleniyor.
- C) Bahçeye çıkarken üzerine pembe bir şal almıştı.
- D) Romanında çocukluk günlerine çokça yer vermişti.
- E) Daha on beş yaşındayken yaşamın acı yüzüyle tanışmıştı

CEVAP: B

## Modüler Soru Bankası

## Test: 16 – Soru: 3

Türkiye (I) Almanya (II) İngiltere (III) İsveç gibi ülkelere göre değişik bir yaşam tarzına sahiptir. Bunun sebebi sanırım, iklimin (IV) bitki örtüsünün (V) insan yapısının bu ülkelerden farklı olmasıdır.

Bu parçadaki numaralanmış bölümlerin hangisinde diğerlerinden farklı bir noktalama işareti kullanılmalıdır?

- A) I. B) II. C) III. D) IV. E) V.

CEVAP: A

## TG Deneme Sınavı

## Deneme: 8 – Soru: 14

(I) Özel bir turist hac yeri olan kuzeydoğu İngiltere'deki Durham'ı fotoğraflama üzerine yapılmış ilgi çekici bir araştırma örneği var. (II) Araştırma, gerçekte turistlerin Prebend Köprüsü'nden çıktıkları şato fotoğraflarından hoşnut kalmadıklarını gösteriyor. (III) Turistler, gördükleri manzaraya ilişkin anılarının Lewis'in "ölü doğruluk" olarak tanımladığı fotoğraflara göre daha zengin ve dolu olduğunu düşünmüşlerdir. (IV) Ve daha doğrusu bu tür imajlar, turistleri her zaman düş kırıklığına uğratabiliyor. (V) Yine de bu, insanları durmaksızın yeni yer imajları arayışından alıkoyamamaktadır.

Bu parçadaki numaralanmış cümlelerin hangisinde bir yazım yanlışı vardır?

- A) III. B) I. C) V. D) II. E) IV.

CEVAP: B

## 2011 KPSS – Soru: 9

Edebiyatın, okuru evindeki rahat koltuğundan kaldırma ve onu eyleme sürükleme gücüne sahip  
I

olduğu hep göz ardı edilir. Bu sözünden, edebiyatın  
II

bir propaganda aracı olması gerektiğini savunduğum anlaşılmasın. Ben okurunu bilinçlendiren edebiyatı  
III

severim. Ama yazınsallığı öldürmeden, türü kötüye  
IV

kullanmadan ve yaptığı işin hakkını vererek...

**Bu parçadaki altı çizili sözcüklerin türleri aşağıdakilerin hangisinde sırasıyla, doğru olarak verilmiştir?**

- A) Zamir, isim, isim, sıfat B) İsim, zarf, sıfat, isim  
C) Zamir, zarf, isim, isim D) İsim, sıfat, sıfat, zarf  
E) İsim, sıfat, zamir, sıfat

CEVAP: C

## 2011 KPSS – Soru: 10

Mavi kapıları, suya gömülmüş ağaçları, çöpleri  
I II III

karıştıran kedileri, kıyadaki sazlıkları çekmek için  
IV

fotoğraf makinemi yanıma aldım.  
V

**Bu cümledeki numaralanmış tamlamalardan hangisi tür bakımından ötekilerden farklıdır?**

- A) I. B) II. C) III. D) IV. E) V.

CEVAP: E

## TG Deneme Sınavı

## Deneme: 2 – Soru: 14

Yaşam, kapımızdan ağır ağır çekip gidiyor.  
I

Fotoğraflar ile aynalar, bedensel gücün azalması  
II

bunun en iyi kanıtı. Bu görünümü almamak, yaşını  
III

göstermemek için insanoğlu bir dizi çaba sarf ediyor kendince. Güneşli, sımsıcak sabahlar, değişimlere  
IV

uğrayarak yerini sert rüzgârlara, dinmeyen yağmur  
V

lara bırakıyor.

**Bu parçadaki numaralanmış sözlerden hangileri, ötekilerden farklı türden sözcükleri nitelemiştir?**

- A) I. ve II. B) I. ve V. C) II. ve III.  
D) III. ve IV. E) IV. ve V.

CEVAP: B

## Sınav Provası

## Deneme: 8 – Soru: 15

**Aşağıdaki cümlelerin hangisinde isim tamlaması yoktur?**

- A) Göğün maviliği, içimi ısıtıyordu.  
B) Köyün yolları yeni yapılmıştı.  
C) Güvercin sesleri etrafta yankılanıyordu.  
D) El sanatları ülkemizde oldukça yaygındır.  
E) Mor kazağı ona çok yakışmıştı.

CEVAP: E

## 2011 KPSS – Soru: 11

Aşağıdaki cümlelerin hangisinde “-ş” eki bir eylemin karşılıklı olarak yapıldığını gösterme işleviyle kullanılmıştır?

- A) Kuşlar havada cıvıdayarak uçuşuyordu.
- B) Birbirlerini görmeden yıllarca yazışmışlar.
- C) Bu, yorucu bir yürüyüştü.
- D) Hepsi aynı anda sağa sola kaçıştılar.
- E) Bu, çok görkemli bir açılıştı.

CEVAP: B

## Yaprak Test (Çek Kopart)

Test: 34 – Soru: 2

Aşağıdaki cümlelerin hangisinde bir eylemin karşılıklı olarak yapılması söz konusudur?

- A) Gün geçtikçe bu çocuk esmerleşiyor.
- B) Seninle güzel bir mayıs akşamı tanışmıştık.
- C) Mehmet Hoca haftaya kadar iyileşir.
- D) Bu kız zaman geçtikçe güzelleşiyor.
- E) Saçları bu olaylardan sonra beyazlaştı.

CEVAP: B

## 2011 KPSS – Soru: 12

Aşağıdaki cümlelerin hangisinde ikileme, ötekilerden farklı bir görevde kullanılmıştır?

- A) Buz gibi sudan hepimiz kana kana içtik.
- B) Güneş ışınlarının vurduğu deniz suyu pırıl pırıl parlıyordu.
- C) Biraz ötemizdeki derenin suyu şırl şırl akıyordu.
- D) Geziden kucak kucak papatyalarla döndüler.
- E) Çevremizdeki doğal güzellikleri doya doya seyrettik.

CEVAP: D

## Sınav Provası

Deneme: 6 – Soru: 2

Hastanenin önündeki çiçekçiden kardeşine kucak kucak çiçek almıştı.

Bu cümleye altı çizili ikilemenin kattığı anlam aşağıdakilerin hangisinde vardır?

- A) Bu dediklerimi eninde sonunda yapacaksın ama kim bilir ne zaman?
- B) Yürüye yürüye ta dağın tepesindeki kulübeye vardılar.
- C) Güzel güzel konuşuyorduk biz, sen niye karşıyorsun ki olaya?
- D) Bardak bardak su içti ama hâlâ kendine gelemedi.
- E) Er geç sen de anlayacaksın beni, tıpkı kardeşinin anladığı gibi.

CEVAP: D

## 2011 KPSS – Soru: 13

Aşağıdaki cümlelerin hangisinde dolaylı tümleş, belirtili isim tamlamasından oluşmaktadır?

- A) Bekçi, her zaman yaptığı gibi dolambaçlı sokaklarda yürüdü.
- B) Yaşlı adam kendisine uzatılan zarfa baktı.
- C) Kasabada yağmurun şiddeti gittikçe artıyordu.
- D) Masanın üstündeki çiçekleri büyük vazoya koydu.
- E) Bahçe, odanın penceresinden çok güzel görünüyordu

CEVAP: E

## 2011 KPSS – Soru: 14

(I) Geldiğimizde güneş parlıyordu karların üzerinde. (II) Giderken de Ankara'nın keskin soğuğu yalıyordu yüzümüzü. (III) Hava karanlık, ortalık sessizdi. (IV) Yerler buzlu ve kaygandı. (V) Eve dönmekte biraz zorlandık.

Bu parçadaki numaralanmış cümlelerden hangileri yüklemine göre ötekilerden farklıdır?

- A) I. ve II.
- B) II. ve III.
- C) III. ve IV.
- D) III. ve V.
- E) IV. ve V.

CEVAP: C

## TG Deneme Sınavı

## Deneme: 8 – Soru: 11

Aşağıdaki cümlelerin hangisinde eylemden etkilenen varlık isim ya da sıfat tamlaması değildir?

- A) Ünlü yazarla karşılıklı birer çay daha içiyoruz.
- B) Yaşlı kadın, kınanın kalanını avuçlarına boca etmişti.
- C) Ölümünden sonra geçen şu birkaç yıl içinde onu sürekli anımsadım.
- D) Dizlerinin ağrısını giderirken yapacağı işleri sıraya koyuyordu.
- E) Prof. Dr. Ecrin Şiir Arslan, birçok şiir kitabı yayımlamıştır.

CEVAP: C

## Sınav Provası

## Deneme: 3 – Soru: 14

- I. Ağaçlara bakmak, stresten kurtulmak için en kestirme yolmuş.
- II. Bu görüşün sahibi, ağaçların insanlar üzerindeki etkisini araştıran bir profesörmüş.
- III. Araştırmalara göre çamın stresi azaltıcı etkisi diğer ağaçlardan daha fazladır.
- IV. Bahçesi olan insanların daha mutlu oldukları, olumsuz düşüncelerden arındıkları söyleniyor.
- V. Ağaç olmayan yerlerde yaşayanlara da manzara resimleri almaları öneriliyor.

Yukarıdaki numaralanmış cümlelerden hangileri yüklemine göre ötekilerden farklıdır?

- A) I. ve II.
- B) II. ve III.
- C) III. ve IV.
- D) III. ve V.
- E) IV. ve V.

CEVAP: E

**2011 KPSS – Soru: 15**

Postmodern romanlarda yazar, söyleminin tekdüzeleşmesine direnmek için, yazarlığın verdiği ayrıcalıklardan vazgeçtiği biliniyor.

**Bu cümledeki anlatım bozukluğu aşağıdaki değişikliklerin hangisiyle giderilebilir?**

- A) “yazar” sözcüğü “yazarın” yapılarak
- B) “için” yerine “amacıyla” sözcüğü getirilerek
- C) “verdiği” yerine “sağladığı” sözcüğü getirilerek
- D) “romanlarda” sözcüğü atılarak
- E) “biliniyor” yerine “biline geliyor” sözcüğü getirilerek

**CEVAP: A**

**2011 KPSS – Soru: 16**

Bu konuda onun söyledikleri yerden göğe kadar haklıdır.

**Bu cümledeki anlatım bozukluğu aşağıdaki değişikliklerin hangisiyle giderilebilir?**

- A) “bu konuda” sözü “onun” sözcüğünden sonra getirilerek
- B) “onun” sözcüğü atılarak
- C) “söyledikleri” yerine “söylediklerinde” sözcüğü getirilerek
- D) “kadar” sözcüğü atılarak
- E) “onun söyledikleri” yerine “o” sözcüğü getirilerek

**CEVAP: E**

**Yaprak Test (Çek Kopart)**

**Test: 42 – Soru: 11**

**Aşağıdaki cümlelerin hangisinde bir anlatım bozukluğu vardır?**

- A) Türk şiirinin tarihsel gelişimi, belli bir ölçü üzerine kurulmuştur.
- B) Tiyatro, sadece bir eğlence değildir.
- C) Kuşlar yağmurun değil, akşamın habercileridir.
- D) Aydın, hiçbir zaman kuşkudan korkmayan kişidir.
- E) Her öğrenci, kendine has bir çalışma sistemi olduğu söylenbilir.

**CEVAP: E**

**TG Deneme Sınavı**

**Deneme: 8 – Soru: 16**

Bu ülkede yaşayan herhangi bir çocuk gibi, henüz ortaokuldayken ben de o yazarımızı biliyor ve saygı duyuyordum.

**Bu cümledeki anlatım bozukluğu aşağıdaki değişikliklerin hangisiyle giderilebilir?**

- A) “yaşayan” sözcüğü cümleden atılarak
- B) “henüz” sözcüğü cümleden atılarak
- C) “biliyor” sözcüğü yerine “tanıyordum” sözcüğü getirilerek
- D) “ve” bağlacından sonra “ona” sözcüğü getirilerek
- E) “ve” bağlacının yerine virgül getirilerek

**CEVAP: D**

## 2011 KPSS – Soru: 17

Aşağıdaki cümlelerin hangisinde bir anlatım bozukluğu vardır?

- A) Senin, verdiğin randevuya hiç zamanında geldiğin oldu mu?
- B) Düşüncelerini neden bizimle paylaşmıyorsun?
- C) Sorduğum sorunun cevabı bu muydu?
- D) Yeterince problem yarattığınız yetmedi mi?
- E) Sence, böyle konuşması doğru mu?

CEVAP: D

## 2011 KPSS – Soru: 18

(I) Çocuk yetiştirme yöntemleri, ülkeden ülkeye değişen kültürel kodlar taşıyor. (II) Bazı ülkelerde çocuklar, daha küçük yaşlardayken gazete dağıtmaya, kendi yatağını toplamaya başlayarak sorumluluk duygusu kazanıyor. (III) Önce sorumluluk nedir, onu incelemekte yarar var. (IV) Ama sofradan tabağını kaldırmayan, çıkardığı giysilerini sağa sola fırlatan çocuklar da var. (V) Kimi aileler, böyle çocuklara ses çıkarmıyor. (VI) Çocuklara sorumlulukları hatırlatılmadıkça bu sorunu çözmek zor görünüyor.

Bu parçadaki numaralanmış cümlelerden hangisi düşüncenin akışını bozmaktadır?

- A) II.      B) III.      C) IV.      D) V.      E) VI.

CEVAP: B

## TG Deneme Sınavı

## Deneme: 6 – Soru: 18

Aşağıdaki cümlelerin hangisinde sözcüğün yanlış anlamda kullanılmasından kaynaklanan anlatım bozukluğu vardır?

- A) Umarım öğrenciler arasındaki bu karşılıklı dayanışma uzun sürer.
- B) Adamı karşısında görünce anlamıştı baltayı taşla dokundurduğunu.
- C) Seni arayan adam yaklaşık altmış yaşlarında kel ve şişman birisiydi.
- D) Ailesi nüfuslu yerlerde olmasına rağmen bu durumu iş bulmak için kullanmadı.
- E) Yaşamı boyunca acıları nasıl iç içe biriktirdiğini anlattı bana.

CEVAP: D

## TG Deneme Sınavı

## Deneme: 12 – Soru: 19

(I) Mutlaka okunması gerekir, diyerek bu güzel kitabı tanıtmaya başlıyorum. (II) Ötüken Yayınları arasından çıkan birbirinden güzel kitaplar var ama bu kitap bir başka. (III) Kitap, insanlar arasındaki iletişimi sağlamak açısından ve sözcük dağarcığımızı geliştirmek için en iyi araçtır. (IV) Öyle coşturucu bir üslupla yazılmamış, Türkçülüğün temellerini de anlatmıyor. (V) Abartıdan uzak, sade bir muhteva kuşatması ile 43 güzide şahsiyeti tanıtıyor bu kitap.

Bu parçadaki numaralanmış cümlelerden hangisi düşüncenin akışını bozmaktadır?

- A) I.      B) II.      C) III.      D) IV.      E) V.

CEVAP: C

**2011 KPSS – Soru: 19**

Birçok kent vardır, oraya gitmeseniz de çeşitli kitaplar okuyarak o kent hakkında bilgi edinmeye çalışırsınız. Bir ölçüde bunu başarabilirsiniz. Fakat söz konusu kent Şanlıurfa ise işiniz oldukça zordur. —.

**Bu parçanın sonuna düşüncenin akışına göre aşağıdakilerden hangisi getirilmelidir?**

- A) Toprağının rengini görüp sokaklarının kokusunu, insanların sesini duymadan tanıyamazsınız bu kenti
- B) Burası, görmeniz gereken yerler listesinde ilk sırayı almayı hak etmektedir
- C) Orada her şey farklıdır; çay daha buruk, daha hoş kokuludur
- D) Daha önce hiç gelmemiş de olsanız kendinizi, evinizdeymiş gibi rahat hissedersiniz
- E) Güzelliğinin ve farklılığının, barındırdığı kültürel zenginlikten kaynaklandığı herkesçe bilinmektedir

**CEVAP: A**

**2011 KPSS – Soru: 22**

Hemen ünlü olmak isteyen öğrencilerime Shakespeare'in, ölümünden yüz elli yıl sonra üne kavuştuğunu; Dostoyevski'nin, çağdaşlarından çok daha sonra kabullenildiğini hatırlatırım ve eklerim: "Roman yazmak, geleceğe mektup göndermek gibidir. İki yüz yıl sonra da okunuyorsan bu iş tamam demektir."

**Bu parçada romancılıkla ilgili olarak anlatılmak istenen aşağıdakilerden hangisidir?**

- A) Büyük sanatçıların yapıtları örnek alınmalıdır.
- B) Başarının ölçütü kalıcılıktır.
- C) Yapıtın belirli sanatsal nitelikler taşıması gerekir.
- D) Ancak çok yetenekli kişiler başarı kazanabilir.
- E) Çok emek ve sabır isteyen çileli bir iştir.

**CEVAP: B**

**Yaprak Test (Çek Kopart)****Test: 19 – Soru: 10**

Atatürk'ün ilk cumhurbaşkanı olarak Türkiye'yi idare ettiği yıllar, sosyal ve ekonomik sahalarda olduğu kadar sanat ve edebiyat sahalarında da dikkat çekiçi özellikler taşır. İstiklal Savaşı sonunda kazanılan zafer, yeni bir Türk devleti kurma azmi ve başlarında Atatürk gibi büyük bir kumandan ve devlet adamının bulunması, Türk aydınlarının hayata, dünyaya, memleketeye —.

**Bu parçanın sonuna düşüncenin akışına göre aşağıdakilerden hangisi getirilmelidir?**

- A) bakış açılarını değiştirdi
- B) uygun eserler yazdığı görülür
- C) savaş açtıkları belirtilmiştir
- D) katkıda bulunmasına örnek olmuştur
- E) sevgisini artırmıştır

**CEVAP: A**

**Modüler Soru Bankası****Test: 7 – Soru: 11**

Ömer Seyfettin'in 1911 yılında yazdığı ve Selanik'te çıkan "Genç Kalemler" dergisinde neşrettiği bu hikâye o yıllarda başlayan Türkçülük ve Milliyetçilik akımı ile yakından ilgilidir. Mesela bunlardan birisi millî dil ve kültürüne yabancı olarak yetiştirilen Türk çocuğu konusudur. Aşırı Batı hayranlığının tesiriyle gençlik yıllarında bir İtalyan kadını ile evlenen Kenan Bey, ilk çocuğuna İtalyanlar gibi "Primo" diye hitap eder ve onu tamamıyla İtalyan terbiyesine göre yetiştirir. Evde İtalyanca konuşulduğu için Primo, Türkçeyi öğrenemez. Suç, çocuğun değil, ana ve babasınındır. Bu kadar aşırılık, çocuğun kendini bilmemesiyle ortaya çıkar.

**Bu parçada anlatılmak istenen aşağıdakilerden hangisidir?**

- A) İtalyanlar, Türklere karşı hep ön yargılı olmuştur.
- B) Türkçülük ve Milliyetçilik akımının başlamasının sebepleri vardır.
- C) Çocuk, kendi toplumunun dili ve kültürüyle yetiştirilmelidir.
- D) Aşırı Batılılaşma, insanları yoldan çıkarmıştır.
- E) Eşler hangi ırktan olursa olsun birbirlerine saygılı olmalıdır.

**CEVAP: C**

**2011 KPSS – Soru: 23**

Yaşlılıkta edinilen zenginlikler saymakla bitmez. Ama ben bunları kazanmak için yaşlılığı beklemedim. Bunları yaşını başını almış kişilerden öğrenmeye çalıştım. Bu nedenle izlemeyi, dinlemeyi, okumayı tercih ettim. Kısa yoldan, özellikle yaşamaya cesaret edemediklerimi öğrenirim sandım. Ama öyle olmuyormuş, bunu şimdilerde anlıyorum.

**Bu parçada söylenenlerden aşağıdakilerin hangisine ulaşılabilir?**

- A) Yaşam birikimi ancak yaşanarak oluşur.
- B) İnsan gençlik döneminde elindeki olanaklardan nasıl yararlanacağını bilemez.
- C) Yaşlılık, insanlara olaylar karşısında daha serinkanlı davranmayı öğretir.
- D) Yaşlılık, insanı başkalarının haklarına saygı duymaya yönlendirir.
- E) Yaşlılık, ruhsal ve fiziksel açıdan bir tükeniş dönemidir.

**CEVAP: A**

**Hey 15'li****Deneme: 4 – Soru: 20**

İnsanlar gibi ağaçların da sevgiye, ilgiye muhtaç olduğunu, sevildikçe büyüyüp serptiğini, eziyet görüp horlanınca hastalandığını, ölmeye durduğunu düşündünüz mü bilmem. Adları ağaçtır ama onların da biz insanlar gibi kederleri ve sevinçleri, hastalıkları ve ölümleri vardır. Her birinin dili, söylediği başka başkadır. Ve onların yaşamları da ölümleri de biz insanoğlunun elindedir. Uzun ve mutlu bir yaşam sürmeleri, bizimle olan ilişkilerine bağlıdır.

**Bu parçada söz konusu ağaçlar ile ilgili olarak aşağıdaki yargılardan hangisine ulaşılabilir?**

- A) Ağaçlar her yönüyle insana benzediği için onların hayattaki durumunu, insanın onlara gösterdiği davranışlar belirler.
- B) İnsanın hayatla olan ilişkisinde ağaçların küçümsenmeyecek bir yeri vardır.
- C) Ağaçlar, yaşadığımız çevreye renk kattığı için insanların onları koruyup gözetmesi gerekiyor.
- D) İnsan dışındaki doğa varlıklarının tükenmemesi için onlara yönelik koruyucu önlemlerin alınması gerekir.
- E) Yaşamın geçiciliğini bilen insan, çevresini kuşatan diğer varlıklarla bir bütünlük oluşturmalıdır.

**CEVAP: A**

**2011 KPSS – Soru: 24**

Usta edebiyatçılarla görüşmeye gideceğiniz zaman, onlara, kitaplarını okuduğunuzu kanıtlamalısınız ki kendisini tanıdığınıza inansın. Böylece, donanımlı olarak gittiğimiz yerden daha donanımlı olarak çıkabilirsiniz. Eğer hiçbir şey bilmeden giderseniz televizyonlarda çok rastladığım ve güldüğüm, “Sizi tanıyabilir miyiz?” diye soran birinin durumuna düşersiniz. Ustalarla görüşmelerimden çıkardığım ve her zaman uyguladığım kural budur.

**Bu parçada başarılı edebiyatçılarla yapılacak röportajlarla ilgili olarak anlatılmak istenen aşağıdakilerden hangisidir?**

- A) Tanınmış sanatçılarla görüşebilmenin bazı kuralları olduğu
- B) Görsel basında yayımlanan görüşmelerin, izleyicinin ilgisini çekmediği
- C) Sanatçı hakkında bilgi sahibi olarak gitmenin, sanatçıdan daha fazla bilgi almayı sağlayacağı
- D) Sorulacak soruların, çok yönlü bir nitelik taşıması ve soran kişinin işindeki başarısını yansıtıcı nitelikte olması gerektiği
- E) Sanatçılarla yapılan görüşmelerin, onların ününü artırdığı

**CEVAP: C****Hey 15'li****Deneme: 9 – Soru: 17**

Çocuk dergileri, çocuğun güncel ile olan bağı kurması yanında, eğlendiricilik ve eğiticilik vasıflarını da bünyesinde barındıran bir nitelik taşır. Ders kitaplarının öğretici havasından uzak, bilgiyi bir eğlence havasında veren bu dergiler çocukta okuma becerisinin gelişmesine de hizmet eder. Ancak burada eğiticilik vasfının ön plana çıkarılarak dergilerin sıkıcı bir hâl almasının da önüne geçmek gerekir. Bu sebeple seçilen metinlerin salt içerikleri değil, edebî özellikleri de büyük önem taşımaktadır.

**Bu parçada “çocuk dergileri” ile ilgili olarak anlatılmak istenen nedir?**

- A) Çocuk dergileri çocuğun hayatında önemli bir yere sahiptir.
- B) Çocuk dergileri çocuğun okuma becerisinin gelişmesine yardımcı olur.
- C) Çocuk dergilerinde içerik kadar üslup da önemlidir.
- D) Çocuk dergilerinin sıkıcı olmaması gerekir.
- E) Çocuk dergileri, çocuğun güncel ile olan bağı kurmasına yardımcı olur.

**CEVAP: C**

**2011 KPSS – Soru: 25**

Edebiyat tarihçisi ve eleştirmen olan yazar Ian Walt, 18. yüzyıl İngiliz edebiyatının önde gelen roman-cılarından Defoe, Richardson ve Fielding üzerine incelemeler yapıyor. Bu isimlerin, modern roman geleneğinin oluşmasındaki rollerini tartışıyor. Araştırmasını, Batı tarihini belirleyen olayları, toplumsal oluşumları ve ekonomik durum gibi çeşitli dış etkenleri göz önüne alarak yapan yazar, bunların modern roman üzerindeki etkilerini okurlara sunuyor.

**Bu parçada anlatılan yazara ve onun çalışmalarına ilişkin olarak aşağıdakilerden hangisine değinilmemiştir?**

- A) Çağdaş romanı, içinde olduğu öteki koşullarla birlikte değerlendirdiğine
- B) İncelemelerini tanınmış sanatçılar üzerine yaptığına
- C) Mesleki açıdan iki alanla ilgili olduğuna
- D) İncelediği yazarların çağdaş romana katkıda bulunduğuna
- E) Daha önce bilinmeyenleri gün ışığına çıkardığına

**CEVAP: E****TG Deneme Sınavı****Deneme: 12 – Soru: 24**

Freud'un bilinç dışına doğru açtığı yolun anlaşılmasında, psikiyatrist, psikanalist ve bunlardan da önce bir şair olan Lacan'ın çok önemli katkıları var. Geçen yüzyıl başında Paris'te doğan Lacan seksen yıllık yaşamı boyunca yazılı çok az eser vermiştir. Temel eseri Ecrists (Yazarlar) 1960'larda aydınlar çevresinde yeniden keşfedilmiştir. Sadece psikanalizle sınırlı kalmayıp dil, ideoloji ve bazen dolaylı bazen dolaysız biçimde sanat tartışmalarının da odağına yerleşmiştir. Yazılarının anlaşılmasının güçlüğüne karşın iyi bir konuşmacı olan Lacan'ın Paris'te verdiği seminerler de yoğun ilgi toplamıştır.

**Bu parçada tanıtılan yazarla ilgili olarak aşağıdakilerden hangisine değinilmemiştir?**

- A) Kaç yaşına kadar yaşadığına
- B) Yazılı eserinin az olduğuna
- C) Konuşmasının sade ve akıcı olduğuna
- D) Farklı alanlarla da ilgilendiğine
- E) Yazılarının anlaşılmasının zor olduğuna

**CEVAP: C**

**2011 KPSS – Soru: 26**

Bir süredir öyküler yazmayı deniyordum. Bunları kitaplaştırmak gibi bir amacım yoktu. Akşam bilgisayarın başına geçip öykülerimi yazarken hayal dünyasında gezinmek, günlük yaşamın yavanlığından kurtulmak istiyordum. Onu yaptım. Böyle yaptığımda sabahları daha mutlu, daha çok şey öğrenme isteğiyle uyanıyordum. Kendi kendime yetiyordum yani. Bir de zamanın olgunlaştırmasına bıraktım öykülerimi, hemen kitap olsun istemedim.

**Bu parçada konuşan kişi, öykücülüğü ve öyküleriyle ilgili olarak aşağıdakilerin hangisine değinmemiştir?**

- A) Yazmanın kendi üzerindeki olumlu etkilerine
- B) Yazmaya başlarkenki amacına
- C) Yazmanın haz veren, çekici bir iş olduğuna
- D) Neden hemen kitaba dönüştürmediğine
- E) Yayımlamada hangi sıkıntılarla karşılaştığına

**CEVAP: E**

**TG Deneme Sınavı****Deneme: 15 – Soru: 23**

Göçebelikten gelen Türk toplumunun sözlü anlatım geleneğinden yazılı anlatım olanaklarına geçmesi hayli zaman almıştır. Toplumumuzda, şiirin bütün sanat dallarından daha çok ilgi görmesinin nedeni de bu sözlü kültür alışkanlığından ileri gelmektedir. Şiirin akılda kalıcılığı ve kulaktan kulağa taşınarak başkalarına aktarılabilmesi ona böylesi bir öncelik tanımaktadır. Tekerlemeleri, bilmeceleri, ninnileri ve masalları da bu kapsam içinde düşünebiliriz. Gerçi masallar anlatıla anlatıla büyük değişikliklere uğramaktadır ama bu değişikliklerle masalların bazı çapaklarından temizlendiği ve daha da olgunlaştığı düşünülebilir.

**Bu parçada aşağıdakilerin hangisine değinilmemiştir?**

- A) Türk toplumunun yazılı anlatıma geçmesinin zaman aldığına
- B) Şiirin, diğer sanat dallarından daha çok ilgi görmesinin sebebine
- C) Şiirle, halkın duygu ve düşüncelerinin daha iyi bir şekilde aktarıldığına
- D) Şiirin kulaktan kulağa aktarılabilirliğine
- E) Masalların, kişiden kişiye aktarılırken değişikliğe uğradığına

**CEVAP: C**

**2011 KPSS – Soru: 28**

Yazarlık hep içimde taşıdığım, derinlerde bir yerlerde olgunlaşıp zamanı gelince kendi kendine ortaya çıkacak bir hevesti sanırım. Bu heves, ilk belirtilerini lise yıllarındaki okul gazetesine ya da duvar panolarına yazdığım yazılarda kendisini göstermişti. Daha sonra gerçeküstü olayların anlatıldığı kısa öykü denemelerim oldu. Fakat cesaretsizlik, bunların bir köşede unutulmasına yol açtı. Bir gün aklımdan geçenleri küçük kâğıtlara not almaya başladım. Bunları, tanıdıklarına okuttuğumda çok ilginç bulduklarını söylediler, bu yazıların hangi yazara ait olduğunu sordular. Benim yazmış olduğum düşüncesi o an için pek çoğuna inandırıcı gelmedi. Sonra onlarla yaptığım görüşmeler beni heveslendirdi ve cümleler sayfalara dönüştü.

**Bu parçadan, bunları söyleyen yazarla ilgili olarak aşağıdakilerin hangisi çıkarılamaz?**

- A) Yazmaya öğrencilik yıllarında ilgi duyduğu
- B) Lise yıllarında yazdığı öykü denemelerini beğenilmediği için ortaya çıkarmadığı
- C) Öykü denemelerinde anlattıklarının, gerçekleri olduğu gibi yansıtmadığı
- D) Başkalarının, kimi yazılarının, onun olabileceğinin düşünülmediği
- E) Yakınlarının yüreklendirmesiyle yazmayı sürdürdüğü

**CEVAP: B**

**Yaprak Test (Çek Kopart)**

**Test: 15 – Soru: 3**

Radyo gibi çok kısa zamanda binlerce kişiye haber ulaştıran haberleşme araçlarına kitle iletişim araçları denir. Radyodan başka hangi kitle iletişim araçları ile çok kısa zamanda dünyanın değişik yerlerinden bilgi edinilebilir ki? Kitle iletişim araçları insanlar arasında bilgi alışverişini sağladıkları için etkileşimi hızlandırır. Etkileşimin olduğu bir iletişimde insanlar, birbirlerini daha iyi anladıkları için yaşadıkları olaylara kayıtsız kalamazlar.

**Bu parçadan aşağıdakilerden hangisi çıkarılamaz?**

- A) Kitle iletişim araçları etkileşimi artırır.
- B) Kısa zamanda radyodan en çok bilgi edinilir.
- C) Kitle iletişim araçları insanların birçok şey öğrenmesini sağlar.
- D) Etkileşim varsa insanlar birbirlerini daha iyi anlar.
- E) Kitle iletişim araçları insanların mutlu olmasını sağlar.

**CEVAP: E**

**2011 KPSS – Soru: 29**

Bu sanatçımız çok iyi bir şair olmasına karşın şiir üzerine neredeyse hiç konuşmaz, bir şey söylemez. Kendisine sorulsa çoğu kişiye yabancı gelebilecek ve onları şaşırtacak düşünceler öne sürerek onlarda olumsuz bir etki bile yaratabilir. Ama ben hem kendisini hem şiirini çok severim. Eğer “şair kişilik” diye bir şey varsa odur.

**Aşağıdakilerden hangisi kendisinden böyle söz edilen bir şairin özelliği değildir?**

- A) Şiirle ilgili farklı düşünceleri olan
- B) Güzel şiirleri olduğuna inanılan
- C) Sanatı üzerine konuşulmasından hoşlanmayan
- D) Şiiriyle kişiliği arasında etkileşim bulunan
- E) Şiir üzerine görüşlerini açıklamaktan kaçınan

**CEVAP: C**

**Sınav Provası****Deneme: 10 – Soru: 24**

Liseli yıllarımdan bu yana okurum onu. Yalnızca bir okuyucusu değil aynı zamanda hastalık derecesinde hayranıyım da. Hemen şunu söyleyeyim ki dilimizin büyük ustalarındandır. Sık sık söz sanatlarından yararlanır. Bir dilci olduğundan güzel yazma, bir tutkudur onda. Bunlara eklenecek en önemli özellik de onun bir ozan - düşünür olmasıdır. Dışı içe uygun yapıtlarında serinkanlı, mantıklı tutkular, dilekler, duygusal bir iklimde oluşan özlemler, yermeler, övmeler anlatımda kaynaştırılır. Düşüncelerini yaşamından devşirir. Sonra onları okuyucuyla paylaşır.

**Aşağıdakilerden hangisi bu parçada sözü edilen yazarın bir özelliği değildir?**

- A) Yazılarında belli kurallara sıkıca bağlı kalma
- B) Anlatımda söz oyunlarına başvurma
- C) Yaşam deneyimlerinden yararlanma
- D) Düşüncelerini şiirsel bir dille anlatma
- E) Biçimle içeriği başarıyla kaynaştırma

**CEVAP: A**

**2011 KPSS – Soru: 30**

Kendine güven duyma, insanın, çocukluk yıllarından başlayarak yaşadığı çevrede kendini ne kadar güvende hissettiğiyle ilişkilidir. Kendine güveni olmayan kişi, güveni hissedebilmek için başkalarından kabul görmeye çalışır. Ama kendini daha iyi ve güvende hissetmek için yaptıkları, onu daha çekingen ve sorumluluk alamaz hâle getirir. Yapmak istediklerini değil de yaparsa kabul göreceğini düşündüğü şeyi yapar; bu da onun kendisinden uzaklaşmasına ve kararsızlığının artmasına yol açar. Giderek başkalarına bağımlı hâle gelir. Bazen çok önemsiz kararlar için bile başkalarının önerilerine ihtiyaç duyar.

**Bu parçadan güven duygusuyla ilgili olarak aşağıdakilerin hangisi çıkarılamaz?**

- A) Bunu duyumsamayayanların, kişilikleri yeterince gelişmez.
- B) Bundan yoksun kişi, başkalarının onayına gereksinim duyar.
- C) Güvenli ortamlarda yetişenlerde, gerektiği ölçüde kazanıldığı görülür.
- D) Bu duygunun gelişmediği kişiler toplumdandır.
- E) Sorumluluk duygusuyla arasında bağ vardır.

**CEVAP: D****Yaprak Test (Çek Kopart)****Test: 15 – Soru: 6**

Tatlı tatlı sohbet etmek, güzel konuşmak, elbette ki bir sanattır. “Ne kadar hoş sohbet biri.” dediğimiz kişi konuşurken bizi alıp bir yerlerden bir yerlere götürebilir. Bu yüzden güzel konuştuğu için kendini sevdirmeyi de çok iyi becerir. Güzel konuşan insanda şeytan tüyü vardır. Yani çekicidir. Muhabbet ettiği kimseye istediğini yaptırır, onları etkisine alır.

**Bu parçadan aşağıdakilerden hangisi çıkarılamaz?**

- A) Sohbeti iyi olan insan, kendini etrafa kabul ettirir.
- B) Güzel konuşan kişi, çevresindekiler tarafından çok sevilir.
- C) İyi ve güzel konuşan bir insanın çekiciliği had safhadadır.
- D) Güzel sohbeti olan kişinin evlilik hayatı çok güzel geçer.
- E) Güzel konuşmak bir sanattır ve bunun da incelikleri vardır.

**CEVAP: D**

*isabetli sorular*

***MATEMATİK***

MATEMATİK SORULARININ DAĞILIMI	2001 KMS	2002 KPSS	2003 KPSS	2004 KPSS	2005 KPSS	2006 KPSS	2007 KPSS	2008 KPSS	2009 KPSS	2010 KPSS	2011 KPSS	TOPLAM
Temel Kavramlar	2	4	2	1	–	2	1	2	2	1	1	18
Sayı Sistemleri	1	1	3	1	1	1	1	2	–	–	–	11
Doğal Sayılarda Bölme	–	1	2	–	1	–	2	–	–	–	–	6
Bölünebilme	1	–	–	–	–	–	1	–	–	1	–	3
Asal Çarpanlara Ayırma, OBEB-OKEK	2	–	1	–	–	3	–	2	1	–	2	11
Rasyonel Sayılar	2	2	3	–	3	–	3	2	–	3	2	20
Basit Eşitsizlik ve Sıralama	1	1	1	–	1	2	2	3	1	1	1	14
Mutlak Değer	–	1	–	1	1	–	–	–	1	1	1	6
Üslü Sayılar	1	2	2	4	1	3	1	–	1	1	1	17
Köklü Sayılar	1	1	1	2	1	3	1	1	2	–	2	15
Çarpanlara Ayırma ve Sadeleştirme	3	1	2	2	1	1	–	1	3	1	1	16
Oran-Orantı	2	1	1	1	1	–	1	2	2	1	2	14
Denklem Çözme	1	1	1	1	1	–	–	–	1	2	–	8
Sayı Problemleri	1	2	–	1	1	1	4	1	–	3	4	18
Kesir Problemleri	1	1	1	1	1	1	2	1	1	1	–	11
Yaş Problemleri	1	1	1	–	1	–	–	–	1	1	–	6
İşçi-Havuz Problemleri	1	–	1	1	–	–	–	1	1	1	–	6
Hareket Problemleri	1	1	1	1	–	–	–	–	2	2	–	8
Yüzde, Kâr-Zarar ve Faiz Problemleri	2	2	–	3	2	1	2	2	1	2	2	19
Karışım Problemleri	–	–	1	–	1	1	–	–	1	1	–	5
Grafik Problemleri	2	3	1	3	3	4	3	3	3	3	4	32
Kümeler	–	–	–	–	–	1	–	1	1	–	1	4
İşlem	–	–	–	–	1	–	1	1	1	–	1	5
Modüler Aritmetik	1	–	–	–	–	–	–	–	–	–	–	1
Permütasyon Kombinasyon	–	–	–	1	1	1	–	1	–	–	1	5
Olasılık	–	–	1	1	1	1	1	1	1	1	–	8
<b>TOPLAM</b>	<b>27</b>	<b>26</b>	<b>26</b>	<b>25</b>	<b>24</b>	<b>26</b>	<b>26</b>	<b>27</b>	<b>27</b>	<b>27</b>	<b>26</b>	<b>273</b>

GEOMETRİ SORULARININ DAĞILIMI	2001 KMS	2002 KPSS	2003 KPSS	2004 KPSS	2005 KPSS	2006 KPSS	2007 KPSS	2008 KPSS	2009 KPSS	2010 KPSS	2011 KPSS	TOPLAM
Doğruda Açılar	-	1	-	-	-	-	-	-	-	-	-	1
Üçgende Açılar	1	-	-	-	-	-	1	-	-	-	-	2
Üçgende Açı-Kenar Bağlıntıları	-	-	-	1	-	1	-	-	-	-	1	3
Özel Üçgenler	-	-	-	-	1	-	-	1	1	1	1	5
Açıortay-Kenarortay Bağlıntıları	-	-	1	-	-	-	-	-	-	-	-	1
Üçgende Alan	1	1	-	1	1	-	1	-	-	-	-	5
Üçgende Benzerlik	-	-	1	1	-	-	-	-	-	-	-	2
Dörtgenler	1	1	-	-	2	1	1	1	1	1	1	9
Çember-Daire	-	-	1	-	1	1	-	1	-	-	-	4
Analitik Geometri	-	1	-	1	1	1	-	-	1	-	1	6
Katı Cisimler	-	-	1	1	-	-	1	-	-	1	-	4
<b>TOPLAM</b>	<b>3</b>	<b>4</b>	<b>4</b>	<b>5</b>	<b>6</b>	<b>4</b>	<b>4</b>	<b>3</b>	<b>3</b>	<b>3</b>	<b>4</b>	<b>42</b>

2011 KPSS – Soru: 33

$$\frac{\sqrt{0,36} + \sqrt{1,21} - \sqrt{1,69}}{0,2}$$

işleminin sonucu kaçtır?

- A) 2                      B) 4                      C)  $\frac{5}{2}$   
D)  $\frac{3}{4}$                       E)  $\frac{5}{4}$

CEVAP: A

Konu Anlatımlı Modüler Set

Sayfa: 298 – Soru: 9

$$\frac{\sqrt{0,9} - \sqrt{0,4} + \sqrt{1,6}}{\sqrt{0,1}}$$

işleminin sonucu kaçtır?

- A) 4                      B) 5                      C) 6                      D) 7                      E) 8

CEVAP: B

2011 KPSS – Soru: 34

$$\sqrt[3]{9^{x-2}} = 81$$

olduğuna göre, x kaçtır?

- A) 4                      B) 5                      C) 6                      D) 7                      E) 8

CEVAP: E

TG Deneme Sınavı

Deneme: 11 – Soru: 35

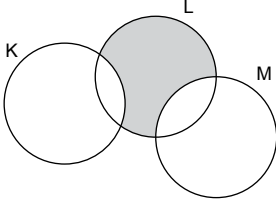
$$\sqrt[5]{3^{\frac{x-1}{2}}} = 3\sqrt{3}$$

olduğuna göre x kaçtır?

- A)  $\frac{9}{2}$                       B)  $\frac{16}{3}$                       C) 10                      D) 16                      E) 18

CEVAP: D

KPSS – Soru: 37



Şemadaki taralı bölgeyi ifade eden küme aşağıdakilerden hangisidir?

- A)  $(L \setminus K) \cap M$   
 B)  $(KL) \cap M$   
 C)  $(KM) \cap (KL)$   
 D)  $(LM) \cap (KL)$   
 E)  $(L \setminus K) \cap (LM)$

CEVAP: E

2011 KPSS – Soru: 38

$$\frac{a^2b + b^2a}{a^2 - b^2} \cdot \frac{a^2 - 2ab + b^2}{ab^2 - a^2b}$$

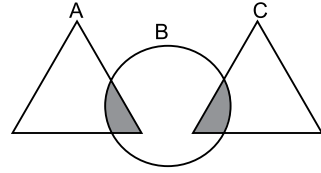
ifadesinin sadeleştirilmiş biçimi aşağıdakilerden hangisidir?

- A) -1                      B) 1                      C) a - b  
 D) a + b                      E) a

CEVAP: A

Muhteşem Soru Bankası

Sayfa: 195 – Soru: 2



A, B, C kümeleri için taralı bölgeyi aşağıdakilerden hangisi ifade eder?

- A)  $(A \cup C) \cap B$                       B)  $(A \cup B) \cup (A \cup C)$   
 C)  $A \cap B \cap C$                       D)  $A \cup (B \cap C)$   
 E)  $C \cup (A \cap B)$

CEVAP: A

TG Deneme

Deneme: 7 – Soru: 36

$$\frac{a^2b + ab^2}{a^2 - b^2} : \frac{a^3}{a^2 - ab}$$

ifadesinin en sade hâli aşağıdakilerden hangisidir?

- A)  $\frac{b}{a}$                       B)  $\frac{1}{a^2}$                       C)  $\frac{a \cdot b}{a - b}$   
 D)  $\frac{1}{a \cdot b}$                       E)  $\frac{a}{b}$

CEVAP: A

2011 KPSS – Soru: 39

$$x \cdot |x - 2| = 1$$

denklemini sağlayan  $x$  değerlerinin toplamı kaçtır?

- A) 1                      B) 2                      C)  $3 - \sqrt{2}$   
D)  $1 + \sqrt{2}$               E)  $2 + \sqrt{2}$

CEVAP: E

Yaprak Test (Dershane)

Test: 12 – Soru: 8

$$|x - 2| \cdot |x + 2| = 1$$

olduğuna göre  $x$  değerleri toplamı kaçtır?

- A)  $-2\sqrt{3}$               B)  $-2\sqrt{5}$               C) 0  
D)  $2\sqrt{3}$               E)  $2\sqrt{5}$

CEVAP: C

2011 KPSS – Soru: 40

Gerçek sayılar kümesi üzerinde  $*$  işlemi

$$a * b = \begin{cases} b^2 - a, & a \leq b \text{ ise} \\ -\frac{b}{2}, & a > b \text{ ise} \end{cases}$$

biçiminde tanımlanıyor.

Buna göre,  $1 * \left[ \frac{1}{2} \cdot (-3) \right]$  işleminin sonucu kaçtır?

- A)  $\frac{1}{2}$                       B)  $\frac{1}{3}$                       C)  $\frac{3}{4}$   
D)  $\frac{5}{4}$                       E)  $\frac{3}{5}$

CEVAP: D

Konu Anlatımlı Modüler Set

Sayfa: 627 – Soru: 7

Reel sayılar kümesi üzerinde " $\Delta$ " işlemi,

$$a \Delta b = \begin{cases} a + b - 1, & a \leq b \text{ ise,} \\ 2a - b, & a > b \text{ ise,} \end{cases}$$

biçiminde tanımlanıyor.

Buna göre  $(2\Delta 1) \Delta 3$  işleminin sonucu kaçtır?

- A) 3                      B) 4                      C) 5                      D) 6                      E) 7

CEVAP: C

2011 KPSS – Soru: 42

5'e bölündüğünde 1 kalanını, 4'e bölündüğünde ise 2 kalanını veren üç basamaklı en büyük doğal sayının rakamları toplamı kaçtır?

- A) 21    B) 22    C) 23    D) 24    E) 25

CEVAP: C

Modüler Soru Bankası

Sayfa: 21 – Soru: 4

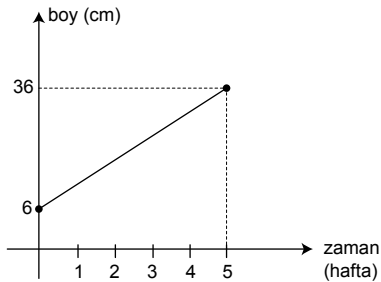
9 ile bölündüğünde 7, 5 ile bölündüğünde 2 kalanını veren iki basamaklı en büyük doğal sayının rakamları toplamı kaçtır?

- A) 12    B) 13    C) 14    D) 15    E) 16

CEVAP: E

2011 KPSS – Soru: 43

Aşağıdaki doğrusal grafik, yeni dikilen bir fidanın ilk beş haftalık sürede boyundaki değişimi göstermektedir. Dikildiği anda 6 cm olan bu fidanın boyu, dikildikten 5 hafta sonra 36 cm olmuştur.



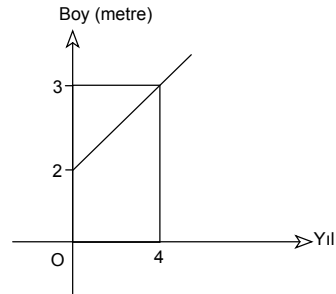
Buna göre, dikildikten 4 hafta sonra bu fidanın boyu kaç cm olmuştur?

- A) 24    B) 26    C) 28    D) 30    E) 32

CEVAP: D

Modüler Soru Bankası

Sayfa: 512 – Soru: 10



Yukarıdaki grafik bir ağacın yıllara göre büyüme miktarını göstermektedir.

Buna göre 10. yılın sonunda ağacın boyu kaç metre olur?

- A) 3,5    B) 4    C) 4,5    D) 5    E) 5,5

CEVAP: C

**2011 KPSS – Soru: 44**

Bir miktar para 8 kişiye eşit olarak paylaştırılıyor. Aynı para 12 kişiye eşit olarak paylaştırılsaydı kişi başına 10 TL daha az para düşecekti.

**Buna göre, paylaştırılan toplam para kaç TL'dir?**

- A) 144    B) 168    C) 192    D) 216    E) 240

**CEVAP: E**

**2011 KPSS – Soru: 45**

Bir sinemada film seyretme ücreti, öğrenciler için 6 TL, öğrenci olmayanlar için ise 8 TL'dir. Bu sinemadan 30 kişi bilet almış ve toplam 214 TL ödemiştir.

**Buna göre, bu 30 kişiden kaç öğrenci bileti almıştır?**

- A) 10    B) 13    C) 15    D) 18    E) 20

**CEVAP: B**

**Modüler Soru Bankası**

**Sayfa: 316 – Soru: 15**

Bir miktar bilye 16 kişi arasında paylaştırılıyor. Eğer bilyeler 12 kişi arasında paylaştırılsaydı kişi başına düşen bilye sayısı 3 fazla olacaktı.

**Buna göre bilye sayısı kaçtır?**

- A) 128    B) 144    C) 156    D) 168    E) 172

**CEVAP: B**

**TG Deneme Sınavı**

**Deneme: 5 – Soru: 44**

Bir kuaför askerleri 4 TL ye sivilleri 5 TL ye tıraş etmektedir.

**Kuaför 18 kişiyi tıraş ettiğine ve 78 TL kazandığına göre kuaför kaç askeri tıraş etmiştir?**

- A) 6    B) 8    C) 10    D) 12    E) 14

**CEVAP: D**

**2011 KPSS – Soru: 46**

Bir bahçedeki kiraz ağaçlarının sayısının 2 katı, erik ağaçlarının sayısının 3 katına eşittir. Kiraz ağaçlarının 8 tanesi, erik ağaçlarının da 7 tanesi kuruyunca kiraz ağaçlarının sayısının 5 katı, erik ağaçlarının sayısının 8 katına eşit oluyor.

**Başlangıçta bu bahçedeki kiraz ağaçlarının sayısı kaçtır?**

- A) 48    B) 52    C) 54    D) 60    E) 64

**CEVAP: A**

**2011 KPSS – Soru: 47**

Bir okuldaki öğrencilerin % 45'i kızdır. Kız öğrencilerin üçte biri, erkek öğrencilerin ise beşte biri siyah saçlıdır.

**Siyah saçlı kız öğrencilerin sayısı, siyah saçlı erkek öğrencilerin sayısından 20 fazla olduğuna göre, bu okulda toplam kaç öğrenci vardır?**

- A) 450    B) 500    C) 520    D) 600    E) 640

**CEVAP: B**

**Sınav Provası****Deneme: 10 – Soru: 49**

Murat'ın parasının üç katı, Musa'nın parasının iki katından 2 TL fazladır. Musa, Murat'a 6 TL verirse, Murat'ın parası Musa'nın parasının iki katından 8 TL eksik oluyor.

**Buna göre Murat'ın parası kaç TL dir?**

- A) 24    B) 20    C) 18    D) 14    E) 10

**CEVAP: D**

**Modüler Soru Bankası****Sayfa: 65 – Soru: 24**

Bir gruptaki insanların % 60'ı bayan bayanların ise % 20'si esmerdir.

**Bu grupta bulunan esmer bayanlar ile esmer erkeklerin sayıları birbirine eşit olduğuna göre grubun yüzde kaçını esmer olmayan erkekler?**

- A) 16    B) 18    C) 20    D) 22    E) 28

**CEVAP: E**

2011 KPSS – Soru: 48

18 kadın ve 24 erkeğin çalıştığı bir iş yerinde kadınların yaş ortalaması 30, erkeklerin yaş ortalaması ise 37 olduğuna göre, tüm çalışanların yaş ortalaması kaçtır?

- A) 33 B) 33,5 C) 34 D) 34,5 E) 35

CEVAP: C

Konu Anlatımlı Modüler Set

Sayfa: 353 – Soru: 25

15 erkek ve 12 kızın bulunduğu bir grupta, erkeklerin yaş ortalaması 27, kızların yaş ortalaması ise 18 dir.

Buna göre grubun yaş ortalaması kaçtır?

- A) 21 B) 22 C) 23 D) 24 E) 25

CEVAP: C

2011 KPSS – Soru: 50

Anne, baba, iki kız ve bir erkek çocuktan oluşan bir aile, biri 3 kişilik diğeri 2 kişilik bir oturma grubuna kız çocuklar yan yana olmak üzere kaç değişik şekilde oturabilir?

- A) 18 B) 20 C) 24 D) 30 E) 36

CEVAP: E

Hey 15'li

Deneme: 8 – Soru: 55

Aralarında Fatma ve Zarif'in de bulunduğu dört kişilik bir grup, iki kişilik iki koltuğun bulunduğu bir odada oturacaktır.

Fatma ve Zarif aynı koltukta oturmak koşuluyla, bu dört kişi odaya kaç farklı şekilde yerleşebilir?

- A) 2 B) 8 C) 12 D) 16 E) 20

CEVAP: B

**2011 KPSS – Soru: 51**

Eni 105 metre, boyu 120 metre olan dikdörtgen biçimindeki bir arsanın tamamı kare biçimindeki eş parsellere ayrılacaktır.

**Buna göre, bu arsa en az kaç parsel ayrılabilir?**

- A) 45    B) 48    C) 50    D) 56    E) 60

**CEVAP: D**

**Muhteşem Soru Bankası**

**Sayfa: 133 – Soru: 19**

Kısa kenarı 50 m, uzun kenarı 80 m olan dikdörtgen şeklindeki bir tarla, hiç boşluk kalmayacak biçimde eşit kare parsellere ayrılacaktır.

**Buna göre en az kaç parsel elde edilir?**

- A) 13    B) 20    C) 24    D) 36    E) 40

**CEVAP: E**

**2011 KPSS – Soru: 54**

Bir grup işçi günde 8 saat çalışarak bir işi 12 günde bitiriyor. Bu gruba 2 kişi katılırsa ve işçiler günde 2 saat daha fazla çalışırsa aynı işi 8 günde bitirebiliyorlar.

**Buna göre, başlangıçta bu grupta kaç işçi vardır?**

- A) 9    B) 10    C) 12    D) 14    E) 15

**CEVAP: B**

**Konu Anlatımlı Modüler Set**

**Sayfa: 347 – Örnek: 16**

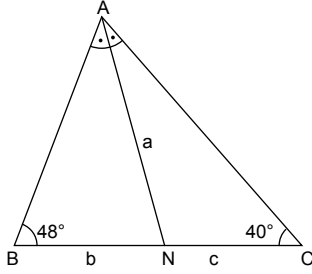
6 tane işçi, günde 8 saat çalışarak bir işi 10 günde bitirebiliyor.

**Buna göre aynı işi 15 işçi, günde 4 saat çalışarak kaç günde bitirebilir?**

- A) 5    B) 6    C) 8    D) 9    E) 10

**CEVAP: C**

## 2011 KPSS – Soru: 55



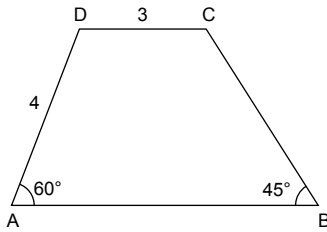
ABC bir üçgen  
 [AN] açıortay  
 $m(\widehat{ABC}) = 48^\circ$   
 $m(\widehat{ACB}) = 40^\circ$   
 $|AN| = a$  birim  
 $|BN| = b$  birim  
 $|CN| = c$  birim

Yukarıdaki verilere göre, a, b ve c arasındaki sıralama aşağıdakilerden hangisidir?

- A)  $a < b < c$                       B)  $a < c < b$   
 C)  $b < a < c$                       D)  $b < c < a$   
 E)  $c < b < a$

CEVAP: C

## 2011 KPSS – Soru: 56



ABCD bir yamuk  
 $DC // AB$   
 $m(\widehat{DAB}) = 60^\circ$   
 $m(\widehat{ABC}) = 45^\circ$   
 $|AD| = 4$  cm  
 $|DC| = 3$  cm

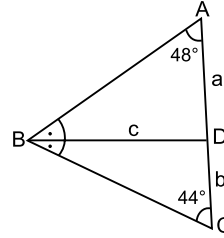
Yukarıdaki verilere göre, ABCD yamuğunun alanı kaç  $cm^2$  dir?

- A)  $7 + 6\sqrt{3}$                       B)  $4 + 8\sqrt{3}$   
 C)  $6 + 8\sqrt{3}$                       D)  $5 + 9\sqrt{3}$   
 E)  $8 + 9\sqrt{3}$

CEVAP: C

## Muhteşem Soru Bankası

Sayfa: 216 – Soru: 9



ABC bir üçgen,  
 [BD] açıortay,  
 $m(\widehat{BAC}) = 48^\circ$   
 $m(\widehat{BCA}) = 44^\circ$

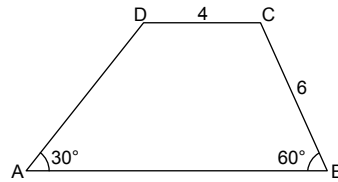
olduğuna göre aşağıdakilerden hangisi doğrudur?

- A)  $a = b = c$                       B)  $b > c > a$   
 C)  $a = b > c$                       D)  $a > b = c$   
 E)  $b = c > a$

CEVAP: C

## Konu Anlatımlı Modüler Set

Sayfa: 250 – Soru: 7



ABCD yamuk  
 $m(\widehat{BAD}) = 30^\circ$   
 $m(\widehat{ABC}) = 60^\circ$   
 $|BC| = 6$  cm  
 $|CD| = 4$  cm dir.

Yukarıdaki verilere göre ABCD dörtgeninin alanı kaç  $cm^2$  dir?

- A)  $24\sqrt{3}$                       B)  $26\sqrt{3}$                       C)  $28\sqrt{3}$   
 D)  $30\sqrt{3}$                       E)  $32\sqrt{3}$

CEVAP: D

*isabetli sorular*

**TARİH**



2011 KPSS – Soru: 1

Aşağıdakilerden hangisi İslamiyetten önce, Türklerde ölen kişinin eşyalarıyla birlikte gömüldüğü mezara verilen addır?

- A) Yuğ                      B) Şad                      C)Kurgan  
D)Toy                      E) Tigin

**CEVAP: C**

Konu Anlatımlı Tarih Kitabı (Renkli)

Sayfa: 31 – Soru: 16

Eski Türk topluluklarında ölülerin gömüldüğü mezarlara verilen isim aşağıdakilerden hangisidir?

- A) Şaman                      B) Kam                      C) Yuğ  
D) Kurgan                      E) Balbal

**CEVAP: D**

2011 KPSS – Soru: 2

Aşağıdakilerden hangisi, Hunların neden olduğu Kavimler Göçü'nün sonuçlarından biri değildir?

- A) Avrupa'nın etnik yapısının değişmesi  
B) Avrupa'da bir Hun Devleti kurulması  
C) Roma İmparatorluğu'nun bütünlüğünü ve üstünlüğünü yitirmesi  
D) Avrupa'da skolastik düşüncenin egemen olması  
E) Göktürk Devleti'nin yıkılması

**CEVAP: E**

Yaprak Test (Dershane)

Test: 1 – Soru: 15

Aşağıdakilerden hangisi Kavimler Göçü'nün sonuçlarından biri değildir?

- A) Avrupa'nın siyasi yapısının değişmesi  
B) Derebeylik rejiminin yıkılması  
C) Roma İmparatorluğu'nun ikiye ayrılması  
D) Avrupa Hun Devleti'nin kurulması  
E) Bugünkü Avrupa milletlerinin temelini atılması

**CEVAP: B**

2011 KPSS – Soru: 4

Aşağıdakilerden hangisi, Türk-İslam devletlerinde pazarlarda fiyatları, tartı ve ölçü aletlerini, üretilen ve satılan malların kalitesini denetleyen görevlidir?

- A) Ulak                      B) Silahtar                      C) İğdişbaşı  
D) Muhtesip                      E) Câmedâr

CEVAP: D

Konu Anlatımlı Tarih Kitabı (Renkli)

Sayfa: 155 – Soru: 18

Osmanlı Devleti'nde çarşı ve pazarlardaki malların denetiminden sorumlu görevli aşağıdakilerden hangisidir?

- A) Muhtesip                      B) Müşir                      C) Müderris  
D) Derterdar                      E) Kadı

CEVAP: A

2011 KPSS – Soru: 6

Osmanlı Devleti'nde 19. yüzyılda güzel sanat dallarında eğitim ve öğretim yapmak üzere açılan ve müdürlüğüne Osman Hamdi Bey'in getirildiği okul aşağıdakilerden hangisidir?

- A) Darülmualimin  
B) Sanayi-i Nefise Mektebi  
C) Galatasaray Sultanisi  
D) Darülfünun  
E) Darülmaarif

CEVAP: B

Modüler Soru Bankası

Sayfa: 96 – Soru: 9

Osmanlı Devleti'nde Sanayi-i Nefise Mektebi aşağıdakilerin hangisi tarafından kurulmuştur?

- A) Şeker Ahmet Paşa  
B) Osman Hamdi Bey  
C) Lagari Hasan Çelebi  
D) Ali Kuşçu  
E) Katip Çelebi

CEVAP: B

## 2011 KPSS – Soru: 7

II. Mahmut, Vak'a-i Hayriye'den sonra, "Bundan böyle saltanatın millet için bir dehşet, bir korku kaynağı değil fakat bir destek olmasını istiyorum. Bunun için ferdin malına el konulması geleneğini kaldırıyorum." demiştir.

**Bu bilgiyle aşağıdakilerden hangisine ulaşılabılır?**

- A) Müsadere usulüne son verildiğine
- B) Sened-i İttifak'ın imzalandığına
- C) Divanihümayundan Bakanlıklar Sistemi'ne geçildiğine
- D) İlk posta teşkilatının oluşturulduğuna
- E) Yeni bir ordunun kurulduğuna

**CEVAP: A**

## TG Deneme Sınavı

Deneme: 8 – Soru: 4

**Osmanlı Devleti'nde uygulanan,**

- I. Müsadere,
- II. Sancak,
- III. Ekber ve Erşed

**sistemlerinden hangileri özel mülkiyetin gelişmesine ve haksız kazanca engel olmuştur?**

- A) Yalnız I
- B) Yalnız II
- C) Yalnız III
- D) I ve II
- E) I, II ve III

**CEVAP: A**

## Konu Anlatımlı Tarih Kitabı (Renkli)

Sayfa: 548 – Soru: 10

**II. Mahmut Dönemi'nde müsadere uygulamasının kısmen kaldırılması ile,**

- I. özel mülkiyetin güvence altına alınması,
- II. kişi haklarına verilen önemin artması,
- III. devletin toprak sisteminde değişiklikler olması

**durumlarından hangilerinin gerçekleştiği söylenebilir?**

- A) Yalnız I
- B) Yalnız II
- C) Yalnız III
- D) I ve II
- E) I, II ve III

**CEVAP: D**

2011 KPSS – Soru: 8

Osmanlı Devleti olası bir Rus saldırısı karşısında ülkesini savunacağı düşüncesiyle aşağıdakilerden hangisinin yönetimini 1878 yılında İngiltere'ye geçici olarak bırakmıştır?

- A) Mısır                      B) Kıbrıs                      C) Rodos  
D) Meis                      E) Kırım

**CEVAP: B**

2011 KPSS – Soru: 10

Aşağıdakilerden hangisi Wilson ilkelerinden biri değildir?

- A) Devletler arasındaki anlaşmazlıkları barış yoluyla çözecek bir teşkilat kurulması  
B) Yenilen devletlerin, yenilen devletlerden toprak almaması  
C) Yenilen devletlerin, yenilen devletlere savaş tazminatı ödemesi  
D) Boğazların her devletin ticaret gemilerine açık olması  
E) Devletler arasında gizli anlaşmalar yapılmaması

**CEVAP: C**

Konu Anlatımlı Tarih Kitabı (Renkli)

Sayfa: 223 – Soru: 16

Ayastefanos Antlaşması'ndan sonra, Osmanlı Devleti ile İngiltere arasında yapılan gizli antlaşmada İngiltere, Osmanlı Devleti'ne Rus tehdidi altında olduğunu söyleyerek, bu tehditten kurtulmak için yapacağı yardım karşılığında, aşağıdaki yerlerden hangisinin kendisine bırakılmasını istemiş olabilir?

- A) Kıbrıs                      B) Musul                      C) Batum  
D) Girit                      E) Kerkük

**CEVAP: A**

Konu Anlatımlı Tarih Kitabı (Renkli)

Sayfa: 508 – Soru: 11

Wilson İlkelerinde yer alan bazı maddeler şunlardır:

- Yenilenlerden toprak alınmayacak,
- Gizli antlaşmalar geçersiz sayılacak,
- Milletler kaderlerini serbestçe tayin edecek

Buna göre Wilson İlkeleri'nin aşağıdakilerden hangisine karşı olduğu söylenebilir?

- A) İmparatorlukların dağılmasına  
B) Dünya barışının sağlanmasına  
C) Uluslararası ticaretin gelişmesine  
D) Ulusal devletlerin kurulmasına  
E) Sömürgeciliğin sürdürülmesine

**CEVAP: E**

## 2011 KPSS – Soru: 11

- I. İslam Teâli Cemiyeti
- II. İngiliz Muhipleri Cemiyeti
- III. Sulh ve Selâmet-i Osmaniye Fırkası

**Yukarıdakilerden hangileri ulusal mücadeleye karşı çıkmıştır?**

- A) I, II ve III
- B) II ve III
- C) I ve II
- D) Yalnız III
- E) Yalnız I

**CEVAP: A**

## TG Deneme Sınavı

## Deneme: 9 – Soru: 11

**Hakan Öğretmenin** “Kurtuluş Savaşı’nda Millî Mücadele’yi destekleyen cemiyet hangisidir?” **sorusuna karşılık, Hatice aşağıdakilerden hangisini söylese doğru bir cevap vermiş olur?**

- A) Sulh ve Selameti Osmaniye Fırkası
- B) İslam Teali Cemiyeti
- C) Kilikyalılar Cemiyeti
- D) İttihat ve Terakki Cemiyeti
- E) Nigâhban Cemiyeti

**CEVAP: C**

## 2011 KPSS – Soru: 12

**İstanbul’un Anlaşma Devletleri tarafından işgal edilmesi ve Mebuslar Meclisinin dağılmasına aşağıdakilerden hangisinin neden olduğu savunulabilir?**

- A) İstanbul Hükûmetiyle Temsilciler Kurulunun görüşme yapması
- B) Ali Fuat Paşa’nın Kuvayımillîye Komutanlığına atanması
- C) Hükûmet üyelerinin Meclis dışından seçilmesi
- D) Misakımillî’nin ilan edilmesi
- E) Erzurum’da kongre toplanması

**CEVAP: D**

## Modüler Soru Bankası

## Sayfa: 72 – Soru: 10

**Aşağıdaki gelişmelerden hangisinin yaşanması üzerine İtilaf Devletleri İstanbul’u resmen işgal etmiştir?**

- A) Sivas Kongresi’nin toplanması
- B) Mustafa Kemal’in Samsun’a çıkması
- C) Sultan Ahmet Mitingi’nin düzenlenmesi
- D) TBMM’nin açılması
- E) Misakımillî kararlarının onaylanması

**CEVAP: E**

2011 KPSS – Soru: 13

Aşağıdakilerden hangisi Gümrü Antlaşması'yla sağlanan kazanımlardan biri değildir?

- A) Gürcistan'la olan anlaşmazlıkların ortadan kaldırılmasına zemin hazırlaması
- B) Doğu Cephesi'ndeki silah ve teçhizatın bir kısmının batıya taşınmasına ortam hazırlaması
- C) Halk arasında orduya ve Meclise duyulan güvenin artması
- D) Sovyetlerden alınacak yardımların Anadolu'ya gelmesini sağlayacak yolun açılması
- E) Afganistan'la dostluk anlaşması yapılması

CEVAP: E

2011 KPSS – Soru: 14

**Atatürk**, "Bu anlaşma, Türk ulusuna karşı yüzyıllardan beri hazırlanmış ve Sevr Antlaşması ile tamamlandığı sanılmış, büyük bir suikastın yıkılışını bildiren bir belgedir. Osmanlı tarihinde benzeri görülmemiş bir siyasal zafer yapıtıdır." sözünü aşağıdakilerden hangisi için kullanmıştır?

- A) Mudanya Ateşkes Antlaşması
- B) Moskova Antlaşması
- C) Ankara Antlaşması
- D) Lozan Antlaşması
- E) Montrö Boğazlar Sözleşmesi

CEVAP: D

TG Deneme Sınavı

Deneme: 5 – Soru: 18

Aşağıdakilerden hangisinin Gümrü Antlaşması'nın sonuçlarından biri olduğu söylenemez?

- A) Kars ve çevresi Ermenilerden alınmıştır.
- B) Doğudaki askerî birliklerin batıya aktarılmasının yolu açılmıştır.
- C) Doğu sınırı ilk kez şekillenmiştir.
- D) Ermeniler Doğu Anadolu'daki toprak taleplerinden vazgeçmişlerdir.
- E) Ardahan, Artvin ve Batum TBMM'ye bırakılmıştır.

CEVAP: E

Sınav Provası

Deneme: 3 – Soru: 19

**Mustafa Kemal'in** "... Türk milleti aleyhine asırlardan beri hazırlanmış ve Sevr Antlaşması ile tamamlandığı zannedilmiş büyük bir suikastın çöküşünü ifade eden bir belgedir..." diye ifade ettiği gelişme aşağıdakilerden hangisidir?

- A) Mudanya Ateşkes Antlaşması ile Yunan işgalinin sonlandırılması
- B) Londra Konferansı'nda TBMM'nin varlığının resmen tanınması
- C) Saltanatın kaldırılması
- D) Lozan Antlaşması'nın imzalanması
- E) Yunanistan'dan savaş tazminatı olarak Karaağaç'ın alınması

CEVAP: D

## 2011 KPSS – Soru: 15

Aşağıdakilerden hangisi, Tevhid-i Tedrisat Kanunu'nun (Öğretim Birliği) sonuçlarından biri değildir?

- A) Öğretim ilkelerinde birlik sağlanması
- B) Genel eğitim kurumlarının Millî Eğitim Bakanlığı'na bağlanması
- C) İlk Maarif Kongresi'nin düzenlenmesi
- D) Ulusal kültür birliğinin sağlanması için ortam hazırlanması
- E) Dinî esaslara dayalı eğitim anlayışının terk edilmesi

CEVAP: C

## TG Deneme Sınavı

Deneme: 6 – Soru: 23

Tevhid-i Tedrisat Kanunu ile aşağıdakilerden hangisinin amaçlandığı savunulamaz?

- A) Laik eğitim sistemini oluşturma
- B) Eğitim sisteminde bütünlüğü sağlama
- C) Yeni Türk harflerinin öğrenimini yaygınlaştırma
- D) Çağdaş eğitim modellerini uygulama
- E) Eğitimde fırsat eşitliğini sağlama

CEVAP: C

## 2011 Soru Bankası

Sayfa: 428 – Soru: 18

Aşağıdakilerden hangisi Öğretim Birliği Kanunu'nun amaçları arasında gösterilemez?

- A) Eğitim alanındaki ikiliği sona erdirmeye
- B) Toplumsal bütünlüğü güçlendirme
- C) Yabancı okulların varlığını sona erdirmeye
- D) Eğitimi laik temeller üzerinde şekillendirme
- E) Ulusal kültürü geliştirme

CEVAP: C

## 2011 KPSS – Soru: 18

Atatürk Nutuk'ta, "Takrir-i Sükûn Kanunu ile İstiklal Mahkemelerini, istibdat vasıtası olarak kullanacağımız fikrini ortaya atanlar ve bu fikri telkine çalışanlar oldu... Biz olağanüstü olarak alınan ve fakat yasal olan önlemleri hiçbir vakit ve hiçbir surette, kanunun üzerine çıkmak için vasıta olarak kullanmadık." demiştir.

**Atatürk'ün bu anlatımıyla, Takrir-i Sükûn Kanunu'nun kabul edilmesi ve İstiklal Mahkemelerinin kurulmasında aşağıdakilerden hangisini gerektirir?**

- A) Devletin hayat ve bağımsızlığını sağlama
- B) Milletin medeni ve sosyal gelişmesine ilişkin girişimleri koruma
- C) Ülkenin düzen ve güvenliğini sağlama
- D) Tehlikelere karşı önlem alma zorunluluğu
- E) Uluslararası ilişkileri düzenleme zorunluluğu

CEVAP: E

## 2011 KPSS – Soru: 19

**Aşağıdakilerden hangisi Teşvik-i Sanayi Kanunu'nun uygulamalarından biri değildir?**

- A) Çeşitli sanayi kuruluşlarına devlet arazisi tahsis edilmesi
- B) Bazı işletmelere taşıma hizmetlerinde indirim sağlanması
- C) Millî tasarruf ve mevduatın artması için Türkiye İş Bankasının kurulması
- D) Vergilerde muafiyetler getirilmesi
- E) Devlet daireleri için yerli ürün kullanma zorunluluğunun getirilmesi

CEVAP: C

## TG Deneme Sınavı

## Deneme: 1 – Soru: 24

Atatürk "Biz olağanüstü olarak alınan ve fakat kanuni olan tedbirleri, hiçbir vakit ve hiçbir suretle kanunun üstüne çıkmak için vasıta olarak kullanmadık, aksine memlekette düzen ve güvenlik kurmak için uyguladık; devletin hayat ve bağımsızlığını temin için kullandık." demiştir.

**Atatürk bu açıklamasıyla aşağıdaki gelişmelerin hangisiyle ilgili zorunluluğa vurgu yapmıştır?**

- A) Medeni Kanun'un kabul edilmesi
- B) Takrir-i Sükûn Kanunu'nun çıkarılması
- C) Yeni Türk harflerinin kabul edilmesi
- D) Şapka giyilmesi hakkında kanun çıkarılması
- E) Âşar vergisinin kaldırılması

CEVAP: B

## Sınav Provası

## Deneme: 8 – Soru: 13

**Aşağıdakilerden hangisi, Teşvik-i Sanayi Kanunu'nun kapsamında yer almaktadır?**

- A) Türk parasının değerini korumak
- B) Özel sektörü desteklemek
- C) Ekonomi enstitüleri oluşturmak
- D) II. Beş Yıllık Kalkınma Planı'nı uygulamak
- E) Farklı ekonomi politikalarını incelemek

CEVAP: B

2011 KPSS – Soru: 20

**Türk İnkılabı'nın,**

- I. belli bir ideolojiye bağlı olarak ortaya çıkma,
- II. başka uluslara örnek olma,
- III. tek kişinin egemenliğine dayalı ülke idaresini değiştirme

**durumlarının, hangileri bakımından Rus İnkılabı'ndan farklı olduğu savunulabilir?**

- A) Yalnız I      B) Yalnız II      C) Yalnız III  
D) I ve II      E) II ve III

**CEVAP: A**

**Yaprak Test (Çek Kopart)**

**Test: 44 – Soru: 1**

**Aşağıdakilerden hangisi Türk inkılabının genel özellikleri arasında gösterilemez?**

- A) Bağımsızlık esas alınarak gerçekleştirilmiştir.  
B) Türk milletinin temel ihtiyaçlarından doğmuştur.  
C) Halkın temsilcileri tarafından halka mal edilmiştir.  
D) Doğu kültürü örnek alınarak gerçekleştirilmiştir.  
E) Evrensel özelliğe sahip bir harekettir.

**CEVAP: D**

2011 KPSS – Soru: 21

- Soyadı Kanunu'nun kabul edilmesi
- Medreselerin kapatılması
- Medeni Kanun'un kabul edilmesi

**Yukarıdaki gelişmeler aşağıda verilen Atatürk ilkelerinden hangisiyle ilişkilendirilemez?**

- A) Laiklik      B) Devletçilik  
C) Milliyetçilik      D) Halkçılık  
E) İnkılapçılık

**CEVAP: B**

**Konu Anlatımlı Modüler Set**

**Sayfa: 396 – Soru: 10**

- Saltanatın kaldırılması
- Türk Tarih Kurumunun kurulması
- Medreselerin kapatılması
- Kadınlara siyasi hakların verilmesi

**Yukarıda verilen inkılaplar, ilgili oldukları ilkeler ile eşleştirildiğinde aşağıdakilerden hangisi dışarıda kalır?**

- A) Cumhuriyetçilik      B) Laiklik  
C) Milliyetçilik      D) Devletçilik  
E) Halkçılık

**CEVAP: D**

2011 KPSS – Soru: 22

Aşağıdakilerden hangisinin sosyal hayattaki ayrıcalıkları önlemek amaçlı olduğu savunulamaz?

- A) Tekke ve zaviyelerin kapatılması
- B) Hacı, ağa, hafız, molla gibi unvanların kaldırılması
- C) Medeni Kanun'un kabul edilmesi
- D) Devlet İstatistik Enstitüsünün kurulması
- E) Dinî giysilerin mabetler dışında giyilmesinin yasaklanması

**CEVAP: D**

Modüler Soru Bankası

Sayfa: 192 – Soru: 7

Aşağıdakilerden hangisi sosyal alanda yapılan inkılaplar arasında gösterilemez?

- A) Tevhid-i Tedrisat Kanunu'nun çıkarılması
- B) Kılık-Kıyafet Kanunu'nun çıkarılması
- C) Soyadı Kanunu'nun çıkarılması
- D) Tekke, zaviye ve türbelerin kapatılması
- E) Takvim, saat ve ölçülerde değişiklik yapılması

**CEVAP: A**

## 2011 KPSS – Soru: 24

Mustafa Kemal, “Artık hükümet ile millet arasında mazideki ayrılık kalmamıştır. Hükümet millettir ve millet hükümettir. Artık hükümet ve hükümet mensupları kendilerinin milletten ayrı olmadıklarını ve milletin efendi olduğunu tamamen anlamışlardır.” demiştir.

**Mustafa Kemal’in bu anlatımıyla aşağıdaki kavramlardan hangisini vurguladığı savunulabilir?**

- A) Tam bağımsızlık
- B) Barışseverlik
- C) Bilimsellik
- D) Millî birlik ve beraberlik
- E) Vatanseverlik

**CEVAP: D**

## TG Deneme Sınavı

## Deneme: 8 – Soru: 19

Atatürk “Millet ve biz yok, birlik hâlinde millet var. Biz ve millet ayrı ayrı şeyler değiliz. Ve şunu kat’î olarak söyleyebilirim ki, bir millet, varlığı ve bağımsızlığı için her şeye girişir ve bu gaye uğrunda her fedakârlığı yaparsa muvaffak olmaması mümkün değildir. Elbette muvaffak olur. Muvaffak olamaz ise o millet ölmüş demektir.” demiştir.

**Atatürk’ün bu anlatımıyla,**

- I. milletin tek bir vücut hâline getirilmesinin gerekliliği,
- II. bir milletin diğer bir milleti hor görmemesi,
- III. bir milletin huzur ve mutluluğunun diğer milletlerin huzur ve mutluluğuyla ilişkili olması

**durumlarından hangilerini vurguladığı savunulabilir?**

- A) Yalnız I
- B) Yalnız II
- C) I ve II
- D) II ve III
- E) I, II ve III

**CEVAP: A**

## Konu Anlatımlı Modüler Set

## Sayfa: 377 – Soru: 1

**Mustafa Kemal’e ait olan “Hükümet millet, millet hükümettir.” sözü aşağıdaki bütünleyici ilkelere hangisiyle doğrudan ilgilidir?**

- A) Çağdaşlık
- B) İnsan sevgisi
- C) Ulusal egemenlik
- D) Bilimsellik
- E) Ulusal birlik

**CEVAP: C**

## 2011 KPSS – Soru: 26

Aşağıdakilerden hangisi, Atatürk Döneminde tarımı geliştirmek amacıyla yapılan çalışmalardan biri değildir?

- A) Âşar vergisinin kaldırılması
- B) Ziraat Bankasının kurulması
- C) Numune çiftliklerinin kurulması
- D) Yüksek Ziraat Enstitüsünün kurulması
- E) Tarım satış kooperatiflerinin kurulması

CEVAP: B

## TG Deneme Sınavı

Deneme: 1 – Soru: 25

Atatürk Dönemi Türkiye ekonomisinde,

- I. Ziraat Bankasının kredi olanaklarının artırılması,
- II. Âşar vergisinin kaldırılması,
- III. Kabotaj Kanunu'nun çıkarılması

durumlarından hangileriyle tarımsal üretimi artırmanın amaçlandığı savunulabilir?

- A) Yalnız I
- B) Yalnız II
- C) Yalnız III
- D) I ve II
- E) I, II ve III

CEVAP: D

## Modüler Soru Bankası

Sayfa: 121 – Soru: 15

Aşağıdakilerden hangisi Atatürk Döneminde kurulan kurumlardan biri değildir?

- A) Sanayi ve Maadin Bankası
- B) Devlet Demir Yolları
- C) Emlak ve Eytam Bankası
- D) Devlet İstatistik Enstitüsü
- E) Ziraat Bankası

CEVAP: E

2011 KPSS – Soru: 29

Aşağıdakilerden hangisi, Lozan Antlaşması imzalandıktan sonra Türkiye ile Fransa arasında gerginliğe sebep olan konulardan biri değildir?

- A) Osmanlı borçları
- B) Yabancı okullar
- C) Adana-Mersin demir yolları
- D) Bozkurt-Lotus davası
- E) Oniki Ada'nın silahlandırılması

CEVAP: E

2011 KPSS – Soru: 30

Türkiye'nin Milletler Cemiyetine üye olmasında aşağıdakilerden hangisinin etkisi olduğu savunulamaz?

- A) Boğazlar sorununun barışçıl bir tutumla çözülmesi
- B) Avrupa'daki gruplaşmanın belirgin bir hâl alması
- C) Türkiye'nin Batılı devletlerle sorunlarına barışçıl çözüm araması
- D) Türkiye'nin uluslararası politikada öneminin artması
- E) Türkiye'nin komşularıyla dostluk antlaşmaları imzalaması

CEVAP: A

TG Deneme Sınavı

Deneme: 1 – Soru: 26

- I. Bozkurt-Lotus Olayı
- II. Osmanlı borçlarının ödenme şekli
- III. Yabancı Okullar

Türkiye ile Fransa arasında yukarıdaki konulardan hangileriyle ilgili olarak yaşanan sorun Atatürk zamanındadır?

- A) Yalnız I
- B) Yalnız III
- C) I ve II
- D) II ve III
- E) I, II ve III

CEVAP: E

TG Deneme Sınavı

Deneme: 9 – Soru: 30

Aşağıdakilerden hangisi Türkiye'nin Milletler Cemiyetine üye olmasından sonra yaşanan gelişmelerden biri değildir?

- A) Boğazlar Komisyonunun kaldırılması
- B) Yunanistan ile Nüfus Mübadelesi Sorunu'nun çözülmesi
- C) Hatay'ın ana vatana katılması
- D) Türkiye'nin Kore'ye asker göndermesi
- E) Türkiye'nin Balkan Antantı'na üye olması

CEVAP: B

ÖSYM

*isabetli sorular*

İHTİYAÇ  
YAYINCILIK

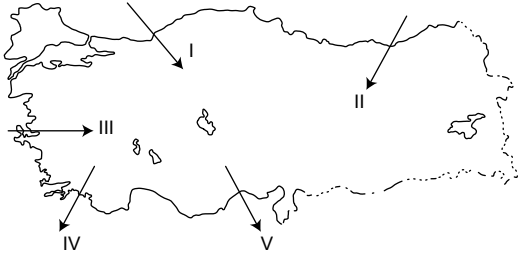
*isabetli sorular*

**COĞRAFYA**



## 2011 KPSS – Soru: 31

Televizyonda hava durumunu aktaran sunucu, Türkiye kıyılarında rüzgârın karayel ve poyrazdan saatte 50-60 kilometre hızla estiğini söylemiştir.



Buna göre, haritada numaralanmış rüzgârlardan hangisinin esiş yönü yanlış verilmiştir?

- A) I    B) II    C) III    D) IV    E) V

CEVAP: C

## 2011 KPSS – Soru: 32

- I. Topraklarının mineral bakımından genellikle zengin olması
- II. Turizm açısından önemli yer şekillerine sahip olması
- III. Aktif volkanların bulunması
- IV. Fay hatları ve püskürük kayaların olduğu yerlerde bulunması

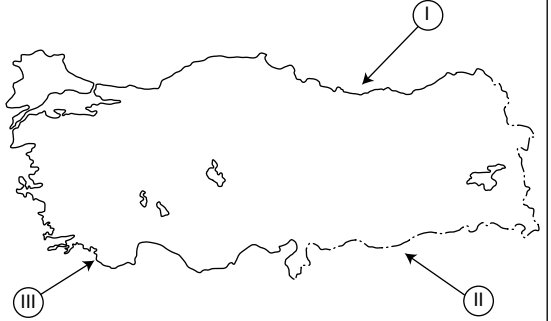
Yukarıdakilerden hangileri Türkiye'deki volkanik arazilerin tümü için ortak bir özelliktir?

- A) I ve II    B) I ve IV    C) II ve III  
D) II ve IV    E) III ve IV

CEVAP: B

## Yaprak Test (Dershane)

## Test: 5 – Soru: 7



Haritada numaralanmış rüzgârlardan hangileri sıcak ve nemli karakterlidir?

- A) Yalnız I    B) Yalnız II    C) Yalnız III  
D) I ve II    E) II ve III

CEVAP: C

## Mini Zopzor Soru Bankası

## Syf: 151 – Soru: 12

Türkiye'deki volkanik dağlar Doğu Anadolu Bölgesi'nde Van Gölü çevresinde ve İç Anadolu Bölgesi'nin güneydoğusunda toplanmıştır.

Volkanik dağların coğrafi dağılışı ile aşağıdakilerden hangisi arasında daha yakın ilgi kurulabilir?

- A) Jeolojik özellikleriyle  
B) Toprak özellikleriyle  
C) Jeomorfolojik özellikleriyle  
D) Ortalama yükseltileriyle  
E) İklim özellikleriyle

CEVAP: D

## 2011 KPSS – Soru: 33

Türkiye'nin coğrafi bölgeleri belirlenirken fiziki, beşerî ve ekonomik özellikler göz önünde bulundurulmuştur. Fiziki özellikler içerisinde de yer şekilleri belirleyici olmuştur.

**Buna göre, Ege Bölgesi'nin sınırlarının, diğer kıyı bölgelerinin aksine iç kesimlere daha fazla sokulması, bölgedeki dağların hangi özelliğiyle açıklanabilir?**

- A) Kıyı çizgisine uzanış doğrultularıyla
- B) Yükselti değerleriyle
- C) Kayaç özellikleriyle
- D) Oluştukları dönemle
- E) Üzerlerindeki doğal bitki örtüsüyle

CEVAP: A

## 2011 KPSS – Soru: 34

**Aşağıda belirtilen dönem ve olayların hangisi, Türkiye'de nüfus artış hızının azalmasında daha az etkili olmuştur?**

- A) 1918-1923 döneminde savaşların yaşanması
- B) 1940-1945 döneminde II. Dünya Savaşı nedeniyle seferberlik ilan edilmesi
- C) 1960-1965 döneminde özellikle yetişkin erkek nüfusun işçi olarak yurt dışına gitmesi
- D) 1970-1980 döneminde kırsal kesimden kentlere olan iç göçün yoğunluk kazanması
- E) 1985-2010 döneminde eğitim seviyesinin yükselmesi ve kadınların iş hayatına daha fazla katılması

CEVAP: D

## Mini Zopzor Soru Bankası

## Syf: 75 – Soru: 5

**Ege Bölgesi'nde Türkiye'de dağların doğu - batı doğrultusunda uzanması;**

- I. iklimin yayılış alanı,
- II. kıyıların gerçek ve kuş uçuşu uzunluğu arasındaki farkı,
- III. kıyılardaki yıllık sıcaklık farkları,
- IV. iç kesimlerle olan ulaşımı,
- V. koy ve körfez sayısı

**özelliklerinden hangisini etkilememiştir?**

- A) I      B) II      C) III      D) IV      E) V

CEVAP: C

## Konu Anlatımlı Modüler Set

## Syf: 139 – Soru: 1

**Aşağıda verilenlerden hangisinin Türkiye'nin nüfusunu etkilediği söylenemez?**

- A) 1939 yılında Hatay'ın Anavatana katılması
- B) 1980 yılından sonra doğu illerimizden batı illerimize yapılan göçler
- C) 1960 yılından sonra Avrupa ülkelerine yapılan göçler
- D) Kurtuluş Savaşı'ndan sonra Yunanistan ile yapılan mübadele antlaşması
- E) 1990 yılında Bulgaristan'dan Türkiye'ye yapılan göçler

CEVAP: B

## 2011 KPSS – Soru: 35

**Türkiye’de 1950 yılından sonra etkili olmaya başlayan iç göçlerle ilgili olarak aşağıdakilerden hangisi söylenemez?**

- A) Denize kıyısı olan coğrafi bölgelerin tümünde nüfus artışının başlıca nedeni bölge dışından alınan göçlerdir.
- B) İç göçlerin önemli bir bölümü ekonomik ve sosyal alanlardaki değişimler ve doğal afetler gibi nedenlerle olmaktadır.
- C) Göç hareketi daha çok doğudan batıya doğru olmaktadır.
- D) Göç veren illerde doğum oranı genellikle yüksektir.
- E) Türkiye’de nüfus hareketlerinin büyük çoğunluğunu iç göçler oluşturmaktadır.

CEVAP: A

## 2011 KPSS – Soru: 36

Aşağıda beş ile ait bazı beşerî ve ekonomik özellikler verilmiştir:

- I. Bolu’da kümes hayvancılığının yaygınlaşması
- II. Kars’ta kış turizminin gelişmesi
- III. Elazığ’da Keban Barajı’nın işletmeye açılması
- IV. Eskişehir’in bir üniversite ve kültür kenti olması
- V. Burdur’da İnsuyu Mağarası’nın turizme açılması

**Buna göre, yukarıdaki illere ait beşerî ve ekonomik özelliklerden hangisi, o ilin sosyoekonomik yapısında diğerlerine göre daha büyük değişime neden olmuştur?**

- A) I
- B) II
- C) III
- D) IV
- E) V

CEVAP: D

## Modüler Soru Bankası

Syf: 360 – Soru: 1

Yurdumuzda yaşanan göç hareketleri çeşitli sosyal ve ekonomik sorunlara yol açmaktadır. Kentlere göç eden ve ekonomik durumu iyi olmayan yurttaşlarımız konut sorunlarını geçekondü yaparak çözmeye çalışmaktadır.

**Bu durumun aşağıdaki sorunlardan hangisine yol açtığı söylenemez?**

- A) Yerleşmeye uygun olmayan yerlerin yerleşmeye açılması
- B) Sanayi tesislerinin şehrin içinde kalması
- C) Alp yapı hizmetlerinin aksaması
- D) Eğitim ve sağlık hizmetlerinin aksaması
- E) Planlı büyümenin sağlanması

CEVAP: E

## 2011 Soru Bankası

Syf: 451 – Soru: 3

**Karabük, İskenderun, Manisa, Gaziantep ve Kırıkkale gibi kentlerde yaşanan nüfus artışında aşağıdakilerden hangisi daha fazla etkilidir?**

- A) Sanayinin gelişmiş olması
- B) Ulaşım olanaklarının fazla olması
- C) Verimli tarım arazilerinin bulunması
- D) Madencilik gelişme kaydetmesi
- E) Doğal nüfus artışının yüksek olması

CEVAP: A

2011 KPSS – Soru: 37

Aşağıdakilerden hangisi Kocaeli, Bursa ve Sakarya illerinin ortak özellikleri arasında yer almaz?

- A) Nüfus yoğunluklarının Türkiye ortalamasının üzerinde olması
- B) Ulaşım olanaklarının gelişmiş olması
- C) Petrokimya endüstrisinin gelişmiş olması
- D) Dışarıdan göç alması
- E) Aynı coğrafi bölgede topraklarının bulunması

CEVAP: C

2011 KPSS – Soru: 38

Ege Bölgesi'nin elektrik üretimi göz önüne alındığında,

- I. akarsu,
- II. linyit,
- III. rüzgâr,
- IV. jeotermal

enerji kaynaklarından hangilerinin payı daha fazladır?

- A) I ve II
- B) I ve III
- C) II ve III
- D) II ve IV
- E) III ve IV

CEVAP: A

Hey 15'li

Deneme: 2 – Soru: 43

- İstanbul
- Eskişehir
- Kayseri
- Gaziantep

Yukarıda verilen kentlerin ortak özelliği aşağıdakilerden hangisidir?

- A) Maden sanayisi gelişmiştir.
- B) Yaz mevsiminde mevsimlik işçi göçü alır.
- C) Yağ sanayisi gelişmiştir.
- D) Önemli ticaret yolları üzerinde bulunur.
- E) Turizm faaliyetlerinden elde ettiği gelir diğer ekonomik faaliyetlerden fazladır.

CEVAP: D

Yaprak Test (Çek Kopart)

Test: 23 – Soru: 7

Ege Bölgesi'nde

- I. hidroelektrik,
- II. termik elektrik,
- III. rüzgâr enerjisi,
- IV. jeotermal enerjisi,
- V. güneş enerjisi

kaynaklarından hangileriyle yapılan elektrik üretimi diğerlerinden daha azdır?

- A) I
- B) II
- C) III
- D) IV
- E) V

CEVAP: E

## 2011 KPSS – Soru: 39

Güneydoğu Anadolu Projesi'nin hayata geçirilmesi, bu bölgede yoğun olarak yetiştirilen ürünlerden hangisinin üretim miktarının artmasında daha etkili olmuştur?

- A) Antep fıstığı                      B) Kırmızı mercimek  
C) Pamuk                                D) Tütün  
E) Buğday

CEVAP: C

## Yaprak Test (Dershane)

## Test: 26 – Soru: 3

GAP'ın devreye girmesiyle Güneydoğu Anadolu Bölgesi'nde aşağıda verilen ürünlerin hangisinin üretimindeki artış oranı en fazla olmuştur?

- A) Mercimek    B) Buğday    C) Karpuz  
D) Pamuk        E) Üzüm

CEVAP: D

## 2011 KPSS – Soru: 40

Akdeniz Bölgesi'nin dağlık ve platoluk kesimlerinin jeomorfolojik özellikleri,

- I. yaylacılık,  
II. ticaret,  
III. turizm,  
IV. ulaşım

etkinliklerinden hangilerini olumlu yönde etkilemiştir?

- A) I ve II                      B) I ve III                      C) II ve III  
D) II ve IV                      E) III ve IV

CEVAP: B

## 2011 Soru Bankası

## Syf: 465 – Soru: 12

- Kış turizmi
- Yayla turizmi
- Deniz turizmi
- Kültür turizmi

Yukarıda verilen turizm etkinliklerinin tamamı aşağıdaki bölgelerden hangisinde yapılabilmektedir?

- A) Marmara Bölgesi                      B) Ege Bölgesi  
C) Akdeniz Bölgesi                      D) İç Anadolu Bölgesi  
E) Doğu Anadolu Bölgesi

CEVAP: C

## 2011 KPSS – Soru: 41

Türkiye’de tarımda makineleşme ne kadar yaygınlaşırsa yaygınlaşsın yine de bazı ürünlerin yetiştirilmesinde insan emeğine duyulan yoğun gereksinim devam edecektir.

**Bu yargının doğruluğunu kanıtlamak için öncelikle,**

- I. çeltik,
- II. buğday,
- III. çay,
- IV. mısır

**ürünlerinden hangilerinin yetiştirilme koşulları örnek gösterilebilir?**

- A) I ve II
- B) I ve III
- C) I ve IV
- D) II ve III
- E) III ve IV

**CEVAP: B**

## 2011 KPSS – Soru: 42

- I. Orman örtüsünün zengin olması
- II. Tarla tarımına elverişli alanların sınırlı olması
- III. Yaz kuraklığının az görülmesi
- IV. Dağınık yerleşmenin yaygın olması

**Yukarıdakilerden hangileri, Doğu Karadeniz Bölümü’nde büyükbaş hayvancılığın önemli bir ekonomik etkinlik olmasının nedenidir?**

- A) I ve II
- B) I ve III
- C) II ve III
- D) II ve IV
- E) III ve IV

**CEVAP: C**

## Modüler Soru Bankası

## Syf: 141 – Soru: 7

Türkiye’de makineli tarım artış göstermesine rağmen aşağıdaki tarım ürünlerinden hangisinin üretiminin yapıldığı alanda tarım işçisine duyulan ihtiyaç hâlen daha fazladır?

- A) Buğday
- B) Çay
- C) Şeker pancarı
- D) Mercimek
- E) Ayçiçeği

**CEVAP: B**

## TG Deneme Sınavı

## Deneme: 1 – Soru: 38

Doğu Anadolu ve Karadeniz, Türkiye’de büyükbaş hayvancılığın en çok geliştiği bölgelerdir.

**Bu durumun her iki bölgede de görülmesinde;**

- I. çayır ve meraların geniş yer tutması,
- II. ulaşım zorluklarının görülmesi,
- III. yaz yağışlarının etkili olması,
- IV. tarımsal nüfus yoğunluğunun fazla olması

**özelliklerinden hangileri etkili olmuştur?**

- A) I ve II
- B) I ve III
- C) II ve III
- D) II ve IV
- E) III ve IV

**CEVAP: B**

## 2011 KPSS – Soru: 43

İzmir'in merkez ilçesine bağlı bir köye kara yoluyla ulaşabilmek için ortalama on kilometre yol almak gerekirken Kütahya'da kuş uçuşu mesafesi aynı olan bir köye on beş kilometre yol almak gerekmektedir.

**Bu durum, aşağıdakilerden hangisiyle açıklanabilir?**

- A) Yerleşme birimlerinin sıklığıyla
- B) Doğal bitki örtüsünün farklılığıyla
- C) İklim koşullarının farklılığıyla
- D) Tarım alanlarının genişliğiyle
- E) Yer şekillerinin engebeliğiyle

CEVAP: E

## 2011 KPSS – Soru: 44

Ülke sınırları içerisinde bölge, bölüm ve yöreler arasında yapılan ticarete "iç ticaret" denir.

**Buna göre, Türkiye'de hareketli bir iç ticaretin olması aşağıdakilerden hangisiyle ilgili değildir?**

- A) Endüstri kuruluşlarının belirli bölgelerde toplanmasıyla
- B) Bölgeler arasında yetişen tarım ürünlerinin farklı olmasıyla
- C) Nüfus artış hızının yüksek olmasıyla
- D) İnsanların satın alma gücünün artmasıyla
- E) Bölgelerin yüz ölçümlerinin farklı olmasıyla

CEVAP: E

## Mini Zopzor Soru Bankası

Syf: 211 – Soru: 16

**Kuş uçuşu uzaklığı birbirine yakın, aşağıda eşleştirilmiş şehirler arasında yapılacak kara yolunun gerçek uzunluğu hangisinde en kısa olur?**

- A) Aydın - Manisa
- B) Trabzon - Gümüşhane
- C) Osmaniye - Gaziantep
- D) Rize - Bayburt
- E) Aydın - Denizli

CEVAP: A

## Modüler Soru Bankası

Syf: 254 – Soru: 2

Türkiye'de iç ticaret etkinlikleri her geçen gün daha da artmaktadır.

**Aşağıdakilerden hangisi bunun bir nedeni olmaz?**

- A) Tarımsal ürün çeşidi ve üretiminin artması
- B) Hayvansal, tarımsal ve madensel kaynakları işleyen fabrikalarda bölgesel farklılık olması
- C) Her türlü iletişim olanaklarından yararlanarak ürünlerin daha geniş kitlelere tanıtılması
- D) Ulaşım ağının yenilenmesiyle tüketicilere daha kolay ulaşılabilmesi
- E) Bölgeler arasında il sayısının farklılık göstermesi

CEVAP: A

## 2011 KPSS – Soru: 45

Türkiye’de, 1990 yılında tarımsal ürünlerin dış satımından yaklaşık 2,4 milyar Amerikan doları gelir elde edilmiş ve bu değer toplam dış satımın % 18,1’ini oluşturmuştur. 2007 yılında ise yaklaşık 11,4 milyar Amerikan dolarlık tarımsal ürün dış satımının, toplam dış satımdaki payı % 10,7 olmuştur.

**Buna göre, 1990-2007 yılları arasında Türkiye ekonomisiyle ilgili aşağıdakilerden hangisi söylenebilir?**

- A) Dış satımda madenlerin ve endüstri ürünlerinin payı artmıştır.
- B) Türkiye’nin tarımsal ürünlerine olan talep azalmıştır.
- C) Dış ticaret açığı azalmıştır.
- D) Tarımda modern tekniklerin uygulanması yaygınlaşmıştır.
- E) Ulusal gelir yükselmiştir.

CEVAP: A

## 2011 KPSS – Soru: 46

**Ege Bölgesi’nde kıyı boyunca kuzeyden güneye doğru turistik amaçlı gezi yapan bir grup, aşağıdakilerden hangisine rastlamaz?**

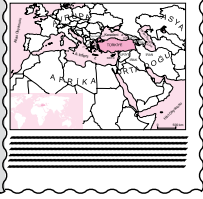
- A) Antik kentlere
- B) Millî parklara
- C) Yat limanlarına
- D) Kayak merkezlerine
- E) Kaplıcalara

CEVAP: D

## Modüler Soru Bankası

Syf: 247 – Soru: 17

2006 yılı Kasım ayında; bir önceki yılın aynı ayına göre ihracat % 42,9 oranında artarak 8.492 milyon dolar, ithalat % 31,4 oranında artarak 12.711 milyon dolar olarak gerçekleşmiştir.



**Yukarıdaki gazete kupüründen yararlanarak;**

- I. dış ticaret açığının azaldığı,
- II. dış ticaret hacminin arttığı,
- III. dış ticaret açığının büyüdüğü

**bilgilerinden hangileri doğrulanamaz?**

- A) Yalnız I
- B) Yalnız II
- C) Yalnız III
- D) I ve II
- E) II ve III

CEVAP: E

## Mini Zopzor Soru Bankası

Syf: 176 – Soru: 9

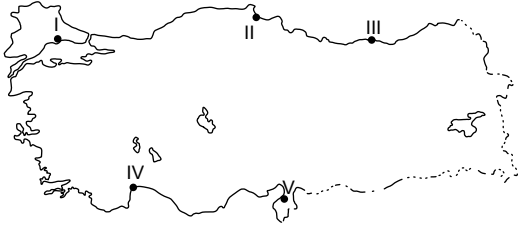
**Ege Bölgesi ekonomisinde, aşağıdaki turizm etkinliklerinden hangisinin payı daha azdır?**

- A) Kış turizmi
- B) Sağlık turizmi
- C) Deniz turizmi
- D) Yat turizmi
- E) Tarih turizmi

CEVAP: A

## 2011 KPSS – Soru: 48

Endüstrileşme ve teknolojik gelişmelerin ortaya çıkardığı çevre sorunlarından biri de hava kirliliğidir.



Buna göre, haritada numaralarla gösterilen liman kentlerinin hangisinde endüstrileşmeye bağlı olarak hava kirliliğinin daha fazla olması beklenir?

- A) I      B) II      C) III      D) IV      E) V

**CEVAP: E**

## Modüler Soru Bankası

## Syf: 76 – Soru: 18

Los Angeles tipi hava kirlenmesi egzoz gazlarının güneş ışınlarının etkisiyle karbondioksit dönüşmesidir. Okyanustan gelen sisin de etkisiyle gelişen bu hava kirliliği canlıların sağlığını ve eşyaların yapısını bozmaktadır. Bu kirlenme türü araç trafiğinin yoğun olduğu kıyı kentlerinde görülmektedir.

Yukarıda verilen bilgi göz önüne alınırsa aşağıdaki kentlerden hangisinde bu tür kirliliğin daha sık görülmesi beklenir?

- A) Sinop      B) Bartın      C) İstanbul  
D) Antalya      E) Edremit

**CEVAP: C**

ÖSYM

*isabetli sorular*

İHTİYAÇ  
YAYINCILIK

*isabetli sorular*

**VATANDAŞLIK**



2011 KPSS – Soru: 49

1982 Anayasası'na göre, Cumhurbaşkanı aşağıdakilerin hangisi tarafından seçilir?

- A) Halk
- B) TBMM
- C) Başbakan
- D) Anayasa Mahkemesi
- E) Bakanlar Kurulu

CEVAP: A

Modüler Soru Bankası

Sayfa: 112 – Soru: 12

Aşağıdakilerden hangisi halk oylaması ile görev gelir?

- A) Cumhurbaşkanı
- B) Vali
- C) Kaymakam
- D) Çalışma ve sosyal güvenlik bakanı
- E) Başbakan

CEVAP: A

2011 KPSS – Soru: 50

1982 Anayasası'na göre, TBMM kaç milletvekilinden oluşur?

- A) 400
- B) 450
- C) 500
- D) 550
- E) 600

CEVAP: D

Yaprak Test (Çek Kopart)

Test: 7 – Soru: 1

1982 Anayasası'nda 1995 yılında yapılan değişikliğe göre Türkiye Büyük Millet Meclisi kaç milletvekilinden oluşur?

- A) 400
- B) 450
- C) 500
- D) 550
- E) 600

CEVAP: D

2011 KPSS – Soru: 51

1982 Anayasası'na göre, Devletin şekli ile ilgili aşağıdaki ifadelerden hangisi doğrudur?

- A) Türkiye federal devlettir.
- B) Türkiye konfederal bir devlettir.
- C) Türkiye Devleti monarşidir.
- D) Türkiye Devleti totaliter bir devlettir.
- E) Türkiye Devleti bir Cumhuriyet'tir.

CEVAP: E

2011 Soru Bankası

Sayfa: 579 – Soru: 3

1982 Anayasası'na göre Türkiye Devleti ile ilgili değiştirilemeyecek maddeler arasında aşağıdakilerden hangisi yer almaz?

- A) Türkiye Devleti bir Cumhuriyet'tir.
- B) Millî marşı, İstiklal Marşı'dır.
- C) Başkent Ankara'dır.
- D) Kabine sistemi benimsenmiştir.
- E) Türkiye Cumhuriyeti laik bir devlettir.

CEVAP: D

2011 KPSS – Soru: 52

Aşağıdaki idarelerden hangisi bir mahallî idare birimi değildir?

- A) Yuva Köyü
- B) Çukurambar Mahallesi
- C) Elmadağ Belediyesi
- D) Ankara İl Özel İdaresi
- E) Ankara Büyükşehir Belediyesi

CEVAP: B

2011 Soru Bankası

Sayfa: 562 – Soru: 12

Aşağıdakilerden hangisi yerel yerinden yönetim kuruluşlarından biri değildir?

- A) Beypazarı Kaymakamlığı
- B) Ankara İl Özel İdaresi
- C) Konya İl Genel Meclisi
- D) Oğulpaşa Köyü
- E) Bilecik Belediyesi

CEVAP: A

2011 KPSS – Soru: 54

Hakkında soruşturma açılan bir belediye başkanını geçici olarak görevden uzaklaştırma yetkisi aşağıdakilerden hangisine aittir?

- A) Başbakan  
B) İçişleri Bakanı  
C) Vali  
D) Belediye meclisi  
E) Danıştay

**CEVAP: B**

2011 KPSS – Soru: 55

Aşağıdaki tüzel kişilerden hangisi, kişi topluluğu olmayıp mal topluluğu niteliğini taşımaktadır?

- A) Dernekler  
B) Anonim şirketler  
C) Kolektif şirketler  
D) Vakıflar  
E) Kooperatifler

**CEVAP: D**

**Muhteşem Soru Bankası**

**Sayfa: 607 – Soru: 8**

Belediye başkanı, aşağıdakilerden hangisinin kararıyla geçici olarak görevinden uzaklaştırılabilir?

- A) Danıştay  
B) Bakanlar Kurulu  
C) İçişleri Bakanı  
D) Vali  
E) Kaymakam

**CEVAP: C**

**TG Deneme Sınavı**

**Deneme: 1 – Soru: 52**

Aşağıdakilerden hangisi mal topluluğu şeklinde bir tüzel kişiliktir?

- A) Şirket  
B) Belediye  
C) Devlet  
D) Vakıf  
E) Dernek

**CEVAP: D**

2011 KPSS – Soru: 56

Aşağıdakilerden hangisi kişinin özel hakları arasında yer almaz?

- A) Seçme ve seçilme hakkı
- B) Mülkiyet hakkı
- C) Kişilik hakkı
- D) Alacak hakları
- E) Telif hakkı

CEVAP: A

2011 KPSS – Soru: 59

Aşağıdaki ülkelerin hangisinde bir süreden beri yaşanan protestoların ve muhaliflerin çıkardığı olayların önüne geçmek amacıyla Mayıs 2011’de genel af ilan edilmiştir?

- A) İran
- B) Irak
- C) Suriye
- D) Afganistan
- E) Pakistan

CEVAP: C

TG Deneme Sınavı

Deneme: 7 – Soru: 49

- I. Fikrî haklar
- II. Alacak hakkı
- III. Velayet hakkı
- IV. Mülkiyet hakkı

Yukarıdakilerden hangileri “Mutlak haklar” arasında yer almaz?

- A) Yalnız I
- B) Yalnız II
- C) I ve III
- D) II ve IV
- E) I, II ve IV

CEVAP: B

[www.ihtiyacinne.com](http://www.ihtiyacinne.com)

Güncel Notu

[http://www.ihtiyacinne.com/ev5son/resman/uploads/vatandaslik\\_gncel\(2\).pdf](http://www.ihtiyacinne.com/ev5son/resman/uploads/vatandaslik_gncel(2).pdf)

2011 KPSS – Soru: 60

9-13 Mayıs 2011 tarihlerinde düzenlenen Birleşmiş Milletler En Az Gelişmiş Ülkeler 4. Konferansı aşağıdaki şehirlerden hangisinde gerçekleştirilmiştir?

- A) Londra      B) Paris      C) Brüksel  
D) İstanbul      E) Berlin

**CEVAP: D**

[www.ihciyacinne.com](http://www.ihciyacinne.com)

Güncel Notu

[http://www.ihciyacinne.com/ev5son/resman/uploads/vatandaslik\\_gncel\(2\).pdf](http://www.ihciyacinne.com/ev5son/resman/uploads/vatandaslik_gncel(2).pdf)

ÖSYM

*isabetli sorular*

İHTİYAÇ  
YAYINCILIK