

1. Sizin anlattığınız filmler sabun köpüğü filmler, gençlik filmleri ya da eğlencelik filmler gibi kategorilere ayrılıyor. Bunun sebebi nedir?

Bu parçadaki altı çizili sözle anlatılmak istenen aşağıdakilerden hangisidir?

- A) Değerini her gün artıran
B) Oluşturanın emeğini boşa çıkarmayan
C) Kendini her koşulda gösteren
D) Kısa sürede yok olan
E) Sanat dünyasının yüz karası olan

2. Romanlarını zevkle okuduğum yazarın, hayatının derinliklerine inmek, kendimden bir şeyler bulduğum kitaplarının yazılış aşamalarını okumak, onun kitaplarını daha iyi anlamamı sağladı.

Bu cümledeki altı çizili sözle anlatılmak istenen aşağıdakilerden hangisidir?

- A) Yazarın yaşamına yön vermek
B) Yazarın yaşamından ders almak
C) Yazarın yaşamından ayrıntılarına ulaşmak
D) Yazarın kimliğini herkese öğretmek
E) Yazarın dertlerine derman olmak

3. **Aşağıdaki cümlelerin hangisinde "durumda olumsuz yönde değişme" vardır?**

- A) Çocuk, iki yıl içinde bir serpilmiş ki görme gitsin.
B) Savaşın bitmesi sonucunda binlerce insan evine döndü.
C) Kadıncağыз günden güne eriyor, üzüntü verici bir hâl alıyor.
D) Köyceğiz, güzellikleriyle olduğu kadar hareketli yaşamıyla da aklımdadır.
E) İnsanlar taraf olmak zorundadır; ancak bunu kardeş güdüsüyle yapmalıdır.

4. (I) Türk Dili dergisi 1 Ekim 1951 tarihinde yayımlanmaya başlanmıştı. (II) Dergiye "Türk Dili" adını koyan Fatih Rıfki'ydi. (III) Derginin ilk sayısındaki "Başlarken" adı makalesinde "Bu dergi, bir düşünce, bir görüşün dergisi değil, Türkçeyi sevenlerin en güzel bulaşma yeridir." ifadesini kullanıyordu. (IV) Derginin alt başlığı "Aylık Fikir ve Edebiyat Dergisi"ydi sonra bu yazı "Dil ve Yazın dergisi" diye değişti. (V) Türk dilinin asıl işlevine dönmesi ve çağdaş edebiyata kucak açmasında bu derginin rolü yadsınamaz.

Yukarıdaki numaralanmış cümlelerden hangisi kanıtlanabilirlik açısından diğerlerinden farklıdır?

- A) I. B) II. C) III. D) IV. E) V.

5. **Aşağıdaki cümlelerin hangisinde eylemin nasıl yapıldığını gösteren bir söz kullanılmıştır?**

- A) İnsanlar arasındaki uçurum derinleşiyor, herkes bildiğini okuyor.
B) Çağ değişiyor ve insanlar birbirini tanıyor.
C) Kitabın yerini hiçbir şey, hiçbir zaman alamaz.
D) Roman, iç dökme yöntemidir; ama bunu her yazarda göremezsiniz.
E) Yazarımız, günlüklerinde işlediği konulara korusuzca yaklaşıyor.

6. **Aşağıdaki cümlelerin hangisinde altı çizili eylem, cümleye zorunluluk anlamı katmıştır?**

- A) Sporcu yetiştiremememizin sebebi tecrübesizlik olmalı.
B) Ailenizdeki sıkıntıların temelinde geçimsizlik olmalı.
C) Filmin tutmamasının sebebi yanlış oyuncu seçimi olmalı.
D) Benim romanımda geçen her karakter zirvede olmalı.
E) Son tren, yarım saate kadar bu istasyona gelecek olmalı.



7. (I) Bazı yayıncılar, kitapları sıfatlandırırken “gençlik” ibaresini kullandıklarına göre böyle bir tür olduğunu var saymak zorundayız. (II) Kısa bir tanımlamayla ya da basit bir mantık yürütmeye; çocuk kitabı diyemeyeceğimiz kadar olgun, büyük kitabı diyemeyeceğimiz kadar sade kitaplar bu gruba dahil edilebilir. (III) Bu yaş grubunu hedeflemiş yazarların, ölçülü biçili, stratejik olarak düşünülmüş, hedef kitle tasarlanarak oluşturulmuş yazınsal yönelimleri olabilir. (IV) Kuşkusuz dileyen her yazar, kendini yetkin buluyorsa eğer, her türde yazmalı, yazabilmeli. (V) Ama ölçütler çok önemlidir.

Bu parçadaki numaralanmış cümlelerle ilgili olarak aşağıda verilenlerden hangisi yanlıştır?

- A) I. cümlede, gençlik kitabı adlandırmasının bir zorunluluğa dayandığı vurgulanıyor.
- B) II. cümlede, gençlik kitaplarının, çocuk ve büyük kitaplarından farklı olduğu söyleniyor.
- C) III. cümlede, gençlik kitabı yazarların yönelimleri dile getirilmiştir.
- D) IV. cümlede, her yazarın birbirinden farklı olduğu anlatılmıştır.
- E) V. cümlede ölçütlerin önemine değinilmiştir.

8. (I) Mine Söğüt, Pınar Kür’le söyleşi yapmaya 2005 sonbaharında başlamış. (II) O günden bugüne belli ki epeyce yorulmuşlar; ama ortaya çok güzel bir söyleşi kitabı çıkmış. (III) Sorular kronolojik sıra içerisinde sorulmuş. (IV) Böylece Pınar Kür’ün çocukluğundan bugüne kadar olan hayatı adeta bir masal gibi anlatılmış. (V) Pınar Kür’ü tanımak veya yazarı yeniden, romanlarıyla birlikte keşfetmek isteyenler için vazgeçilmez bir kitap.

Bu parçadaki numaralanmış cümlelerle ilgili olarak aşağıda verilenlerden hangisi yanlıştır?

- A) I. cümlede, söyleşinin başlama tarihi verilmiştir.
- B) II. cümlede, eser ortaya çıkarken yaşanan zorluklara değinilmiştir.
- C) III. cümlede, soruların zaman sıralamasına göre sıralandığı söylenmiştir.
- D) IV. cümlede, anlatılanların bir masal gibi olduğu vurgulanmıştır.
- E) V. cümlede, kitabın Pınar Kür’ü tanımak için önemli bir eser olduğu anlatılmıştır.

9. **Aşağıdaki cümlelerin hangisinde “koşul” anlamı vardır?**

- A) İnsan, gerçeği görebilen bir yapıda olmalıdır.
- B) Sanatçı, asıl görevini yerine getirmeyince doğal olarak sanat gelişmiyor.
- C) Halkın kendi varlığının farkında olabilmesi her zaman mümkündür.
- D) Toplumsal yapıyı doğrudan etkileyen ilk faktör kültürel etkileşimdir.
- E) Bilinçli çiftçilerin ülkemize kattığı en önemli kavram modern tarımdır.

10. **Aşağıdaki cümlelerin hangisinde bir yazım yanlışı vardır?**

- A) Unuttun galiba, sen ve ben Ankara’nın çamurlu yollarını birlikte çiğnemiştik.
- B) Ekonomik bakımdan bozulan bir şirket gittikçe küçülüyorsa tehlikededir.
- C) Toplumun sırtında bir kambur haline gelen bazı olumsuz davranışlar vardır.
- D) Ekim’de Fatma ile Serkan’ın nişan töreni var.
- E) Pazartesi günlerini, öğrenciler ve çalışma hayatında olan pek çok kişi sevmez.

11. **Aşağıdaki cümlelerin hangisinde cümlenin sonuna üç nokta (...) getirilemez?**

- A) Bir gün gelirsin diye düşündüm; ama sen
- B) Her yerde sen varsın; içimde, canımda, kanımda
- C) Yurdumuzun en kalabalık iki şehridir İstanbul ve Ankara
- D) Ne yaramaz çocuksun sen, seni bir yakalarsam
- E) Toplantıya kıtalanlar: Ali, Eren, Sevda, Nuray

12. Yurt dışından aldığınız her hangi bir ürünü jade

I II

etmek istediğinizde yapmanız gereken ilk şey onu aldığınız yere telefon etmektir. Bu bir sonuç vermiyorsa tavrınızı biraz sertleştirerek firmaya bir ihtar

III IV

mektubu çekmeyi deneyiniz.

V

Bu parçadaki numaralanmış sözlerden hangisinin yazımı yanlıştır?

A) I. B) II. C) III. D) IV. E) V.

13. **Aşağıdaki cümlelerin hangisinde bir anlatım bozukluğu vardır?**

- A) Ara vermeden çalışmak, size yarar değil, zarar sağlar.
 B) Para, insanların hayatı için önemli olduğu kadar tehlikelidir de.
 C) İçinde sevgi olan her eylemin bir güzelliği vardır.
 D) Varlıklı bir aileden geliyor; ama bunu hiç belli etmiyor.
 E) Sıcak günlerde, sizi en çok serinleten içecek nedir?

14. **Aşağıdaki cümlelerin hangisinde bir anlatım bozukluğu vardır?**

- A) Uçağın kapısı bozulduğu için seferden alınmış.
 B) Geçmişimi unuttum ben, yeni günlere hazırlıyorum kendimi.
 C) Seni unutmamak için kalbime yazdım senin adını.
 D) Yüz kremi kullanan insanlarda yaşlanma belirtileri geç görülüyormuş.
 E) Yurtta kalan gençler, gece boyunca uyumadılar.

15. **Aşağıdaki cümlelerin hangisinde bir anlatım bozukluğu vardır?**

- A) Kahvaltıdan önce bütün öğrenciler, derslikleri ve spor salonunu temizlediler.
 B) İlk başta, konuya başlamadan programımızı kısaca özetlemek istiyorum.
 C) Öğrenciler, öğretmenlerine ve arkadaşlarına her zaman saygılı davranıyorlar.
 D) Bir yazarın başarısı neyi, niçin yazdığını bütün yönleriyle bilmesine bağlıdır.
 E) Bir toplumun geleceği, geçmişin zenginliğine ve parlaklığına bağlıdır.

16. **Aşağıdaki cümlelerin hangisinde bir anlatım bozukluğu vardır?**

- A) Şu anda babasının sorusuna vereceği yanıtı düşünüyor.
 B) Sizin evinizin en güzel yanı, penceresinden denizin görünmesi.
 C) Kulakları sağır eden gürültüyü duyan herkes balkonlara çıkıyordu.
 D) Ağaçların çiçeklenip ekinlerin büyümeye başladığı dönemde köyüne gider.
 E) Sen evimizden kaçmış, ben de kendimi öyküle-re vermişim.

17. Edebiyat ortamı ne kadar kötü olsa da bir rekabet var içinde. Artık ticari bir meta haline geldiği için kitaplar, yok saymalar olacaktır. Aslında hiçbir kitabım yalnızca övgülerle dolu yorumlar almadı bugüne dek. Hep bir tartışma yarattı kitaplarım. Benim ...

Bu parça düşüncenin akışına göre aşağıdakilerden hangisiyle sürdürülebilir?

- A) için kitap, önemli bir metadır.
 B) kitaplarımın tartışılacak bir yanı olamaz.
 C) kitaplarım, Türkiye'nin en çok satan kitaplarıdır.
 D) için tiyatro her şeyden önce gelir.
 E) sevmeyenim var, bana kızan, benden korkan da var.



18. (I) Türkiye; geniş bir coğrafya, köklü bir geçmiş ve zengin bir mozaik. (II) Bu durum elbette, yazarlarımız için müthiş bir kaynak oluşturuyor. (III) İster Osmanlı dönemine elimizi uzatalım, ister Kurtuluş Savaşı'na ya da Cumhuriyet sonrasında, tarihin sayfaları arasında yazıya dökülecek ne çok hikaye ne çok olay var. (IV) Türkiye'nin hikaye tarihi Tanzimat Dönemi'yle başlar. (V) Buna bir de aynı coğrafya içinde yaşayan, farklı dinlerden, dillerden, ırklardan insanları dahil edince, kültürümüz, her zaman müşfik, her zaman bereketli bir deniz gibi duruyor yazarlarımızın önünde.

Bu parçadaki numaralanmış cümlelerden hangisi anlatımın akışını bozmaktadır?

- A) I. B) II. C) III. D) IV. E) V.

19. Tüketilen tekstil lifleri içinde artış oranı son 10 yılda en yüksek olan pamuktur. Kimyasal lifler hâlâ tüketilen lifler içinde payları bakımından pamuktan daha fazla yer almalarına rağmen, insanların doğal maddelere olan tutkularının artması ve doğal liflerdeki birçok özelliğin kimyasal liflere kazandırılmamış olması sebebiyle, pamuk cazibesini artan bir şekilde muhafaza etmektedir. Dünyada başlıca 20 çeşit pamuk cinsi tespit edilmiş olup bunların sadece 5'i lifi için yetiştirilmektedir. Pamukta uzunluk diğer özellikleri ile de alakalı önemli bir özellik olduğundan pamuk lifini uzunluğuna göre ayırmak uygun olmaktadır.

Bu parçada pamuk ile ilgili olarak aşağıdakilerden hangisine değnilmemiştir?

- A) Uzunluğunun önemli bir özelliği olduğuna
B) Başlıca 20 çeşidinin olduğuna
C) Cazibesini koruduğuna
D) Ülkemizde pamuk yetiştirildiğine
E) Tüketilen tekstil lifleri içinde en çok artan tür olduğuna

20. İnsanlığın gelişiminin baş döndürücü bir hıza eriştiği 20. yüzyıl, hepimiz için farklı anlamlar taşıyor. İnsanlık takviminin bu süreci, genç yaştaki birçok kişi için hayata ilişkin olmaktan çok, kitaplardaki anlatıların ötesine geçmiyor. Hatta okul çağındakiler için bu bilgi sadece, sınavlar için yapılan hazırlığın bir parçası desek pek de haksız sayılmayız. Ancak Hobsbawm gibi geride bıraktığımız yüzyıla ilk elden tanıklık eden küçük bir azınlık için bu dönem, aynı zamanda yaşamlarının bir parçası.

Bu parçanın yazarının "insanların 20. yüzyıla bakışı" ile ilgili olarak yakındığı durum aşağıdakilerden hangisidir?

- A) 20. yüzyıldaki sanat akımlarının sevilmemesi
B) 20. yüzyılın, insanları yönlendirmeye başlaması
C) 20. yüzyılda eser verenlerin çok fazla eleştirilmemesi
D) 20.yüzyılın hayata ilişkin olarak görülmemesi
E) 20. yüzyılda yaşananların çok fazla ele alınması

21. Ana fikir; bir konudaki asıl fikirdir. Bir yazıda yardımcı fikirlerin etrafında toplandığı temel fikre ana fikir denir. Bir konu üzerinde birçok kimse ayrı ayrı fikirler ileri sürer. İşte bu fikirlerin özü ana fikirdir. Ana fikir eserde açıkça söylenmeyebilir. O, bütün fikirlerin bileşkesidir. Bizi ana fikre götüren diğer fikirlere yardımcı fikir denir. Yazar, ana fikri açıkça söylemeden yazısının genel havasına bırakabilir. Konu ile ana fikir birbirine karıştırılmamalıdır.

Bu parçaya göre "ana fikir" ile ilgili olarak aşağıdakilerden hangisi söylenemez?

- A) Tüm düşüncelerin birleşmiş halidir.
B) Ana fikir, ancak yardımcı düşüncelerle bulunabilir.
C) Ayrı ayrı öne sürülen fikirlerin özüdür.
D) Yardımcı düşünceler onun etrafında toplanır.
E) Bir konudaki asıl düşüncedir.

22. Edebiyat; düşünce, duygu ve hayallerin söz veya yazı halinde, güzel ve etkili bir biçimde anlatılma sanatı olduğuna göre, halk arasında “edebiyat yapıyor” yani “boş sözlerle oyalıyor” anlamına getirilen edebiyat sözü ile konumuzun hiçbir ilgisi yoktur. Toplum olarak yaşayan insanların, yüzyıllar boyu, duyguları ile düşüncelerinin söz ile yazı ile dile getirilmesidir. Bunun için edebiyat tarihine, medeniyet tarihinin bir parçası denilmektedir.

Bu parçaya göre “edebiyat” ile ilgili olarak aşağıdakilerden hangisi söylenebilir?

- A) Toplumsal sorunların dışına çıkmayan bir sanattır.
- B) Üretimi oldukça zor olan bir sanat türüdür.
- C) Uzun yıllar sonucunda oluşan duygu ve düşüncelerin ifadesidir.
- D) İnsanları yönlendirip onlara biçim veren bir güçtür.
- E) Medeniyetlerin birbirini etkilemesini sağlayan bir araçtır.

23. Var olduğundan beri insanoğlu tarih boyunca süregelen düşünce ve akımların altında toplum oluşturmaya çalışmıştır. Burada etken olan dil, din, ırk gibi kavramlar ve bu kavramlara bağlı oluşan toplumların değişen zaman koşullarına bağlı diğer toplumlar üzerinde hakimiyet kurma isteğinin ortaya çıkması şiddeti doğurabilir. Dünyada temelinde ancak insan sevgisine dayanan kavramların evrensel boyutta kalıcı değeri olabilir. Bu sevginin temelinde ise doğa vardır.

Bu parçaya göre “şiddetin oluşmasının sebebi” aşağıdakilerden hangisidir?

- A) Toplumların; din, dil, ırk gibi konularla üstünlük kurma isteği
- B) Toplumların siyasi tercihinin iyi bilinmesi
- C) Halkın, topluma karşı sorumluluk duygusundan uzak davranması
- D) Tepki göstermesi gereken kişilerin yeterince bilgili olmaması
- E) Yöneticilerin eğitilmeden iş başına getirilmesi

24. Elli yıl olmuş, “Hababam Sınıfı” doğal. Elli yıldır ne o öğrenciler mezun oluyor ne de öğretmenleri emekli. Hababam Sınıfı’nın filmleri hâlâ 7’den 70’e izleyici topluyor ekranın başına. Rifat Ilgaz’ın mizah yüklü kaleminden çıkan, karakterleri ince ince çizilmiş, gerçeğin ta kendisi diyeceğiniz kadar bizden hikayeleri de Elli yıldır okunuyor mu? Görsellik burada da yazının önüne geçiyor ne yazık ki. Okumanın verdiği tatla, görüntünün yarattığı eğlence birbiriyle kıyaslanamaz oysa. “Hababam Sınıfı” ancak o satırları okuduğumuzda, hayatımızdaki karşılığıyla buluşabilir.

Bu parçaya göre “Hababam Sınıfı” ile ilgili olarak asıl anlatılmak istenen aşağıdakilerden hangisidir?

- A) Hababam Sınıfı, edebiyatımızın en nitelikli eseri olma özelliğini korumaktadır.
- B) Hababam Sınıfı’nı okumak, kişiye gerçeği en iyi biçimde hissetme olanağı verir.
- C) Hababam Sınıfı’nı izleyenler, eserin gerçek değerini çok iyi anlar.
- D) Hababam Sınıfı’ndan medet umanlar, kısa sürede yenilecektir.
- E) Hababam Sınıfı, son yılların en çok okunan kitabı olmuştur.



25. Bir fuarın uluslararası nitelik kazanabilmesi için her şeyden önce ev sahibi ülkenin yayıncılarının ellerinde uluslararası pazarda alıcı bulacak "ürün"e sahip olmaları gerekiyor. Türkiye'deki yayın sektörü ise bugün "satan" olmaktan çok "alan" durumunda ya da başka bir deyişle uluslararası ilişkilerde kendisini daha çok "telif alıcısı" olarak ortaya koyuyor. Bununla, bir fuarın uluslararası nitelik kazanmasının pazardaki arz-talep ilişkilerine bağlı olduğunu söylemek istiyorum. Bunun için de her şeyden önce Türk edebiyatının yurtdışına açılması, yurtdışındaki yayıncılar tarafından yayımlanmaya değer görülmesi gerekiyor.

Bu parçaya göre "arz-talep ilişkilerinin gelişmesi" aşağıdakilerden hangisine bağlıdır?

- A) Edebiyatımızın kendi özelliklerini iyi biçimde tahlil etmesine
- B) Edebiyatımıza ait eserlerin yurt dışındaki yayıncılar tarafından yayımlanmasına
- C) Fuar düzenleyicilerin kendi hatalarını fark etmesine
- D) Yayıncıların eser maliyetlerini düşürme çabasının sonuç vermesine
- E) Yayıncı kuruluşların ülkemize yönelik tutumlarının yumuşatmasına

26. (I) Dünyadaki insanların % 5'i çöllerde yaşamaktadır. (II) Bu insanlar ya göçebe yaşarlar ya da vaha denilen su kaynaklarının yakınlarındaki verimli bölgelerde yerleşmektedirler. (III) Çölde yaşayan hayvanlar çöl şartlarına uyum sağlamaktadır. (IV) Kabuklu domuz, akrep, değişik böcek ve örümcek gibi hayvanlar terlemeyi sınırlayan sert ve geçirimsiz bir kabuğa sahiptir; develer ve ceylanlar da su kaybını en aza indirmek amacıyla farklı bir yaşam biçimi oluşturmuştur. (V) Örneğin Arap develeri, normalde vücut ağırlıklarının % 30'unu yitirebilirler. (İnsan için bu oran tehlikelidir.) (VI) Sonra 120 litreye kadar su içer.

Bu parça iki paragrafa ayrılmak istense ikinci paragraf hangi cümleyle başlar?

- A) II. B) III. C) IV. D) V. E) VI.

27. Hızlan çok yönlü etkinliği, büyük kitlelere sanat ve sanatçıyı sevdirmek için verdiği çabayla ilgi çekici ve özgün bir konuma sahiptir. Hızlan özellikle pek gözde sayılmayan bir yazınsal türe verdiği emekle de öne çıkmaktadır. O, bir denemecidir ve bu türün olanaklarını sonuna dek kullanan bir yazı ustasıdır. Doğan Hızlan hemen her yazısında okuruyla konuşur gibidir. Bu söyleşi öyle bir hal alır ki kişi neredeyse Hızlan'a yanıt vermek ister. Geniş bilgi dağarcığı Hızlan'a eşlik eder yazılarında. Kimi zaman kendinizi onunla birlikte zaman içinde bir yolculukta buluverirsiniz.

Bu parçaya göre Hızlan ile ilgili olarak aşağıdakilerden hangisi söylenemez?

- A) Neredeyse tüm yazılarında okuruyla konuşur gibi davranır.
- B) Gözde olmayan edebi bir türe emek vermiştir.
- C) Okuyucusunu yönlendirmeye özen gösterir.
- D) Büyük kitlelere sanatı ve sanatçıyı sevdirmeye çalışmıştır.
- E) Deneme türünün tüm olanaklarını kullanmaktadır.

28. Günümüzde üretilen bazı sanat ürünlerinde eksik gördüğüm şey, biraz felsefesiz olması. Aslında anlatı yolları zenginleştikçe bizi iki şey bekliyor: Türler arası ilişkilerin yoğunlaşmasına bağlı olarak melezleşme ve her şeyin aslına dönmesiyle ortaya çıkan billurlaşma. Yani çok iyi bir belgeseli, bir yazarın metni olarak okuduğumda ağızda kötü bir saman tadı kalıyor. Diyelim ki belgesel filmin çekilmediği dönemler o metin en azından bir haber iletisi olması nedeniyle bir anlam ifade ederdi; bugün bir edebiyat metni olarak bir şey ifade etmese de. Disiplinler hem melezleşiyor hem de billurlaşıyor. Benim maceram da tam buraya denk düşüyor. Disiplinlerden doğru ölçülerde yararlanılmalı. Disiplinlerin birbirlerinden yararlanmaları ile birbirine yük olmaları farklı şeyler. Ben öykü yazarken, "Günümüzde öykü nedir?" sorusunu hep yedeğimde tutuyorum. Sadece enteresan bulduğum bir öykü yazmak istemiyorum. Öyle yaptığım zaman bile bunun seçilmiş bir tutum olduğunu belirtiyorum.

Bu parçanın yazarının disiplinlerle ilgili beklentisi aşağıdakilerden hangisidir?

- A) Disiplinlerin birbirine baskı yapması
- B) Disiplinler arasında uyum olması
- C) Disiplinlerin tek yönlü olması
- D) Disiplinlerin kısa sürede başarılı bir hal alması
- E) Disiplinlerin birbirinden doğru şekilde faydalanması

29. Romanlar büyük destanlardan çıkmıştır, onları kaynak olarak almıştır. Öyküde ise masallar, halk hikayeleri ve kıssalı sözler etkili olmuştur. Buna göre Türkiye’de edebiyat, özellikle de öykü uzun süre halk hikayelerinden, masallardan uzak durmaya çalıştı. Böylece kendine miras olacak asıl kaynaktan uzak kalmış oldu. Ben en azından kendim çalışırken böyle bir tespit yaptım ve ancak asıl kaynağından yararlanan bir metin çağdaş öyküyü, çağdaş öyküsel metinleri doğurabilir diye düşündüm. Ve özellikle okumayı sevdiğim türde, türlerde yazı yazmaya çalıştım.

Bu parçada aşağıdakilerden hangisine değnilmemiştir?

- A) Öyküde, masalların ve kıssalı sözlerin etkili olduğuna
- B) Romanların büyük destanlardan çıktığına
- C) Ülkemizde edebiyatın masallardan uzak durmaya çalıştığına
- D) Yazarın, okumayı sevdiği türlerde yazı yazmaya çalıştığına
- E) Çağdaş öykünün gerçek değerini bulduğuna

30. Çay bitkisi büyümeye bırakıldığı zaman bir ağaç görünümü alır. Gelişme yüksekliği türlere göre farklılık gösterir. Çay bitkisi yaprağını dökmeyen bir bitkidir. Yeterli düzeyde sıcaklık ve nemin bulunduğu yerlerde yıl boyu sürgün oluşumu sürer. Yeterli düzeyde sıcaklık ve nemin bulunmadığı yerlerde, soğuk mevsimlerde, sürgün oluşumu duraklar, yaprak ve tomurcuklarda gelişme olmaz.

Bu parçaya göre “çay bitkisi” ile ilgili olarak aşağıdakilerden hangisi söylenemez?

- A) Yetiştirme koşulları yeterli değilse kısa sürede kurur.
- B) Yapraklarını dökmeyen bitki türlerinden biridir.
- C) Türlerine göre gelişme yüksekliği farklılık gösterir.
- D) Doğada büyümeye bırakılırsa ağaç görünümüne kavuşur.
- E) Sıcaklığın ve nemin yeterli olduğu yerlerde yıl boyunca sürgün verir.

31. a ve b birer tam sayı olmak üzere;

$$a.b = 200$$

olduğuna göre, a + b toplamının alabileceği en büyük değer ile en küçük değer toplamı kaçtır?

- A) – 201 B) – 199 C) 0 D) 199 E) 201

32. ab ve ba iki basamaklı doğal sayılar olmak üzere,

$$ab + ba = 132$$

olduğuna göre, a nın alabileceği en büyük değer kaçtır?

- A) 4 B) 5 C) 6 D) 7 E) 9

33. a ve b pozitif tam sayılar olmak üzere,

$$a^2 - b^2 = 17$$

olduğuna göre, 2a – b farkı kaçtır?

- A) 8 B) 10 C) 12 D) 15 E) 18



34. x, y, z sıfırdan farklı birer rakam olmak üzere,
 $x = y + 2$
 $y = z + 5$
koşullarını sağlayan kaç tane üç basamaklı xyz sayısı yazılabilir?

A) 5 B) 4 C) 3 D) 2 E) 1

35. Üç basamaklı xyz sayısının 30 ile bölümünden kalan 7 dir.
Buna göre, $x + y + z$ toplamının alabileceği en büyük değer kaçtır?

A) 18 B) 21 C) 22 D) 24 E) 25

36. x, y, z pozitif tam sayılar olmak üzere,
 $A = 2x - 1 = 5y + 2 = 4z + 1$
eşitliğini gerçekleyen, üç basamaklı en büyük A sayısının rakamları çarpımı kaçtır?

A) 729 B) 682 C) 567 D) 504 E) 441

37. $x + y = \frac{81}{80}$
 $y + z = \frac{19}{18}$
 $x + z = \frac{21}{20}$

olduğuna göre, aşağıdaki sıralamalardan hangisi doğrudur?

A) $y < z < x$ B) $x < y < z$ C) $z < y < x$
D) $x < z < y$ E) $y < x < z$

38. $\left[(0,\bar{1}) + (0,\bar{2}) + (0,\bar{3}) + \dots + (0,\bar{9}) \right]^x = \frac{1}{625}$

eşitliğinde x kaçtır?

A) $-\frac{1}{8}$ B) $-\frac{1}{6}$ C) $-\frac{1}{4}$ D) $\frac{1}{2}$ E) $\frac{1}{4}$

39. $x^4 \cdot y^5 < 0$ olmak üzere,
 $3x \cdot y^3 - 6 \cdot y^3 > 0$
olduğuna göre, x in alabileceği en büyük tam sayı değeri kaçtır?

A) -1 B) 1 C) 2 D) 3 E) 4

40. $x < y$ olmak üzere,

$$|x - y| - |2y - 2x|$$

ifadesinin değeri aşağıdakilerden hangisidir?

- A) $2x - y$ B) $y - x$ C) $x - y$
D) $2y - 2x$ E) $2y - x$

41. $(x + 2)^{y-4} = 0$

eşitliğine göre, x, y aşağıdakilerden hangisi ola-
maz?

- A) -8 B) -10 C) -12 D) -14 E) -16

42. $x^2 < x$ olmak üzere,

$$A = \sqrt[3]{x^2}$$

$$B = \sqrt[4]{x^3}$$

$$C = \sqrt[7]{x^6}$$

olduğuna göre; A, B, C sayıları arasındaki doğru
sıralama aşağıdakilerden hangisidir?

- A) $B > A > C$ B) $C > A > B$ C) $A > C > B$
D) $B > C > A$ E) $A > B > C$

43. $x^2 - 3xy = 40y^2$

denkleminde x in y türünden eşiti aşağıdakiler-
den hangisi olabilir?

- A) $-5y$ B) $-8y$ C) $5y$ D) $9y$ E) $10y$

44. A, B ve C takımına ait taraftarlardan oluşan bir toplulukta 1440 kişi vardır.

Bu topluluktaki A, B ve C takımını destekleyen taraftar sayıları sırasıyla 7, 3 ve 2 ile orantılı olduğuna göre, topluluktaki A takımını destekleyen taraftar sayısı kaçtır?

- A) 600 B) 640 C) 720 D) 780 E) 840

45. $\frac{4x+8}{2} - (2x-1) = 15$

denkleminin çözüm kümesi aşağıdakilerden hangisidir?

- A) $\{5\}$ B) $\{3, 5\}$ C) $\{-3, -5\}$
D) \mathbb{R} E) \emptyset



46. Bir firma tanesi x liradan y tane ürün alıyor.
Aldığı ürünlerin z tanesi bozuk çıktığına göre, firma bir adet ürünü kaç liraya mâl etmiştir?

A) $\frac{x.y}{y-z}$ B) $\frac{x-y}{y.z}$ C) $\frac{x-y}{y-z}$
D) $\frac{y-z}{x.y}$ E) $\frac{x.y}{z}$

47. Bir yarışmada, kurallara göre, yarışmacılar her doğru cevaptan 6 puan kazanıyor, her yanlış cevaptan 1 puan kaybediyor.
40 soruya cevap veren bir yarışmacı 149 puan kazandığına göre, yarışmacının doğru cevapladığı soru sayısı kaçtır?

A) 13 B) 17 C) 21 D) 27 E) 31

48. Elmanın kilogram fiyatı x TL dir.
Elmanın kilogram fiyatına % 20 zam yapıldığında, 3x TL ye kaç kg elma alınır?

A) 1 B) $\frac{5}{2}$ C) 3 D) $\frac{7}{2}$ E) 4

49. Bir babanın yaşı; büyük çocuğu doğduğunda 26, küçük çocuğu doğduğunda 30 dur.
8 yıl sonra baba ve iki çocuğunun yaşları toplamı 79 olacağına göre, büyük çocuk bugün kaç yaşındadır?

A) 6 B) 7 C) 8 D) 9 E) 11

50. Enflasyonun % 20 olduğu bir ülkede, maaşına % 14 zam yapılan bir memurun alım gücü % x azalmıştır.
Buna göre, x kaçtır?

A) 2 B) 3 C) 4 D) 5 E) 6

51. Kütlece % 10 u şeker olan 40 litre şekerli su çözeltilisinden kaç litre su buharlaştırılmalıdır ki, çözeltilinin kütlece % 20 si su olur?

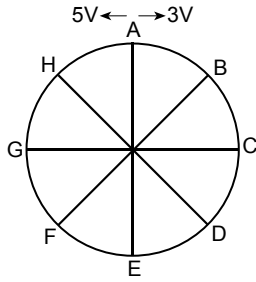
A) 15 B) 20 C) 25 D) 30 E) 35

52. Makineyle 4 dakikada yapılan bir iş, elle 12 dakikada yapılıyor. Bir işçi bu işi yapmaya önce elle başlıyor ve 3 dakika sonra makineyle çalışmaya başlıyor ve işi tamamlıyor.

Buna göre, bu işçi toplam kaç dakika çalışmıştır?

- A) 3 B) 4 C) 5 D) 6 E) 7

53.



Şekildeki dairesel pist 8 eş parçaya ayrılmıştır. A noktasından hızları 3V ve 5V olan iki araç aynı anda ve zıt yönlerde harekete başlamıştır.

Buna göre, bu araçların üçüncü karşılaşmaları hangi noktada olur?

- A) H B) B C) D D) F E) G

54. Reel sayılar kümesi üzerinde " Δ " işlemi,

$$a\Delta b = \min\{a^2, b^2\}$$

biçiminde tanımlanıyor.

Buna göre, $1\Delta(2\Delta 3)$ işleminin sonucu kaçtır?

- A) 1 B) 4 C) 9 D) 16 E) 25

55. Bir asker 10 günde bir nöbet tutmaktadır.

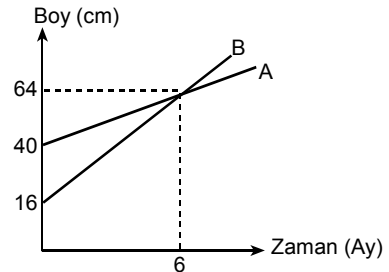
İlk nöbetini cuma günü tutan bu asker, 25. nöbetini hangi gün tutar?

- A) Pazar B) Salı C) Çarşamba
D) Cuma E) Cumartesi

56. İki adet tavla zarının atılması deneyinde, zarların üst yüzünde gelen sayıların çarpımının tek sayı olma olasılığı kaçtır?

- A) $\frac{1}{4}$ B) $\frac{5}{18}$ C) $\frac{1}{3}$ D) $\frac{1}{2}$ E) $\frac{5}{9}$

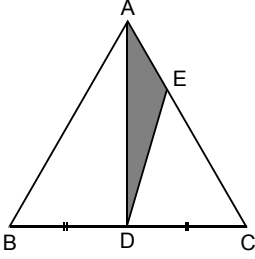
57. Aşağıdaki grafik A ve B bitkilerinin boy ve zamanları arasındaki ilişkiyi göstermektedir.



Bu grafiğe göre, kaçınıcı ay B bitkisinin boyu A bitkisinin boyundan 16 cm uzun olur?

- A) 7 B) 8 C) 9 D) 10 E) 11

58.



ABC bir üçgen
|AC| = 3.|AE|
|BD| = |DC|

olduğuna göre, $\frac{A(\triangle ADE)}{A(\triangle ABC)}$ oranı kaçtır?

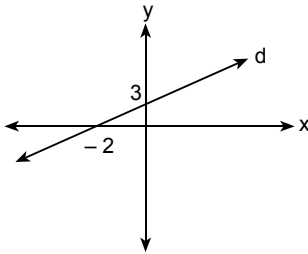
- A) $\frac{1}{9}$ B) $\frac{1}{8}$ C) $\frac{1}{6}$ D) $\frac{1}{4}$ E) $\frac{1}{3}$

59. Bir ip kıvrılarak yarıçapı 4 br olan x çemberi elde ediliyor.

640π br uzunluğundaki ipten kaç adet x çemberi elde edilir?

- A) 60 B) 80 C) 100 D) 120 E) 160

60.



Koordinat düzleminde grafiği verilen d doğrusunun denklemi aşağıdakilerden hangisidir?

- A) $-3x + 2y = 6$ B) $3x + 2y = 6$
C) $3x - 2y = 6$ D) $2x - 3y = 4$
E) $-2x + 3x = -4$

1. İslamiyet öncesi Türk devletlerinde;

- I. ekonominin hayvancılığa dayanması,
- II. sanat eserlerinin halı, kilim ve keçeden yapılmış çadırlar üzerinde şekillenmesi,
- III. hükümdarlara Gök Tanrı tarafından kut yetkisi verildiğine inanılması

durumlarından hangilerinin göçebe yaşam tarzının bir sonucu olarak şekillendiği söylenemez?

- A) Yalnız I B) Yalnız II C) Yalnız III
D) I ve III E) I, II ve III

2. Selçuklularda, taşradaki bölge veya eyaletlerin başına hanedanın erkek çocukları yönetici olarak atanır ve yanlarında "Atabey" unvanlı kişiler bulunurdu.

Bu durumun;

- I. hanedanın erkek çocuklarına devleti yönetme konusunda deneyim kazandırmak,
- II. taht kavgalarını önlemek,
- III. atabeylerin devlet kurmalarını sağlamak

amaçlarından hangilerini gerçekleştirmeye yönelik olduğu savunulabilir?

- A) Yalnız I B) Yalnız II C) I ve II
D) I ve III E) I, II ve III

**3. I. Kümbet
II. Cami
III. Pazaryeri**

Türk-İslam devletlerinde şehirlerin oluşturulmasında yukarıdaki unsurlardan hangileri etkin rol oynamıştır?

- A) Yalnız I B) Yalnız II C) Yalnız III
D) I ve II E) II ve III

4. Osmanlı Devleti'nde;

- I. Tımar Sistemi'nin uygulanması,
- II. Fatih Kanunnamesi'nin yayımlanması,
- III. Ekber ve Erşed Kanunu'nun getirilmesi

gelişmelerinden hangilerinin taht kavgalarını önleme amacıyla uygulandığı söylenebilir?

- A) Yalnız I B) Yalnız II C) Yalnız III
D) I ve II E) II ve III

5. XIX. yüzyılda Osmanlı Devleti'nde el tezgâhları ve küçük sanayi atölyeleri ortadan kalkmış buna bağlı olarak işsiz insan sayısı artmıştır.

Bu durumun ortaya çıkmasındaki en önemli etken aşağıdakilerden hangisidir?

- A) Uzun süren savaşlar sonunda kalifiye eleman sayısının azalması
B) Son dönemlerde arazi dağıtımında adaletsiz bir sistemin egemen olması
C) Ülkedeki hammaddenin sanayileşmiş Avrupa ülkelerine satılmaya başlanması
D) Avrupa'dan Osmanlı ülkesine bol ve ucuz sanayi ürünü malların gelmesi
E) Ticaretin ve üretim faaliyetlerinin ülkede yaşayan azınlıkların eline geçmesi



6. Kanun-i Esasi'de 1909 yılında yapılan değişiklikle bakanların padişaha değil, Mebusan Meclisi'ne karşı sorumlu olması esas getirilmiş, meclisin padişah tarafından kapatılması zorlaştırılmıştır.

Bu değişikliğin;

- I. bakanların görev sürelerinin uzatılması,
- II. halk iradesinin artırılması,
- III. padişahın yetkilerinin artırılması

amaçlarından hangilerine yönelik olduğu savunulabilir?

- A) Yalnız I B) Yalnız II C) Yalnız III
D) I ve II E) I, II ve III

8. I. Rüşvet ve iltimasın önlenmesi
II. Tüm halkın can, mal ve namus güvenliğinin sağlanması
III. Gayr-i müslimlere de okul açma hakkının verilmesi

Yukarıdakilerden hangileri hem Tanzimat hem de Islahat Fermanı'nın ortak hükümleri arasındadır?

- A) Yalnız I B) Yalnız II C) Yalnız III
D) I ve II E) II ve III

Osmanlı Devleti'nin XIX. yüzyıl gelişmeleri arasında gösterilemez?

9. Aşağıdakilerden hangisi Osmanlı Devleti'nin XIX. yüzyıl gelişmeleri arasında gösterilemez?

- A) Yaya ve müsellemler birliklerinin kurulması
B) Halkın sınırlı da olsa yönetime katılımı
C) Azınlık ayrıcalıklarının artması
D) Memur yetiştirmek için okullar açılması
E) Gazetelerin yayımlanması

7. Osmanlı Devleti'nde sadrazam, hem askeri alanda hem de bürokratik alanda söz hakkına sahip olup aynı zamanda padişah adına yürütme yetkisini de kullanmıştır.

Bu bilgilere göre aşağıdakilerden hangisi sadrazamın görev ve yetkileri arasında gösterilemez?

- A) Divan-ı Hümayun'da alınan kararların dine uygun olup olmadığını denetlemek
B) Padişahın olmadığı zamanlarda Divan-ı Hümayun'a başkanlık yapmak
C) Padişahın mührünü taşımak ve gerekli yerlerde kullanmak
D) Serdar-ı Ekrem unvanıyla orduyu komuta etmek
E) Bazı devlet adamlarını atamak ve görevden azletmek

10. Osmanlı Devleti'nde,

- I. 31 Mart Olayı,
- II. Bab-ı Ali Baskını,
- III. Vaka-ı Hayriye

gelişmelerinden hangileri devlet rejimine tepki olarak çıkan isyanlar arasında gösterilebilir?

- A) Yalnız I B) Yalnız II C) Yalnız III
D) I ve II E) I, II ve III

11. Aşağıdakilerden hangisinin gelirleri, Muharrem Kararnamesi'nin yayımlanmasından sonra kurulan Duyun-u Umumiye Teşkilatı'na devredilmiştir?

- A) Kabotaj hakkı
- B) Demiryolları
- C) Cizye vergisi
- D) Tuzla, maden ve gümrük
- E) Reji idaresi

12. Amasya Genelgesi'nde, Sivas'ta ulusal bir kongre toplanması ve bu kongreye katılacak üyelerin, Müdafaa-i Hukuk Cemiyetleri ve belediye başkanları aracılığıyla seçilmeleri istenmiştir.

Amasya Genelgesi'nde böyle bir karar alınmasının temel amacı aşağıdakilerden hangisidir?

- A) Milli mücadeleyi tek elden yönetmek
- B) Bölgesel direniş hareketlerini başlatmak
- C) İtilaf Devletleri ile olan ilişkileri geliştirmek
- D) Halkın istekleri doğrultusunda kararlar alınmasını sağlamak
- E) İstanbul Hükümeti'ne açıkça karşı çıkmak

13. Milli Mücadele Dönemi'nde, "milli egemenliğin koşulsuz olarak gerçekleştirilmesi" kararı ilk kez aşağıdakilerden hangisinde alınmıştır?

- A) Erzurum Kongresi'nde
- B) Son Osmanlı Mebuslar Meclisi'nde
- C) Amasya Görüşmeleri'nde
- D) Sivas Kongresi'nde
- E) Havza Genelgesi'nde

14. I. Ali Fuat Paşa (Cebesoy)'nın Batı Cephesi Kuva-i Milliye Komutanlığı'na atanması
 II. Milli vicdandan doğan cemiyetlerin "Anadolu ve Rumeli Müdafaa-i Hukuk Cemiyeti" adı altında birleştirilmesi
 III. Ulusal direnişin sesini duyurmak amacıyla İrade-i Milliye Gazetesi'nin yayımlanmaya başlanması

Yukarıda yer alan kararlardan hangilerinin Sivas Kongresi'nde alındığı söylenebilir?

- A) Yalnız I
- B) Yalnız II
- C) Yalnız III
- D) I ve II
- E) I, II ve III

15. Aşağıdakilerden hangisi TBMM Hükümeti ile Ermenistan arasında imzalanan Gümrü Antlaşması'nın kapsamında yer alan konular arasında değildir?

- A) Kars, Sarıkamış ve Iğdır yöresinin Türkiye'ye bırakılması
- B) Türklere karşı silahlı bir faaliyette bulunmamış Ermenilerin Türkiye'ye geri dönebilmesine izin verilmesi
- C) TBMM Hükümeti'nin, dilediği takdirde Ermenistan'a askeri ve siyasi alanda yardım edebilecek olması
- D) Ermenistan'ın Nahçıvan'a muhtariyet verilmesine yönelik kararı kabul etmesi
- E) Ermenistan'ın Türkiye'ye karşı yapılacak antlaşmalarda yer almayacağını belirtmesi



16. Kurtuluş Savaşı'nda, Afganistan Hükümeti ile Dostluk Antlaşması yapılmış, antlaşmaya göre Türkiye'nin Afganistan'a subay ve öğretmen göndermesi kararlaştırılarak karşılıklı elçiliklerin açılması kabul edilmiştir.

Bu duruma göre Afganistan Dostluk Antlaşması;

- I. askerlik,
- II. kültür,
- III. diplomasi

alanlarından hangileriyle ilgilidir?

- A) Yalnız I B) Yalnız II C) I ve II
D) II ve III E) I, II ve III

17. Kongreler döneminde alınan kararlardan biri de azınlıklara siyasi hâkimiyeti ve sosyal dengeyi bozacak imtiyazlar verilmemesi konusudur.

Bu karar aşağıdakilerden hangisiyle uluslararası alanda diğer devletler tarafından da kabul edilmiştir?

- A) Londra Konferansı B) San Remo Konferansı
C) Amiral Bristol Raporu D) Montrö Sözleşmesi
E) Lozan Antlaşması

18. Yeni Türk Devleti'nde Mecelle yürürlükten kaldırılarak 17 Şubat 1926 tarihinde Medeni Kanun kabul edilmiş ve laiklik yolunda önemli bir adım atılmıştır.

Türk Medeni Kanunu'nun laiklik için temel sayılacak maddesi aşağıdakilerden hangisidir?

- A) Tek eşle evlilik yasasının getirilmesi
B) Miras paylaşımında eşitlik ilkesinin getirilmesi
C) Çocuğun reşit sayılacak yaşa ulaştığında dinini seçmekte özgür olması
D) Kadının iş hayatına atılmasının kolaylaştırılması
E) Çocuğun dini eğitiminin anne ve baba tarafından verilmesi

19. Atatürk Dönemi'nde 1929 yılından itibaren uygulamaya konulan koruyucu gümrük politikasının;

- I. hammaddesi Türkiye'de olan malların üretimini artırma,
- II. dış ticaret açığını kapatma,
- III. Aşar Vergisi'ni kaldırma

amaçlarından hangilerine yönelik olduğu savunulabilir?

- A) Yalnız I B) Yalnız II C) Yalnız III
D) I ve II E) II ve III

20. I. Türk Ocakları

II. Millet Mektepleri

III. Medreseler

Yukarıdakilerden hangileri kitle eğitim kurumu olarak Atatürk Dönemi'nde açılmıştır?

- A) Yalnız I B) Yalnız II C) Yalnız III
D) I ve II E) I, II ve III

21. Yeni Türk Devleti'nde, 1 Kasım 1928 tarihinde yapılan Harf inkılabı ile okunması ve yazılması zor olan Arap harfleri kaldırılmış ve yeni Türk harfleri kabul edilmiştir.

Aşağıdakilerden hangisinin bu durumun sonuçları arasında olduğu savunulamaz?

- A) Okuma-yazma öğreniminin kolaylaşması
B) Türk dilinin gelişmesi
C) Basılan kitap sayısının artması
D) Öğretim kurumlarının birleşmesi
E) Türkçe sözcüklerin yazıldığı gibi okunması

22. 1934'te soyadı kullanma ile ilgili çıkartılan yasa ile,
- Rütbe, yabancı ırk ve millet adlarını belirten sözcüklerin soyadı olarak alınması ile,
 - Hoca, ağa, molla, paşa, beyefendi gibi unvanların kullanılması yasaklanmıştır.

Bu kanun ile getirilen yasakların temel amacı aşağıdakilerden hangisidir?

- A) Askerlik ve toplumsal alanda çıkan karışıklıkları önlemek
- B) Resmi işlemleri kolaylaştırmak
- C) Uygulamalarda birlik sağlamak
- D) Uluslararası alanda kültürel birlikteliği sağlamak
- E) Toplumda eşitliğe aykırı olan belirtileri ortadan kaldırmak

23. 1933'te kabul edilen ve 1934'te uygulanan Birinci Beş Yıllık Sanayi Planı'nda ana tüketim mallarının ithal edilmemesi, bu malların üretimine önem verilmesi ve buna bağlı olarak sanayi işletmelerinin kurulması amaçlanmıştır.

Bu durumun;

- I. Yabancı sermayenin ülke içinde dolaşımının sağlanmak istenmesi,
- II. Ticaret dengesinin korunmaya çalışılması,
- III. İthalatın artırılmasının amaçlanması

gelişmelerinden hangilerinin göstergesi olduğu söylenebilir?

- A) Yalnız I
- B) Yalnız II
- C) Yalnız III
- D) I ve II
- E) I, II ve III

24. İkinci TBMM Dönemi'nde hükümeti oluşturmada zorluk yaşanmasında aşağıdakilerden hangisi etkili olmuştur?

- A) Çok partili döneme geçiş denemelerinin başarısız olması
- B) Seçimlerin iki yılda bir yapılması
- C) Tek dereceli seçim sisteminin benimsenmesi
- D) Bakanların meclis içinden tek tek oylanarak seçilmesi
- E) Elli bin kişiye bir milletvekili seçme hakkının verilmesi

25. Aşağıdakilerden hangisi, Tevhid-i Tedrisat Kanunu'nun kabul edilmesinin sonuçları arasında gösterilemez?

- A) Eğitim kurumlarının Milli Eğitim Bakanlığı'na bağlanması
- B) Tekke, zaviye ve türbelerin kapatılması
- C) Eğitim programlarının çağa uygun hale getirilmesi
- D) Eğitimde geleneksel yapının reddedilmesi
- E) Medreselerin kapatılması



26. Halkçılık, yönetimde, siyasette, eğitimde, kalkınmada, gelirin dağılımında, devlet ve ulus olanaklarının kullanılmasında halk yararının gözetilmesini ve kadın-erkek eşitliğini amaçlar.

Buna göre;

- I. Aşar vergisinin kaldırılması,
- II. Okuma yazma seferberliğinin kabul edilmesi,
- III. Medeni Hukuk'un kabul edilmesi

uygulamalarının hangilerinde Halkçılık ilkesinin temel alındığı savunulabilir?

- A) Yalnız I B) Yalnız II C) Yalnız III
D) I ve II E) I, II ve III

27. Aşağıdakilerden hangisi Atatürk Dönemi gelişmeleri arasında gösterilemez?

- A) Mesleki Öğrenim Teşkilatı'nın kurulması
B) Türkiye – Irak sınırının kesinleşmesi
C) Suriye sınırının Misak-ı Milli'ye uygun çizilmesi
D) Birinci Beş Yıllık Sanayi Planı'nın hazırlanması
E) Boğazlarda Türk hâkimiyetinin sağlanması

28. **Atatürk'ün;** "Ulusal servetin dağıtımında daha mükemmel bir adalet ve emek sarfedenlerin daha yüksek refahı, ulusal birliğin muhafazası için şarttır. Bu şartı daima göz önünde tutmak, ulusal birliğin müsselli olan devletin mühim vazifesidir." **sözü;**

- I. Halkçılık,
- II. Milliyetçilik,
- III. Devletçilik

ilkelerinden hangileriyle ilgilidir?

- A) Yalnız I B) Yalnız II C) Yalnız III
D) I ve II E) I, II ve III

29. **Atatürk Döneminde;**

- I. Halk,
- II. Terakkiperver Cumhuriyet,
- III. Serbest Cumhuriyet

partilerinden hangileri çok partili döneme geçiş amacıyla kurulmuştur?

- A) Yalnız I B) Yalnız II C) Yalnız III
D) I ve II E) II ve III

30. 24 Temmuz 1923 tarihinde imzalanan Lozan Antlaşması'yla çözümlenen nüfus mübadelesi meselesinin, daha sonra yeniden sorun olmasının **temel nedeni** aşağıdakilerden hangisidir?

- A) Anadolu'da yaşayan azınlıkların Yunanistan'a gönderilmesi
B) Türkiye'de yaşayan azınlıkların Türk vatandaşı sayılması
C) Yunanistan'ın İstanbul'da çok sayıda Rum bırakmak istemesi
D) Yabancı okullara Türk anayasalarına uyma zorunluluğu getirilmesi
E) Batı Trakya'da azınlık durumunda kalan Türklerin, Türkiye'ye dönmek istemesi

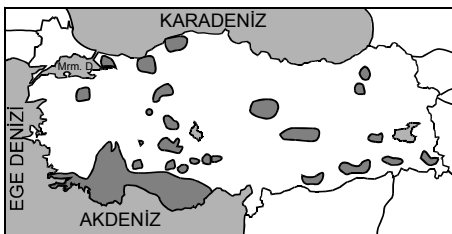
31.



Yukarıdaki haritada verilen kentlerle ilgili olarak aşağıdakilerden hangisine ulaşamaz?

- A) Iğdır'da güneş ilk önce batar.
- B) Enleme bağlı sıcaklık farkı en fazla Samsun ve Adana kentleri arasındadır.
- C) Gece-gündüz süre farkı en az İzmir ve Iğdır arasındadır.
- D) 21 Haziran'da en uzun gündüz Adana'da yaşanır.
- E) Yerel saatin en geri olduğu kent İzmir'dir.

32.



Yukarıda verilen haritada taranan yerler aşağıdakilerden hangisinin Türkiye'deki dağılışını göstermektedir?

- A) Tektonik depremlerin
- B) Karstik yerçekillerinin
- C) Delta ovalarının
- D) Volkanik dağların
- E) Tektonik göllerin

33. Türkiye'de, kıta sahanlığının geniş olduğu deniz kıyılarında aşağıdaki yeryüzüşekillerinden hangisi görülmez?

- A) Delta ovası
- B) Plaj
- C) Alüvyal set gölü
- D) Falez
- E) Kıyı set gölü

34. I. Fırat
II. Çoruh
III. Meriç
IV. Yeşilırmak
V. Aras

Yukarıda verilen akarsulardan hangisi Türkiye sınırı dışına çıkan açık havza alanlarındandır?

- A) I ve II
- B) I ve V
- C) II ve III
- D) III ve V
- E) IV ve V

35. Aşağıda verilen madenlerden hangisi Türkiye'nin ihracatında önemli bir paya sahip değildir?

- A) Bor
- B) Krom
- C) Mermer
- D) Demir
- E) Fosfat



36. Köye bağlı yerleşme tiplerinden en yaygın yaylalardır.

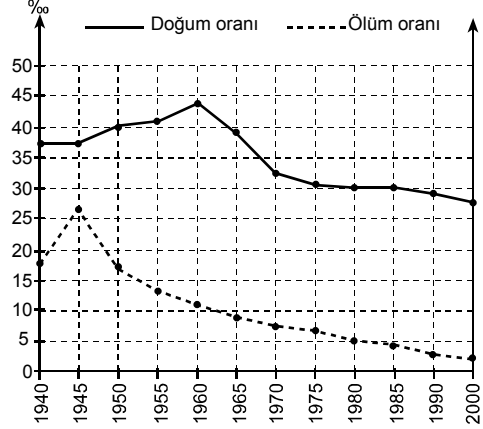
Yayla yerleşimleri ile ilgili olarak aşağıdakilerden hangisi söylenemez?

- A) Nüfusu yaz aylarında artar.
- B) Ekonomik etkinlik olarak hayvancılık ve turizm gelişmiştir.
- C) Yerleşmeler genelde toplu şekildedir.
- D) Akdeniz ve Karadeniz bölgelerinde fazla görülür.
- E) Ev yapımında doğal malzemeler kullanılır.

37. Türkiye’de tarımda yaşanan aşağıdaki gelişmelerden hangisi sulanabilen tarım alanlarının genişletilmesine bağlı olarak ortaya çıkamaz?

- A) Gübrelemenin daha geniş alanda yapılması
- B) Elde edilen üretimin artması
- C) Nadasa ayrılan alanların artması
- D) Endüstride hammadde olan tarım ürünlerinin üretiminin artması
- E) Sebze ve meyve üretiminin artması

38. Aşağıda verilen grafikte Türkiye’nin bazı yıllarındaki doğum ve ölüm oranları gösterilmiştir.



Yukarıdaki grafikten yararlanarak aşağıdakilerden hangisine ulaşamaz?

- A) Nüfus artışının en az olduğu yıl 1945’dir.
- B) Bütün yıllarda nüfus artışı gerçekleşmiştir.
- C) En yüksek nüfus artışı 1960 yılında gerçekleşmiştir.
- D) Hiçbir dönemde doğum oranı ‰ 45’in üzerine çıkmamıştır.
- E) Nüfus miktarı en fazla 1960 yılındadır.

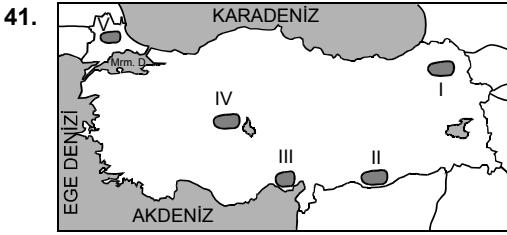
39. Volkanik arazilerde toprakta verimlilik yüksektir. Ülkemizde en fazla volkanik arazi İç Anadolu ve Doğu Anadolu bölgelerinde yaygındır. Buna rağmen tarımsal verimlilik yüksek değildir.

Bu durum aşağıdakilerden hangisiyle daha fazla ilgilidir?

- A) Tarım arazilerinin parçalı olması
- B) Tarımda makine kullanımının yaygın olmaması
- C) Yerçekillerinin engebeli olması
- D) İklim koşullarının elverişsiz olması
- E) Erozyonun şiddetli olması

40. Aşağıdaki kentlerden hangi ikisi arasındaki sıcaklık farkının oluşmasında karasallık ve denizellik farkı etkilidir?

- A) İzmir – Trabzon
B) Antalya – Şanlıurfa
C) Sinop – Mersin
D) Samsun – Adana
E) Zonguldak – Muğla



Yukarıda verilen taralı alanlardan hangisinde karın yerde kalma süresi daha uzundur?

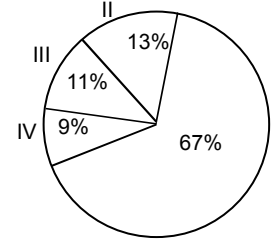
- A) I B) II C) III D) IV E) V

42. I. Zeytin tarımının yapılması
II. Kuzey kesimlerde yağışların daha fazla olması
III. Makineli tarımın gelişmemesi
IV. Doğal gölün olmaması

Güneydoğu Anadolu Bölgesi ile ilgili verilen yukarıdaki özelliklerden hangisi bölgenin yerşekillerinden kaynaklandığı söylenebilir?

- A) I ve II B) I ve III C) II ve IV
D) II ve III E) III ve IV

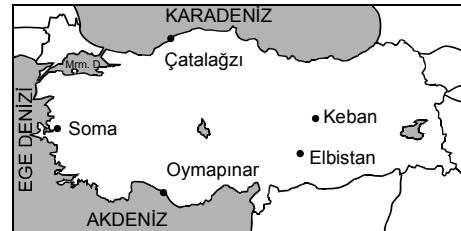
43. Aşağıda bazı bölgelerimizin balık üretim oranları verilmiştir.



Buna göre; I numara ile gösterilen bölge aşağıdakilerden hangisidir?

- A) Karadeniz B) Marmara C) Ege
D) Akdeniz E) İç Anadolu

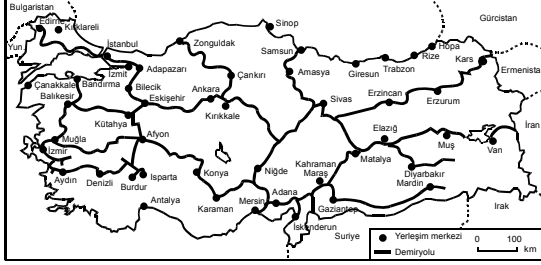
44.



Yukarıda verilen enerji santrallerinden hangisinde hammadde olarak taş kömürü kullanılır?

- A) Çatalağzı B) Soma C) Oymapınar
D) Elbistan E) Keban

45. Aşağıdaki haritada, Türkiye'deki demiryolu ağı görülmektedir.



Buna göre; haritada verilenlerle ilgili olarak aşağıdakilerden hangisine ulaşılabilir?

- A) En çok kullanılan ulaşım yolu demiryoludur.
 B) Tüm bölgelerde demiryolu ulaşımı vardır.
 C) Demir yolu ağının yapılışında yerşekilleri etkili olmuştur.
 D) Trabzon ve Antalya gibi liman kentlerine demiryolu ulaşımı yoktur.
 E) Bazı liman kentlerimize demiryolu ulaşımı vardır.

46. Aşağıdaki ören yerlerinden hangisi Ege Bölgesi'nde yer almaz?

- A) Efes B) Pamukkale C) Sard
 D) Bergama E) Perge

47. Doğu Karadeniz Bölümü 2200 mm yağış alırken Orta Karadeniz Bölümü 800 mm yağış alır.

Bu durum Doğu Karadeniz ve Orta Karadeniz bölümünün hangi açıdan farklı olmasının sonucudur?

- A) Yükselti
 B) Yağış tipi
 C) Yağış rejimi
 D) Toprak tipi
 E) Bitki örtüsünün

48. Ege Bölgesi, kırıklı arazi yapısının en fazla olduğu bölgedir.

Ege Bölgesi'yle ilgili olarak aşağıda verilenlerden hangisi bu durumla ilgili değildir?

- A) Sağlık turizmi gelişmiştir.
 B) Deprem riski yüksektir.
 C) Graben ovaları bulunur.
 D) Jeotermal enerji üretimi fazladır.
 E) Koy ve körfez sayısı fazladır.

49. Somut olayda kanunda uygulanabilir bir hükmün bulunmaması durumuna ne ad verilir?

- A) Hukuk boşluğu
 B) Kural dışı boşluk
 C) Kanun boşluğu
 D) Kural içi boşluk
 E) Örtülü boşluk

50. I. Ergin olmak
 II. Ayırt etme gücüne sahip olmak
 III. Kısıtlı olmamak

Yukarıdakilerden hangileri fiil ehliyetinin şartları arasında yer alır?

- A) Yalnız I B) Yalnız II C) Yalnız III
 D) I ve II E) I, II ve III

51. Aşağıdakilerden hangisi demokratik devletin unsurları arasında sayılamaz?

- A) Egemenliğin belli kesimlerin yararına kullanılmaması
- B) Yasama işlemlerinin yargısal denetime tabi olması
- C) Belirli aralıklarla seçimlerin yapılması
- D) Siyasi partilerin eşit şartlarda seçim yarışına katılması
- E) Seçmenlerin kendi temsilcilerini doğrudan doğruya seçmeleri

52. 1982 Anayasası'na göre dernek kurma hürriyeti ile ilgili aşağıdaki ifadelerden hangisi yanlıştır?

- A) Herkes önceden izin almadan dernek kurabilir.
- B) Dernek kurmada uygulanacak usuller kanunda gösterilir.
- C) Dernek kurma hürriyeti kamu düzenini korumak amacıyla kanunla sınırlanabilir.
- D) Devlet memurlarının derneklere üye olmalarına sınırlamalar getirilemez.
- E) Dernekler hakim kararıyla kapatılabilir.

İktisat Bakanlığı

53. Aşağıdaki temel hak ve hürriyetlerden hangisi savaş, seferberlik, sıkıyönetim veya olağanüstü hallerde bile hürriyetlerin durdurulabilmesinden etkilenmeyen alan içerisinde yer alır?

- A) Yerleşme ve seyahat özgürlüğü
- B) Konut dokunulmazlığı
- C) Din ve vicdan özgürlüğü
- D) Zorla çalıştırılma yasağı
- E) Düşünceyi açıklama ve yayma hürriyeti

54. TBMM'nin toplantıya çağırılması ile ilgili aşağıdaki ifadelerden hangisi yanlıştır?

- A) Meclis Başkanı, TBMM'yi doğrudan toplantıya çağırabilir.
- B) Başbakan meclisi doğrudan toplantıya çağırabilir.
- C) Bakanlar Kurulu'nun istemi üzerine Cumhurbaşkanı meclisi toplantıya çağırabilir.
- D) TBMM üyelerinin beşte birinin istemi üzerine TBMM Başkanı meclisi toplantıya çağırabilir.
- E) Cumhurbaşkanı meclisi doğrudan toplantıya çağırabilir.

55. Aşağıdakilerden hangisi Cumhurbaşkanının yasama ile ilgili görevleri arasında yer alır?

- A) Genelkurmay Başkanı'nı atamak
- B) Kararnameleri imzalamak
- C) Kanun teklif etmek
- D) Kanunları yayımlamak
- E) Milletlerarası antlaşmaları onaylamak ve yayımlamak



56. I. Yargıtay
II. Askeri Yüksek İdare Mahkemesi
III. Askeri Yargıtay
IV. Danıştay
Yukarıdaki yüksek mahkemelerden hangilerinin üyelerinin tamamı Cumhurbaşkanı tarafından seçilir?
- A) I ve II B) I ve III C) II ve III
D) III ve IV E) I, III ve IV

57. Aşağıdakilerden hangisi 1982 Anayasası'na göre Sayıştay'ın görevleri arasında değildir?
- A) Genel bütçe kapsamındaki kamu idarelerinin gelir ve giderlerini TBMM adına denetlemek
B) Mahalli idarelerin mali denetimini yapmak
C) Sosyal Güvenlik Kurumları'nın mali denetimini yapmak
D) Özel bütçe kapsamındaki kamu idarelerinin gelir ve giderlerini TBMM adına denetlemek
E) Siyasi partilerin mali denetimini yapmak

58. Tüzüklerle ilgili aşağıdaki ifadelerden hangisi yanlıştır?
- A) Bakanlar Kurulu tarafından çıkarılır.
B) Yargısal denetimi Anayasa Mahkemesi tarafından yapılır.
C) Cumhurbaşkanı tarafından imzalanır.
D) Kanunların uygulanmasını göstermek için çıkarılır.
E) Kanunlar gibi Resmi Gazete'de yayımlanır.

59. I. Karadeniz Ekonomik İşbirliği Teşkilatı
II. NATO
III. İslam Konferansı Örgütü
IV. Avrupa Konseyi
Türkiye yukarıdaki uluslararası kuruluşlardan hangilerinin kurucu üyesidir?
- A) Yalnız II B) I ve III C) III ve IV
D) I, III ve IV E) II, III ve IV

60. G-20 zirvesi 2009 yılında aşağıdaki ülkelerin hangisinde yapılmıştır?
- A) İngiltere B) Fransa C) Japonya
D) Almanya E) İtalya

Milliyetçi

GENEL KÜLTÜR TESTİ BİTTİ.
CEVAPLARINIZI KONTROL EDİNİZ.