

1. Bu yazar hakkında yüzlerce araştırma kitabı yazılmıştır. Bunların birkaçını son aylarda karıştırdım ve şu yargıya vardım. Bir yazarı, o yazarın kendi kelimeleri ile okumak gerekir. O kelimeler her şeyi içeriyor.

Bu parçada altı çizili sözle anlatılmak istenen aşağıdakilerden hangisidir?

- A) Her yazarın kendini tanıtırken kullandığı özel kelimeler vardır.
B) Yazarın kendini tanıtırken tarafsız olması gerekir.
C) Bir yazarı tanımak için yazarın öz geçmişini okumak gerekir.
D) Bir yazarı tanımak onun eserlerini okumaktan geçer.
E) Yazar hakkında yüzlerce eser okunsa da yazarı tanımak mümkün değildir.

2. Ben etrafımda başarıya asansörle çıkmış hiç kimse görmedim. Mutlaka merdivenlerden çıkmak zorundasınız.

Bu parçada altı çizili sözle anlatılmak istenen aşağıdakilerden hangisidir?

- A) Başarıya ulaşmanın zaman alması
B) Başarıya ulaşmanın birden fazla yolunun olması
C) Başarının emek isteyen bir olgu olması
D) Başarıya kolay yoldan ulaşılması
E) Başarıya ulaşmanın zor olması

3. (I) Türk halk edebiyatı, bir kaya gibi insanoğlunun temel duygularına dayandığı için üzerine en yüksek binaları inşa etmeye elverişlidir. (II) Dünyanın en büyük sanat eserlerinden biri olan Faust, bir Orta Çağ Alman efsanesine dayanır. (III) Her Türk masalı veya destanı millî ve insani değer taşıyan bir sanat eseri haline getirilebilir. (IV) Bu zor bir iş değildir. (V) Fakat bir Orta Çağ hikayesinden Faust çapında bir şaheser vücuda getirmek için Goethe'nin dehasına sahip olmak gerekir.

Bu parçadaki numaralanmış cümlelerin hangisinde "amaç" söz konusudur?

- A) I. B) II. C) III. D) IV. E) V.

4. (I) Çocuk bedensel ve zihinsel gelişimine devam ederken bilmediklerini öğrenmek ister. (II) Öğrenme ihtiyacı doğumla başlar ve bir ömür boyu devam eder. (III) Anne ve baba başta olmak üzere çocuğun çevresindekiler ona yeni şeyler öğreten, onun bilgi sahibi olmasını sağlayan kişilerdir. (IV) Çocuk, hem kendindeki hem de etraftaki değişiklikleri bilmek ister. (V) Bu durum çocuğun hakkıdır ve çevresine uyum sağlayabilmesi için gereklidir.

Bu parçadaki numaralanmış cümlelerle ilgili olarak aşağıda verilenlerden hangisi yanlıştır?

- A) I. cümlede, çocukların gelişimleri sırasında bilmediklerini öğrenmek istemeleri belirtilmektedir.
B) II. cümlede, öğrenme ihtiyacının neyle başladığı ve sürecinin ne kadar olduğu belirtilmektedir.
C) III. cümlede, çocuğun yeni bir şeyler öğrenmesinde kimlerin pay sahibi olduğu söylenmektedir.
D) IV. cümlede, çocukların etraflarındaki değişiklikleri bilmek istedikleri belirtilmektedir.
E) V. cümlede, bilme hakkının çocuğun en önemli hakkı olduğu söylenmektedir.

5. (I) Öğrenilmiş çaresizlik, kişinin güçsüz olduğu durumdan çıkmak için çabalamaktan vazgeçmesidir. (II) Yeni araştırmalara göre gürültü, küçük çocuklarda "öğrenilmiş çaresizlik" olgusuna sebep olur. (III) Bu da çocukların okulda başarısız olma riskini artırıyor. (IV) Gürültünün yoğun olduğu havaalanı civarındaki okullarda yapılan testler, bu çocukların sessiz bölgelerde okuyan çocuklara göre daha başarısız olduklarını gösterdi. (V) Uzmanlar ise okul yöneticilerine öğrenim seviyesini yükseltmek adına sesleri emmesi için yerlere halı döşemeleri gerektiğini söylüyor.

Bu parçadaki numaralanmış cümlelerle ilgili olarak aşağıda verilenlerden hangisi yanlıştır?

- A) I. cümlede tanım yapılmıştır.
B) II. cümlede kesinlik anlamı vardır.
C) III. cümlede neden-sonuç ilişkisi vardır.
D) IV. cümlede karşılaştırma yapılmıştır.
E) V. cümlede öneri anlamı vardır.



6. "Pencerenizin camı kirliyse dışarı çıkıp manzarayı parlatmanız boşunadır."

Bu cümleyle anlamca aynı doğrultudaki cümle, aşağıdakilerden hangisidir?

- A) İnsanın kendini anlayabilmesi için önce dışarıdaki güzellikleri keşfetmesi gerekir.
- B) Hayata karşı güçlü durabilmemiz için yeterliliklerimizin farkına varmamız gerekir.
- C) Dünyaya kötü gözlerle bakıyorsanız dünyanın iyi olması bir şeyi değiştirmez.
- D) Hayatta tek noktaya odaklanmak yerine hayata farklı açılardan bakmak gerekir.
- E) İnsanlar içlerindeki durumu ancak o durumdan çıkınca anlar.

7. **Aşağıdaki cümlelerin hangisi biçimce olumsuz, anlamca olumludur?**

- A) Hayatınızla ilgili alamadığınız kararlar, aldığınız kararlardan daha etkin bir rol oynar.
- B) Sokak çocukları için düzenlenen kermeste yok yoktu.
- C) Yine bol kepçe karanlık bir Ankara gecesi; ama gözler bu karanlığın farkında değildi.
- D) Bütün bu olaylardan sonra yaptıklarını gel de unut.
- E) Arkadaşım evden taşınırken ne var ne yok her şeyi alıp gitmişti.

8. **Aşağıdaki cümlelerin hangisinde eylemden etkilenen varlık vurgulanmıştır?**

- A) Neşe içinde oynayan çocukları pencereden izleyen kadın duygulanmıştı.
- B) Kitap okumayı üniversite yıllarında alışkanlık haline getirmişti.
- C) Gece yarısı kapanıyordu bu şehrin eğlence merkezleri.
- D) Kültürel değerleri korumak için yıllarca uğraştı.
- E) Son konuşmasında kullandığı sözcükler beni üzdü.

9. Gelişimde belli becerilerin kazanılması gereken dönemler vardır. Söz konusu beceri, ilgili dönemde

I
kazanılmadığı takdirde, daha sonraki dönemler de
II III IV

kazanılmaz veya onun kazanılması çok zor olur. Bu döneme kritik dönem denir.

V

Bu parçadaki numaralanmış sözlerden hangisinin yazımı yanlıştır?

- A) I. B) II. C) III. D) IV. E) V.

10. **Aşağıdaki cümlelerin hangisinde bir yazım yanlışı vardır?**

- A) Kurtuluş Lisesinde sergilenen oyun, Ankaralılar tarafından büyük ilgi gördü.
- B) Son zamanların en büyük modası, dünya mutfaqlarını barındıran restoranların açılmasıdır.
- C) Bir akşamüstü yanımızda kimsecikler olmaz ya da olması gerekenler yanımızdakiler değildir.
- D) Oyun oynama saati veya teneffüs aralıkları çoğu çocuk için en eğlenceli zamanlardır.
- E) Bir insanın bilinçaltına yapacağı yolculuk, onu bilmediği dünyalara götürebilir.

11. Termosların sıcaklığı sıcak, soğuk ise soğuk saklamalarının tek nedeni vardır : Vakum. Bir termosta iç

I
II III
içe geçmiş iki kap vardır : Dıştaki metal bir kap olup ;
IV V

içteki genellikle bir cam şişedir.

Yukarıdaki numaralanmış yerlerin hangisinde bir noktalama hatası vardır?

- A) I. B) II. C) III. D) IV. E) V.

12. Ünlü ressam Pierre Auguste Renoir () güzel olan her şeye aşık biri () Renoir, resimlerinde hep doğallığı izlemiştir. Resimlerinde her şey canlıdır () meyveler () ağaçlar () çiçekler ()

Yukarıdaki parçada parantezle boş bırakılan yerlere sırasıyla aşağıdaki noktalama işaretlerinden hangileri getirilmelidir?

- A) (,) (...) (:) (,) (,) (...) B) (:) (...) (:) (,) (,) (,)
C) (,) (,) (:) (,) (,) (...) D) (:) (,) (:) (,) (,) (...)
E) (,) (,) (:) (,) (,) (...)

13. Aşağıdaki cümlelerin hangisinde bir anlatım bozukluğu vardır?

- A) Bu uyarıdan sonra bir daha o konuyu açabileceğini zannetmiyorum.
B) Son yıllarda, yaşlı birini karşıdan karşıya geçiren bir çocuk ya da otobüste büyüğüne yer veren bir genç gördünüz mü?
C) Para, her kapıyı açar diyenlerin para için çalmayacakları kapı yoktur.
D) Mezuniyet törenime gelen Fatma nenem, yaşlılığı nedeniyle babamın kolundan tutunarak yürüyordu.
E) Dinlemek, Allah'ın insana verdiği becerilerinden biri ve sevgiyi gösteren en güzel hediyedir.

14. Aşağıdaki cümlelerin hangisinde bir anlatım bozukluğu vardır?

- A) Kimseyi suçlamadan tüm olanları, yaşadıklarını bir bilgi gibi karşıladı.
B) Uzun ve zorlu yollardan gelmiş ve insanların yüreğine umut vermek için uğraşmıştı.
C) Otrar Olayı'ndan sonra Harzem ülkesine giren Moğol Ordusu toplu katliam yaparak Anadolu'ya ilerledi.
D) Roma'ya varınca, motorsikletleriyle caddeleri dolduran İtalyanların arasından geçiyoruz.
E) Her sanatçı gibi iyi eleştiriler aldığı gibi kötü eleştirilerle de karşılaştı.

15. "Çok ilgilenilen çocuklar daha çok anne ve babalarıyla oynamak istiyor." cümlesindeki anlatım bozukluğu aşağıdaki değişikliklerden hangisi yapılarak giderilebilir?

- A) "ilgilenilen" sözcüğü "ilgilenen" şeklinde yapılarak
B) "ve" bağlacı cümleden atılarak
C) "istiyor" sözcüğü "istiyorlar" şeklinde yapılarak
D) "daha çok" sözü "oynamak" sözcüğünden önce getirilerek
E) "anne" sözcüğü "anneleriyle" şeklinde yapılarak

16. Aşağıdaki cümlelerin hangisinde bir anlatım bozukluğu vardır?

- A) Balıkesir Kongresi, Kuvayımilliye'nin ve Batı Cephesi'nin oluşmasına katkı sağlamıştır.
B) Celal Bey başkanlığında toplanan Nazilli Kongresi'nde, milis güçlere asker sağlanması kararlaştırılmıştır.
C) Alaşehir Kongresi'nde Yunanlara karşı sonuna kadar savaşılması kararı alınmıştır.
D) Erzurum Kongresi'nde, Doğu Anadolu'daki tüm cemiyetlerin tek çatı altında birleştirilmesi kararı alınmıştır.
E) Sivas Kongresi'nden sonra, milletin haklı sesini duyurmak ve bilgilendirmek amacı ile "İrade-i Milliye" adlı gazete çıkarılmıştır.



17. Çocuk dergileri, çocuğun güncel ile olan bağı kurması yanında, eğlendiricilik ve eğiticilik vasıflarını da bünyesinde barındıran bir nitelik taşır. Ders kitaplarının öğretici havasından uzak, bilgiyi bir eğlence havasında veren bu dergiler çocukta okuma becerisinin gelişmesine de hizmet eder. Ancak burada eğiticilik vasfının ön plana çıkarılarak dergilerin sıkıcı bir hâl almasının da önüne geçmek gerekir. Bu sebeple seçilen metinlerin salt içerikleri değil, edebî özellikleri de büyük önem taşımaktadır.

Bu parçada "Çocuk dergileri" ile ilgili olarak anlatılmak istenen nedir?

- A) Çocuk dergileri çocuğun hayatında önemli bir yere sahiptir.
- B) Çocuk dergileri çocuğun okuma becerisinin gelişmesine yardımcı olur.
- C) Çocuk dergilerinde içerik kadar üslûp da önemlidir.
- D) Çocuk dergilerinin sıkıcı olmaması gerekir.
- E) Çocuk dergileri, çocuğun güncel ile olan bağı kurmasına yardımcı olur.

18. Sosyalleşmenin simgesi ve yönlendiricisi olan dil, toplumun bireyleri arasındaki ilişkilerin sağlıklı bir şekilde sürdürülmesini sağlayan iletişimin kaynağıdır. Özellikle, kolay bir şekilde anlaşılır olmaktan uzak ve karmaşık yapıdaki kavramların kazanılmasında bilişsel etkinlikleri örgütleme ve açığa çıkartma fonksiyonunu üstlenen dil, bu yönüyle de hem ana dili eğitiminde beceri kazandırmanın işlevsel bir aracı hem de mesajın etkili bir biçimde verilmesini sağlayan yönlendirici konumundadır.

Bu parçada aşağıda verilenlerden hangisine değinilmemiştir?

- A) Dilin, iletişimin kaynağı olduğuna
- B) Ana dili öğretiminde dilin önemli görevleri olduğuna
- C) Dilin hem araç hem de yönlendirici konumunda olduğuna
- D) Sosyalleşmenin dilden başka bir şeyle mümkün olamayacağına
- E) Dilin, karmaşık yapıdaki kavramların kazanılmasını sağladığına

19. İnsanlar, mecbur kaldıklarında günde bir elmayla bile yaşarlar. Ama bazı insanlar öğle yemeğini bir saat geç yeseler açlıktan öldüğünü söylerler. Aslında bu tamamen alışkanlıktır. Az yemeğe alışmış insanlar daha dayanıklı olurken, alışmayan insanlar dayanıklı olamıyorlar.

Bu parçada vurgulanmak istenen düşünce aşağıdakilerden hangisidir?

- A) İnsanlar mecbur kaldıklarında aç kalabilirler.
- B) İnsanlar hiçbir zaman açlıktan ölmezler.
- C) Her insanın farklı bir açlık sınırı vardır.
- D) Aslında bizi öldüren açlığımız değil, daha önce alıştığımız tokluğumuzdur.
- E) Açlığın ne olduğunu bilmeyen insanlar, aç insanları anlayamazlar.

20. Rejim yapan her insan, kilo vermenin güç olduğunu; ama olanaksız olmadığını bilir. Asıl zor olan, verilen kiloları geri almamaktır. Günümüzde rejimle kilo veren elli kişiden yalnızca biri formda kalmayı başarıyor. Bunun en önemli nedeni, insanların rejimi kilo verene kadar sanmalarındır. Ama asıl rejim, kilo verme işi bittikten sonra başlıyor. Verilen kiloları korumak, rejimin en son ve en önemli adımındır.

Yazar bu sözleriyle, rejim için asıl neyi vurgulamak istemiştir?

- A) Rejim yapmanın zor bir iş olduğunu
- B) İnsanların verdiği kiloları koruyamadıklarını
- C) Rejim yapmanın zor; ama imkansız olmadığını
- D) Verilen kiloları korumanın, rejimin en önemli adımı olduğunu
- E) Rejim yapan herkesin zorlanabileceğini

21. Fransa Kralı IV. Henry'nin ölümünden sonra devlet adamı Sully saraydan ayrılmıştı. Yıllar sonra, yeni kral 13'üncü Louis düşüncelerinden yararlanmak için Sully'i huzuruna çağırırdı. Fakat kralın dalkavukları, Sully'in modası geçmiş elbiselerini ve tavırlarını, yersiz şakalarla alaya almaya başladılar. Onların bu tutumuna kızan Sully krala döndü ve şöyle dedi: "Sayın kralım, babanız görüşlerimi dinlemek üzere beni huzuruna çağırduğunda, çok doğru bir yöntem uygulardı." dedi ve sözlerini, çevresindeki kişilere bakarak şöyle noktalandı: "Soytarıları başka bir odaya yollar, görüşlerimi ondan sonra dinlerdi."

Bu parçada aşağıdaki anlatım tekniklerinden hangisi ağır basmaktadır?

- A) Öyküleme B) Açıklama C) Tartışma
D) Betimleme E) Tanık Gösterme

22. (I) Eğitim psikolojisi alanındaki gelişmeler, çocuk eğitiminin toplum hayatındaki yeri ve önemini ön plana çıkarmış. (II) Bu arayışlar da insanları çocuk edebiyatıyla tanıştırmıştır. (III) Çocuk edebiyatı, çocukların büyüme ve gelişmelerine, eğitilirken eğlenmelerine katkıda bulunmak amacı ile üretilen çocuksu bir edebiyattır. (IV) "Çocuğa görelilik" ilkesiyle hareket etmenin ortaya çıkardığı çocuklar için edebiyat yaklaşımı, çocuğa göre bir edebiyat oluşturulması yönünde yenilikçi bakış açısını belirler. (V) Çocuğa özgü bir edebiyat düşüncesi, çocuk edebiyatına yönelişi hızlandırmıştır.

Bu parçadaki numaralanmış cümlelerin hangisinde "çocuk edebiyatının ortaya çıkmasının nedeni" verilmiştir?

- A) I. B) II. C) III. D) IV. E) V.

23. Dünyaya geliş nedeninizi sorguladınız mı hiç? Bir göreviniz olduğunu düşündünüz mü? Yaptığınız işten farklı olarak anne, baba, çocuk olarak vazifeler; bir kul olarak Tanrı'ya karşı ödevler; bir maaş karşılığında çalıştığınız çivi, tuttuğunuz hesapların haricinde yani... Basit, küçük, okunduğunda aptalca gelebilecek bir cümlecik: "Ben neden doğmuş olabilirim?" Kendimi bildim bileli sorduğum bir soru. Evrende bir toz zerreciğinden ibaret olmamak, küçük dünyevi mutsuzluk girdabında yutulmadan tutunmak için bir anlam arama da diyebilirsiniz.

Bu sözleri söyleyen kişi için aşağıdakilerden hangisi söylenebilir?

- A) Dünyanın içinde bulunduğu durumdan hoşnut olmayan
B) Yaptığı şeyleri artık beğenmeyen
C) Hayatında doyumsuzluğu arayan
D) Hayata karamsar gözlerle bakan
E) Hayata bir amaç uğruna geldiğine inanan

24. Çok uzun zamandır sağlıklı nefes alamıyorum sanki. Özellikle sabahları burnumu çıkarıp yerine adeta bir golf topu koymuşlar gibi uyanıyorum. Ne yaparsam olmuyor. Ama ne zaman ormanda yürüyüşe çıksam on beş dakika sonra her şey düzeliyor. Burnumun içinde bir hava koridor beynime de yükseliyor olsa gerek, orman yürüyüşleri sırasında düşünceler tıkr tıkr yerli yerine gidiyor. Sanki kafamın içinde hafta sonu temizliği yapmışım gibi bir rahatlamayla eve doğru yola koyuluyorum.

Bu parça aşağıdaki sorulardan hangisine yanıt olarak söylenmiş olabilir?

- A) Son zamanlarda sağlığınızla ilgili şikayetler neler?
B) Ne kadar zamandır nefes almayla ilgili şikayetleriniz var?
C) Orman yürüyüşlerinizin size ne gibi faydaları oluyor?
D) Sağlıklı nefes alamamak sizi nasıl etkiliyor?
E) Rahatlamak için neler yapıyorsunuz?



25. (I) Son yılların verilerine göre yeryüzünde 1 milyar aç ve yetersiz beslenen kişi var. (II) Bu sayı, bu nedenle yaşamlarını kaybeden kişilerin tam yüz katıdır. (III) 5 yaşın altındaki çocukların ölümleri, bu sayıların dörtte üçünü oluşturmaktadır. (IV) Açlık nedeniyle ölümlerin yüzde 10'u, savaşlar ve doğal afetlerden kaynaklanmaktadır. (V) Açlık ölümlerinin büyük bir bölümünün ise nedeni, sürekli yetersiz beslenmedir. (VI) Yetersiz beslenmenin nedeni ise yoksulluktur.

Bu parça iki paragrafa ayrılmak istense ikinci paragraf hangi cümleyle başlar?

- A) II. B) III. C) IV. D) V. E) VI.

26. Şinasi, Batı etkisindeki Türk edebiyatının kurucusudur. Tanzimat edebiyatını başlatmış, Batı edebiyatı yolunda ilk nazım ve nesir türünde eserler vermiştir. İlk şiir çevirileri, ilk yerli tiyatro, ilk makale, ilk noktalama işaretleri, ilk özel Türk gazeteciliği onunla başlar. Akılcıdır ve Türk toplumuna yeni bir görüş vermek gayesindedir. Yazı dilini sadeleştirmek, halkın anlayacağı bir dille yazmak görüşündedir. Sanat için sanat ilkesini bırakır, halk için sanat ilkesine bağlanır.

Bu parçada Şinasi'yle ilgili olarak aşağıdakilerden hangisine değinilmemiştir?

- A) Batı edebiyatı etkisinde nazım ve nesir türünde eserler verdiği
B) Türk edebiyatının kurucusu olduğuna
C) Türk toplumuna yeni bir görüş vermek istediğine
D) Toplum için sanat ilkesine bağlandığına
E) Edebiyatımızdaki bazı ilklerin öncüsü olduğuna

27. Onca yıl Adana'da, Tarsus'ta yaşadığım halde güzelliği dillere destan Antakya'ya bir türlü gidememişim. Sınıf arkadaşlarımla her yıl yurdun farklı bir yöresine düzenlediğimiz gezileri "Bu yıl Antakya'ya yönlendirelim." dediğimizde çok heyecanlandım. Yıllardır adını duyup bir türlü tanışamadığım bir sevgiliye kavuşacakmışım gibi tatlı düşlerin içine kendimi usulca koyverdim ve mayıs sabahı güneğin o yeşil sıcağında, karmaşık duygular içinde Antakya ile tanıştım. Ben hiç gülen bir kent görmemişim; ama Antakya o mayıs sabahında aydınlık yüzüyle bana gülüyordu.

Bu parçayla ilgili olarak aşağıdakilerden hangisi söylenemez?

- A) Yazar, Antakya'yla bir gezi sayesinde tanışmıştır.
B) Yazar, Antakya'yla tanışacağı için çok heyecanlanmış.
C) Antakya, aydınlık yüzüyle gülerken yazarı karşılamıştır.
D) Antakya, Adana ve Tarsus'tan daha güzel bir yerdir.
E) Yazar, Antakya'yla tanıştığında karışık duygular içine girmiştir.

Şinasi'nin Mayıncılık

28. (I) Yeni yeni artan ilgiye karşı nar, insanlığın bildiği en eski meyvelerden biri. (II) Eski Mısırlılar, narı di-zanteri ve mide ağrılarına karşı kullanıyorlardı. (III) Asyalılar, tomurcuklarından yaptıkları çayla ishal ve bronşit tedavisi uyguluyorlardı. (IV) Narın çiçeklerini ise gözlerin yanmasına karşı kullanıyorlardı. (V) Çağlar boyunca nar; umudun, verimliliğin ve bolluğun simgesi; sanatın ve mitolojinin de odak noktası oldu. (VI) Yunan filozof Hipokrat, narı iltihapların tedavisi için önermişti.

Yukarıdaki numaralanmış cümlelerin hangisi düşüncenin akışını bozmaktadır?

- A) II. B) III. C) IV. D) V. E) VI.

29. Şimdi bir karar vermelisiniz. On yıl sonra nasıl bir hayat yaşamak istiyorsunuz? Başarmak elinizde olsa nasıl bir hayat yaşamak istersiniz? Hemen gerçekçilik denetimine kalkışıp hayal gücünüzü köreltmeyin. Önce hayal kurmalı, sonra onun olabilirliğini denetlemelisiniz. Bazı insanlar ne istediklerini kendilerine bile ifade etmeye cesaret edemezler; çünkü...

Bu parça düşüncenin akışına göre aşağıdakilerden hangisiyle sürdürülebilir?

- A) başarmak sandıkları kadar kolay değildir.
B) yaşamak istedikleri hayatın ne olduğunu bilmezler.
C) hayal güçlerinin onları yanıltmaya sürükleyeceğini
D) bunları gerçekleştiremeyip kendi gözlerindeki değerlerini kaybetmekten korkarlar.
E) başarı gibi bir gayeleri yoktur.

30. Biz büyüdük, eskisi gibi çizgi film izlemiyoruz. Ama çocuklarımız, yeni çıkan çocuk kanallarıyla birlikte sabah akşam çizgi film seyderiyorlar. Salt çizgilerden oluşması, nedense biz büyüklerde çizgi filmlerin masum olduklarına dair bir kanaat uyandırmaya yetiyor. Televizyona bakıyoruz, çizgi filmmiş deyip geçiyoruz. Çizgi filmlerin birtakım zararları olabileceğine dair bilgimiz yalnızca "Çizgi filmler, çocuklara şiddeti öğretiyor." klişe haberleriyle sınırlı. Zira, çizgi film ile şiddet davranışı arasındaki ilişkiden önce esas araştırılması gereken konu, çizgi filmlerin çocukların ruh ve his dünyalarında ne tür etkide bulunduğudur.

Bu parçada "çizgi filmlerle" ilgili olarak aşağıdakilerden hangisine değinilmemiştir?

- A) Çizgi filmlerin büyükler tarafından masum olarak görülmesine
B) Çizgi filmlerin bilinenden fazla zararının olduğuna
C) Çizgi filmlerin aslında çocuklara şiddeti öğretmediğine
D) Çizgi filmlerle ilgili esas araştırılması gereken konunun bu filmlerin çocukların duygu dünyalarını nasıl etkilediği olduğuna
E) Çocukların sürekli çizgi film seyrettiğine

31. n bir doğal sayı olmak üzere,

$$n^3 + 7n$$

toplamı bir çift sayı olduğuna göre, aşağıdakilerden hangisi kesinlikle çifttir?

- A) $n^2 + 5n$ B) $n - 4$ C) n
D) $n^7 - 3$ E) $n^9 + 8$

32. AB ve BA iki basamaklı doğal sayılar olmak üzere, bu iki sayının birleştirilmesiyle elde edilen dört basamaklı ABBA sayılarından kaç tanesi tektir?

- A) 40 B) 42 C) 45 D) 48 E) 50

33. Dört basamaklı bir doğal sayı ile üç basamaklı bir doğal sayıyı toplamak isteyen bir öğrenci, toplama işlemini yapmadan, dört basamaklı sayının binler basamağındaki rakamı 1 artırıp, onlar basamağındaki rakamı 4 azaltarak aynı sonucu bulabileceğini fark ediyor.

Buna göre, işlemdeki üç basamaklı doğal sayı aşağıdakilerden hangisidir?

- A) 696 B) 760 C) 846 D) 960 E) 996



34.

$$\frac{x}{3} \left| \frac{y}{4} \right. \quad \frac{y}{5} \left| \frac{z}{3} \right.$$

Yukarıdaki bölme işlemlerine göre, x in 12 ile bölümünden elde edilen kalan kaçtır?

- A) 3 B) 5 C) 7 D) 9 E) 11

35.

$$\left(\frac{7}{8} - \frac{1}{9} + \frac{13}{15} \right) - \left(\frac{17}{9} - \frac{9}{8} - \frac{2}{15} \right)$$

işleminin sonucu kaçtır?

- A) -2 B) -1 C) 0 D) 1 E) 2

36.

$$x = 0,9 + 0,09 + 0,009 + \dots$$

$$y = 0,3 + 0,03 + 0,003 + \dots$$

olduğuna göre, $\frac{y^{-1}}{x}$ oranı kaçtır?

- A) $\frac{1}{9}$ B) $\frac{1}{3}$ C) 1 D) 3 E) 9

37. x ve y birer tam sayı olmak üzere,

$$-2 \leq x < 4$$

$$3 < y < 7$$

$$2x + 3y + z = 30$$

olduğuna göre, z nin alabileceği en küçük değer kaçtır?

- A) 6 B) 7 C) 8 D) 9 E) 10

38. $|x - 2| + |2 - x| = 8$

olduğuna göre, x in alabileceği değerler toplamı kaçtır?

- A) 3 B) 4 C) 5 D) 6 E) 8

39. x ve y birer tam sayı olmak üzere,

$$75^{x+y} = 3^{2x-4}$$

olduğuna göre, x.y kaçtır?

- A) -8 B) -6 C) -4 D) -2 E) 4

40. $\sqrt{\frac{1}{16} - \frac{1}{25}}$
işleminin sonucu kaçtır?
A) $\frac{1}{2}$ B) $\frac{1}{4}$ C) $\frac{1}{5}$ D) $\frac{3}{20}$ E) $\frac{1}{20}$

41. $\left(a - \frac{1}{b}\right) : \left(b - \frac{1}{a}\right) \cdot \frac{b}{a}$
ifadesinin **en sade** hali aşağıdakilerden hangisidir?
A) $\frac{a}{b}$ B) $\frac{b}{a}$ C) a D) b E) 1

42. Saat, dakika ve saniye cinsinden $18:51_{24}$ ü gösteren dijital bir saatin $00:00_{00}$ ı göstermesi için, ne kadar zaman geçmesi gerekir?
A) 4 saat 8 dakika 36 saniye
B) 4 saat 9 dakika 36 saniye
C) 5 saat 8 dakika 26 saniye
D) 5 saat 8 dakika 36 saniye
E) 5 saat 9 dakika 36 saniye

43. Her beş sayfasında bir, 1 tane resim bulunan bir kitabın içerisinde toplam 28 tane resim vardır.
Buna göre, kitap en çok kaç sayfa olabilir?

- A) 140 B) 141 C) 142 D) 143 E) 144

44. 360 TL ile çarşıya çıkan Çağan, parasının $\frac{5}{12}$ si ile pantolon, kalan parasının $\frac{3}{7}$ si ile de ayakkabı almıştır.

Buna göre, Çağan'ın aldığı pantolonun fiyatı, ayakkabının fiyatından kaç TL fazladır?

- A) 30 B) 45 C) 60 D) 75 E) 90

45. Fatma doğduğunda, Serkan x yaşındaydı.
Serkan 3x yaşına geldiğinde Fatma 24 yaşında olacağına göre, Fatma doğduğunda Serkan kaç yaşındadır?

- A) 8 B) 12 C) 16 D) 24 E) 36



46. 6 işçi bir günde 120 m^2 lik bir duvarı boyayabilmektedir.

Aynı nitelikteki kaç tane işçi 200 m^2 lik bir duvarı bir günde boyayabilir?

- A) 8 B) 9 C) 10 D) 12 E) 16

47. $2x - y = 16$
 $3y - x = 2$

denklemin çözüm kümesi $\{(x, y)\}$ ise, x, y nin kaç katıdır?

- A) $\frac{7}{2}$ B) 3 C) $\frac{5}{4}$ D) $\frac{5}{2}$ E) $\frac{3}{2}$

48. Ağırlıkça % 20 si şeker olan 40 gram şekerli-su karışımı ile ağırlıkça % 40 ı şeker olan 60 gram şekerli-su karışımı bir kapta karıştırılıyor.

Buna göre, oluşan karışımın şeker oranı yüzde kaçtır?

- A) 18 B) 24 C) 32 D) 38 E) 42

49. Saatteki hızları 36 km ve 54 km olan iki araç, aynı anda aynı noktadan ve zıt yönde harekete başlıyorlar.

Buna göre, hareketlerinden kaç saat sonra bu iki araç arasındaki mesafe 270 km olur?

- A) 1 B) 2 C) 3 D) 4 E) 5

50. Sinan bir işi tek başına x saatte, Ferhat ile birlikte ise aynı işi 4 saatte bitirebiliyor.

Sinan bu işi tek başına Ferhat'tan daha kısa sürede yaptığına göre, x için aşağıdakilerden hangisi doğrudur?

- A) $1 < x < 4$ B) $4 < x < 8$ C) $4 < x < 12$
D) $8 < x < 12$ E) $8 < x < 20$

51. Bir dikdörtgenin kısa kenar uzunluğu % 20 azaltılıp, uzun kenar uzunluğu % 10 artırılıyor.

Buna göre, dikdörtgenin alanı ilk duruma göre, nasıl değişir?

- A) % 12 azalır B) % 12 artar C) % 24 azalır
D) % 24 artar E) % 18 azalır

52. Bir malın $\frac{1}{5}$ i % 20 kârla, geri kalanı ise % 20 zararla satılmaktadır.
Buna göre, malın tamamının satışında yüzde kaç zarar edilmiştir?

A) 12 B) 14 C) 16 D) 18 E) 20

53. Aynı kursa giden Zeynep ve Orhan'ın kursa katılım durumlarıyla ilgili aşağıdaki bilgiler verilmiştir:

- Zeynep üç günde bir kursa gitmektedir.
- Orhan beş günde bir kursa gitmektedir.
- İki birlikte ilk kez Salı günü kursa gitmiştir.

Bu bilgilere göre, Zeynep ile Orhan birlikte üçüncü kez kursa hangi gün giderler?

A) Pazar B) Pazartesi C) Cuma
D) Çarşamba E) Perşembe

54. A ve B birer küme olmak üzere,

$$s(A - B) = 2 \cdot s(B - A)$$

$$s(A \cap B) = 4$$

$$s(A \cup B) = 19$$

olduğuna göre, $s(B - A)$ kaçtır?

A) 5 B) 4 C) 3 D) 2 E) 1

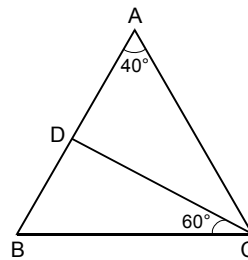
55. Bir zarın yüzlerinde K, P, S, S, 0, 9 harf ve rakamları yazmaktadır.

Bu zar arka arkaya 4 kez atıldığında üst yüze gelen harf veya rakamların sırasıyla KPSS kelimesini oluşturma olasılığı kaçtır?

A) $\frac{1}{120}$ B) $\frac{1}{140}$ C) $\frac{1}{180}$ D) $\frac{1}{216}$ E) $\frac{1}{324}$

İhtiyas Mayıncılık

- 56.



ABC ikizkenar üçgen,

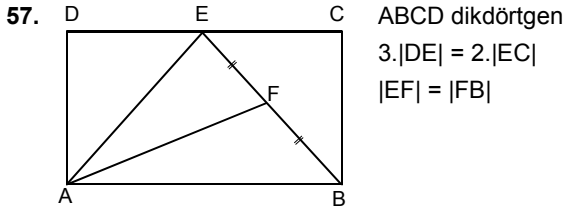
$$|AB| = |AC|$$

$$m(\widehat{BAC}) = 40^\circ$$

$$m(\widehat{DCB}) = 60^\circ$$

olduğuna göre, $m(\widehat{ADC})$ kaç derecedir?

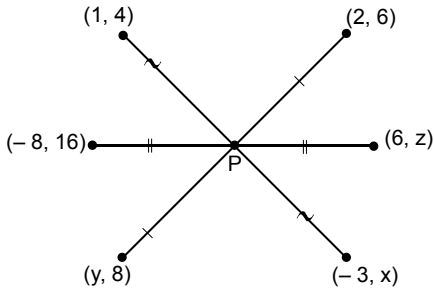
A) 100 B) 110 C) 120 D) 130 E) 140



Yukarıdaki şekilde AEF üçgeninin alanı 25 br^2 olduğuna göre, ADE üçgeninin alanı kaç br^2 dir?

- A) 10 B) 20 C) 30 D) 40 E) 50

58.



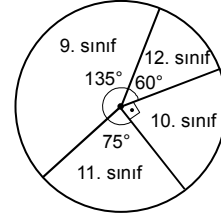
Analitik düzlemde köşelerinin koordinatları verilen üç doğru parçası ve bu doğru parçalarının kesiştikleri P noktası şekildeki gibidir.

P noktası üç doğru parçasının da orta noktası olduğuna göre, $x + y + z$ toplamı kaçtır?

- A) 2 B) 4 C) 6 D) 8 E) 10

59. VE 60. SORULARI AŞAĞIDAKİ BİLGİLERE GÖRE CEVAPLAYINIZ.

Aşağıdaki grafik bir okuldaki 9., 10., 11. ve 12. sınıf öğrenci sayılarının dağılımını göstermektedir.



59. 9. sınıf öğrenci sayısı, okuldaki tüm öğrenci sayısının yüzde kaçtır?

- A) 30 B) 32,5 C) 35 D) 37,5 E) 40

60. 10. sınıf öğrenci sayısı, 12. sınıf öğrenci sayısından 90 fazla olduğuna göre; 11. sınıf öğrenci sayısı kaçtır?

- A) 185 B) 210 C) 225 D) 240 E) 275

GENEL YETENEK TESTİ BİTTİ.
GENEL KÜLTÜR TESTİNE GEÇİNİZ.

1. Aşağıdaki kavramlardan hangisi İslamiyet öncesi Türk topluluklarının dini inançları ile ilgili değildir?

- A) Tamu B) Umay C) Bedizci
D) Ongun E) Şaman

2. Büyük Selçuklu Devleti'nde uygulanan Gulam Sistemi ile yetiştirilen İran kökenli çocuklardan birçoğu asker yapılırken, bazıları da vezirlik ve valilik gibi önemli görevlere getirilmiştir.

Bu uygulamanın;

- I. idari alanda Türkmen etkinliğinin azalması,
II. saltanat kavgalarının engellenmesi,
III. bürokrasi alanında Farisilerin güç kazanması

durumlarından hangilerine ortam hazırladığı söylenebilir?

- A) Yalnız I B) Yalnız II C) Yalnız III
D) I ve III E) I, II ve III

3. I. Minber
II. Kapı
III. Kürsü

Anadolu Selçuklularının yukarıda verilenlerin hangilerinde ağaç işlemeciliğini süsleme sanatı olarak kullandığı söylenebilir?

- A) Yalnız II B) I ve II C) I ve III
D) II ve III E) I, II ve III

4. Fatih Sultan Mehmet tarafından yayınlanan Kanunname-i Ali Osman ile;

- I. sancak usulü,
II. cülus dağıtımı,
III. kardeş katli

uygulamalarından hangilerinin yasallaştığı söylenebilir?

- A) Yalnız I B) Yalnız III C) I ve II
D) II ve III E) I, II ve III

5. Osmanlı Devleti'nde eyalet ve sancaklarda devlet işlerini yürüten görevlilerden hangisinin doğrudan merkeze bağlı şekilde çalıştığı söylenebilir?

- A) Muhtesip B) Subaşı C) Kadı
D) Cebelü E) Kapan Emni

6. III. Selim Devri'nde;

- Vezirlerin sayısı ve görev süreleri yeniden belirlenmiş,
– Kadıların görev yerlerine gitmeleri sağlanmıştır.

III. Selim Devri'nde yapılan bu düzenlemeler ile ulaşılmak istenen amaçlar arasında aşağıdakilerden hangisi yoktur?

- A) Hukuki aksaklıkları gidermek
B) Merkezi teşkilatı düzenlemek
C) Halkın devlete bağlılığını artırmak
D) Mütesellim sayısını çoğaltmak
E) Taşrada devlet otoritesini güçlendirmek



7. 1875 yılında Osmanlı'nın Hersek bölgesinde yaşayan Hıristiyanlar; iltizam yolsuzlukları, ağnam vergisi ve askeri bedelin ağırlığı gibi nedenlerden dolayı yönetime karşı isyan başlatmışlardır. İsyancıların kısa sürede güç kazanmalarında ise Avusturya ve Rusya'nın verdiği destek etkili olmuştur.

Bu bilgilere göre, 1875 Hersek İsyanı'nda;

- I. Avrupa devletlerinin politikaları,
- II. denetimsiz vergi uygulamaları,
- III. mezhep çeşitliliği

durumlarından hangilerinin etkili olduğu savunulabilir?

- A) Yalnız I B) Yalnız II C) Yalnız III
D) I ve II E) II ve III

8. I. Milli İtibari Bankası
II. Bank-ı Dersaadet
III. Sanayi ve Maadin Bankası

Yukarıda verilen mali işletmelerden hangilerinin ilk kez Osmanlı Devleti'nde kurulduğu söylenebilir?

- A) Yalnız II B) I ve II C) I ve III
D) II ve III E) I, II ve III

9. 1908 yılında Avusturya İmparatorluğu Bosna-Hersek'i ilhak etmiş ve bu gelişme sonunda taraflar arasında protokol imzalanmıştır. Protokolde Bosna halkının din ve inançlarında serbest davranabileceği, bölgedeki camilerde Osmanlı padişahı adına hutbe okutulacağı kabul edilmiştir. Ancak bölgedeki tüm ayni ve nakdi hesapların işletilmesi hakkı elden çıkmıştır.

Buna göre, Osmanlı Devleti'nin;

- I. egemenlik sahası,
- II. halifenin etkinliği,
- III. mali kazanç

durumlarından hangilerinde açık şekilde zarara uğradığı savunulabilir?

- A) Yalnız I B) Yalnız III C) I ve II
D) I ve III E) II ve III

10. I. Osmanlı Devleti'nin elindeki savaş esirleri serbest bırakılacak.
II. Osmanlı Devleti mayınlı arazilerin ve torpillerin yerlerini gösterecek.
III. Anadolu dışındaki Türk subayları en yakın İtilaf birliklerine teslim olacak.

30 Ekim 1918 yılında imzalanan Mondros Ateşkesi'nin hükümleri arasında yukarıda verilenlerden hangileri yer almaktadır?

- A) Yalnız I B) Yalnız II C) I ve III
D) II ve III E) I, II ve III

11. I. Dünya Savaşı'nın sona ermesinden sonra Yunanistan 1919 yılına kadar Kafkaslar, bazı adalar ve Güney Rusya bölgelerinde yaşayan 100.000 civarında Rum'u, Trabzon ve çevresine yerleştirmiştir.

Yunanistan'ın bu politikası ile ilgili olarak aşağıdaki yargılardan hangisine varılamaz?

- A) Bölgede etnik yapı dengelerini değiştirmek istemiştir.
- B) Wilson İlkeleri'nden yararlanmayı düşünmüştür.
- C) Demografik yapıda etkinlik kazanmayı hedeflemiştir.
- D) Tarihi emellerine hizmet etmiştir.
- E) Germen toplulukları birleştirmeyi düşünmüştür.

13. Misak-ı Milli'nin Son Osmanlı Mebusan Meclisi'nde kabul edilmesi üzerine yaşanan gelişmeler arasında aşağıdakilerden hangisi yer almaz?

- A) İstanbul'un İtilaflar tarafından resmen işgal edilmesi
- B) Türk Ocakları'nın basılarak aydınların sürgün edilmesi
- C) Anlaşma Devletleri'nin Meclis-i Mebusan'ı işlemez hale getirmesi
- D) Ankara'nın Temsilciler Kurulu'nun merkezi yapılması
- E) İngiltere'nin Ali Rıza Paşa Hükümeti üzerindeki baskısının artması

İhtiyas Mayıncılık

14. I. Albayrak Gazetesi
II. Kazım Karabekir
III. Şark Vilayetleri Müdafaa-i Hukuk Cemiyeti
Erzurum Kongresi'nin toplanmasında yukarıda verilen kişi veya kuruluşlardan hangilerinin yürütmüş olduğu propagandalar etkili olmuştur?

- A) Yalnız II
- B) I ve II
- C) I ve III
- D) II ve III
- E) I, II ve III

12. ABD Senatosu Sakarya Meydan Muharebesi'nden sonra bir açıklama yaparak Anadolu politikalarından ve Ermeniler ile ilgili ortaya koyduğu fikirlerden vazgeçtiğini açıklamıştır.

ABD'nin böyle bir karar alırken öne sürdüğü ve gerekçe olarak gösterdiği belge aşağıdakilerden hangisidir?

- A) General Harbour Raporu
- B) Esat Işık Raporu
- C) Mudanya Ateşkes Antlaşması
- D) Sandler Raporu
- E) Milne Raporu

15. I. İnönü Muharebeleri'nin kazanılması
II. Şeyh Said Ayaklanması'nın bastırılması
III. Yozgat Çapanoğlu İsyanı'nın sona erdirilmesi
Yukarıda verilenlerin hangilerinde Milis Güçler adı da verilen Kuva-i Milliye'nin etkili olduğu söylenebilir?

- A) Yalnız I
- B) Yalnız II
- C) Yalnız III
- D) I ve II
- E) I ve III



16. Gediz önlerinde Türk kuvvetlerinin başarısız olması üzerine Batı Cephesi'nin komuta kademesinde değişiklik yaşanmıştır.

Bu değişikliğe bağlı olarak;

- I. İsmet İnönü,
- II. Ali Fuat,
- III. Refet Bele

gibi komutanlardan hangilerinin bu cephe de görev aldığı söylenemez?

- A) Yalnız I
- B) Yalnız II
- C) Yalnız III
- D) I ve II
- E) I ve III

17. I. Fransa'nın Dış İşleri Komisyon Başkanı Frank Bauillon'un Ankara'ya gelerek görüşmeler yapması
II. Fransız basınındaki Türk dostu yazarların Fransız kamuoyunu etkilemesi
III. Yunanistan'ın ağır bir yenilgi almış olması
Sakarya Meydan Muharebesi'ne bağlı olarak yaşanan yukarıdaki gelişmelerden hangileri 1921 yılında Ankara Antlaşması'nın imzalanmasına ortam hazırlamıştır?

- A) Yalnız I
- B) Yalnız II
- C) I ve II
- D) II ve III
- E) I, II ve III

18. İngiliz tarihçi Arnold Toynbee'nin "Ateşkes Antlaşması, Atatürkçülerin baskısı sonunda İtilaf Devletleri'nin teslim olmaları demektir." şeklinde ifade ettiği ateşkes aşağıdakilerden hangisi olabilir?

- A) Rethandes Ateşkes Antlaşması
- B) Mondros Ateşkes Antlaşması
- C) Mudanya Ateşkes Antlaşması
- D) Selanik Ateşkes Antlaşması
- E) Erzincan Ateşkes Antlaşması

19. TBMM Heyeti'nin Lozan'da;

- I. borçların sterlin veya altın olarak ödenmesi,
- II. patrikhanenin İstanbul'da kalması,
- III. Türkiye'ye yakın adalarda askeri unsurların olmaması

konularından hangilerine karşı çıktığı söylenmez?

- A) Yalnız I
- B) Yalnız II
- C) Yalnız III
- D) I ve II
- E) II ve III

20. Yeni Türk Devleti'nin ilk partisi olan Halk Fırkası programında aşağıdakilerden hangisine yer vermemiştir?

- A) Aşar vergisinin kaldırılmasına
- B) Liberal uygulamaların tek esas alınmasına
- C) Askerlik süresinin indirilmesine
- D) Milli egemenliğin esas alınmasına
- E) Demiryollarının çoğaltılmasına

21. Mustafa Kemal, hükümetin denetlenmesi ve çok partili sisteme geçiş için yeni bir siyasi partinin kurulması gerektiğini düşünüyordu. Bunun üzerine deneyimli devlet adamı Paris Büyükelçisi Fethi Okyar'dan parti kurmasını istemiştir. 1930 yılında kurulacak olan Serbest Cumhuriyet Fırkası'nın kurucuları arasında kız kardeşi Makbule Hanım'ında yer almasını sağlamıştır.

Buna göre Mustafa Kemal'in;

- I. çoğulculuk,
- II. ulusal egemenlik,
- III. muhalefet

olgularından hangilerini desteklediği savunulabilir?

- A) Yalnız II
- B) Yalnız III
- C) I ve II
- D) II ve III
- E) I, II ve III

22. 1927 yılında Mustafa Kemal'in isteğiyle alfabe sorununa ilişkin araştırma yapmaya başlayan kurum aşağıdakilerden hangisidir?

- A) Türk Dil Kurumu
- B) Erkan-ı Harbiye Vekaleti
- C) Millet Mektepleri
- D) Maarif Vekaleti
- E) Halkevleri

23. – İlköğretim Kanunu'nun kabul edilmesi
– Osmanlı'dan alınan nişan, rütbe ve madalyaların kullanımının yasaklanması
– Seçmen olmak için vergi verir olma şartının kaldırılması

Yukarıda verilenlerin en çok ilgili olduğu Atatürk ilkesi aşağıdakilerden hangisidir?

- A) Halkçılık
- B) Ulusçuluk
- C) Cumhuriyetçilik
- D) Devletçilik
- E) Laiklik

24. I. İşbankası'nın kurulması
II. Liman işletme hakkının yasa ile Türklere devredilmesi
III. Devlet üretme çiftliklerinin açılması
Yukarıda verilenlerden hangilerinin doğrudan Türk ticaretini geliştirmeye yönelik olduğu söylenemez?

- A) Yalnız I
- B) Yalnız III
- C) I ve II
- D) I ve III
- E) II ve III

25. Atatürk Dönemi'nde gerçekleşen toplumsal inkılaplar sıralandığında aşağıdakilerden hangisinin verilenler içinde son yaşanan gelişme olduğu söylenebilir?

- A) Batılı ölçü ve tartı birimlerinin kullanılmaya başlanması
- B) Milletlerarası rakamların yürürlüğe girmesi
- C) Miladi Takvim'in kullanımının kabul edilmesi
- D) Alafranga saat uygulamasına geçilmesi
- E) Hafta tatilinin Cuma'ya alınması

26. I. Kadınlar
II. Askerler
III. Devlet memurları

1925 yılında kabul edilen Kılık-Kıyafet Kanunu yukarıdaki gruplardan hangilerinin üzerinde yasal bir zorunluluk hali doğurmuştur?

- A) Yalnız II
- B) Yalnız III
- C) I ve II
- D) I ve III
- E) II ve III

27. Şeyh Said İsyanı'nda suçlu görülenler için kurulan İstiklal Mahkemeleri'nin Diyarbakır dışında Ankara'da da yargılama yapması;
I. Terakkiperver Halk,
II. Cumhuriyet Halk,
III. Amele ve Çiftçi
partilerinden hangilerinin olayla ilgisinin olduğu düşüncesinden kaynaklanmaktadır?

- A) Yalnız I
- B) Yalnız II
- C) Yalnız III
- D) I ve II
- E) II ve III



28. I. Saltanatın kaldırılması
II. Hilafetin ilgası (kaldırılması)
III. Erkan-ı Harbiye Vekaleti'nin kaldırılması
Yukarıda verilenlerden hangileri mevcut rejimi laik uygulamalarla güçlendirmeye yöneliktir?

A) Yalnız I B) Yalnız II C) Yalnız III
D) I ve II E) II ve III

29. Efendiler, bu beyanatımla, milli hayatı son bulmuş sayılan büyük bir milletin; istiklalini nasıl kazandığını ve ilim ve fennin en son esaslarına müstenit, milli ve asri bir devleti nasıl kurduğunu ifadeye çalıştım.

Mustafa Kemal yukarıdaki sözleriyle Yeni Türk Devleti'nin kuruluşunda;

- I. Milliyetçilik,
II. Laiklik,
III. İnkılapçılık,
IV. Devletçilik

ilkelerinden hangilerinin etkili olduğunu ifade etmiştir?

A) I ve II B) II ve III C) I, II ve III
D) I, III ve IV E) II, III ve IV

30. Lozan Antlaşması'nda en çok Fransa ile tartışma konusu olan Yabancı Okullar Meselesi'nde Misak-ı Milli anlayışına uygun hareket edilerek bazı kararlar alınmıştır.

Aşağıdakilerden hangisi bu konuda alınan kararlardan biri değildir?

- A) Öğrencilere verilecek ödüllerde yabancı ülke bayrağı bulunmayacak.
B) Son sınıf öğrencileri elçiliklerde değil kendi okullarında sınava girecek.
C) Dini tören ve derslere ancak aynı dine mensup olan öğrenciler girecek.
D) Okulların denetiminde ilgili ülke müfettişlerinin yanında Türk müfettişlerde bulunacak.
E) Yabancı okullarda, okutulan kitaplarda Türklük aleyhinde yazılar olmayacak.

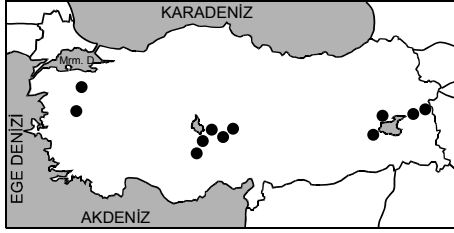
İhtiyas Mayıncılık

31. I. Dört mevsiminin belirgin olarak yaşanması
II. Güneyden kuzeye doğru gece gündüz süre farklarının artması
III. Güneş ışınlarının Ankara'ya İstanbul'a göre dik gelmesi
IV. Batı rüzgarlarının etkili olması
V. Güneş ışınlarının asla dik gelmemesi

Yukarıda verilenlerden hangisi Türkiye'nin Kuzey Yarım Küre'de olduğunu kanıtlar?

A) I ve II B) II ve III C) I ve IV
D) III ve V E) IV ve V

32.



Yukarıdaki haritada dağılışı gösterilen yeryüzü şekli aşağıdakilerden hangisidir?

- A) Platolar B) Alüvyal Ova C) Tektonik Ova
D) Karstik Arazi E) Volkanik Dağ

34. Türkiye’de dağlar Akdeniz ve Karadeniz Bölgesi’nde kıyıya paralel uzanır.

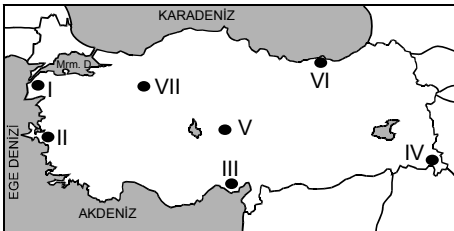
Bu durum İç Anadolu Bölgesi ile ilgili aşağıda verilenlerden hangisi üzerinde etkili değildir?

- A) Nem oranı azdır.
B) Yağış miktarı azdır.
C) Tarımda makineleşme kolaydır.
D) Karasal iklim şartları yaşanır.
E) Denizden gelen nemli hava kütleleri iç kesimlerde kurutucu etki yapar.

35. Türkiye’de orman örtüsünün dağılışıyla aşağıdakilerden hangisi arasında doğrudan ilişki vardır?

- A) Yağış miktarı
B) Jeolojik yapı
C) Toprak verimliliği
D) Tarımsal etkinlik
E) Büyükbaş hayvancılık faaliyetleri

33. Türkiye’de kıyılardan iç kesimlere gidildikçe ve yükseltilere çıkıldıkça sıcaklık değerleri değişir.



Yukarıdaki haritada numaralandırılarak verilen yerlerden hangileri arasındaki sıcaklık farkı verilen açıklamadan daha farklı bir nedene dayanır?

- A) I ve IV B) II ve III C) III ve IV
D) II ve V E) VI ve VII

36. Aşağıdaki toprak tiplerinden hangisi iç bölgelerdeki yarı kurak iklim alanlarında görülür?

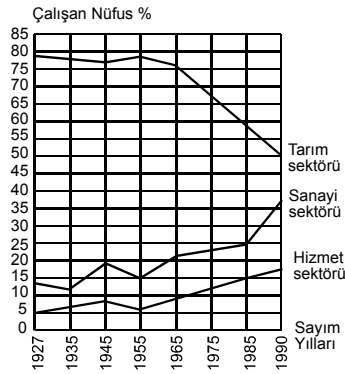
- A) Kahverengi orman toprağı
B) Laterit toprağı
C) Podzol toprağı
D) Kestane renkli step toprağı
E) Terra Ressa toprağı



37. Türkiye'de endüstri kuruluşlarının bölgeler arasında dengesiz bir şekilde dağılışı göstermiş olması aşağıdakilerden hangisine yol açtığı söylenemez?

- A) Göç hareketlerinin artmasına
- B) Nüfusun ülke içerisinde düzensiz dağılmasına
- C) Nüfusun belirli bir bölgede yoğunlaşmasına
- D) Enerji üretiminin belirli bir bölgeden yapılmasına
- E) Ülke içi gelir dağılımının dengesiz olmasına

38.



Yukarıdaki grafikte Türkiye'nin 1927 – 1990 yılları arasındaki çalışan nüfus ekonomik faaliyet kollarının göre dağılışı oranları verilmiştir.

Yalnızca grafikte verilenlerle ilgili aşağıdakilerden hangisine ulaşamaz?

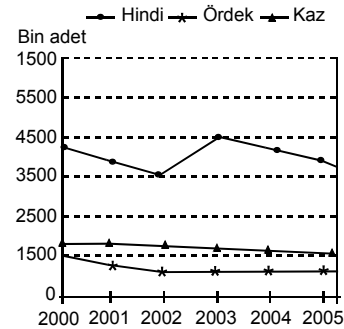
- A) Tarım sektöründe çalışanların sayısı sürekli azalmıştır.
- B) Ülkede sanayi gelişme göstermiştir.
- C) Hizmet sektöründe çalışan oranının en fazla olduğu yıl 1990'dır.
- D) Sanayi sektöründe çalışanların oranı 1945 ve 1955 yılları arasında azalmıştır.
- E) 1927 yılında çalışan nüfusun yarısından fazlası tarım sektöründe çalışmaktadır.

39. I. Çay
II. Muz
III. Şeker pancarı
IV. Fındık
V. Turunçgiller

Yukarıda verilen tarım ürünlerinden hangisinin üretimi kıyı bölgelerimizin ekonomisinde daha az paya sahiptir?

- A) I B) II C) III D) IV E) V

40. Aşağıdaki grafikte Türkiye'deki 2000 – 2005 yılları arasında üretilen bazı kümes hayvanlarının sayıları verilmiştir.



Buna göre aşağıdakilerden hangisine ulaşamaz?

- A) Hayvan sayılarında en büyük değişim hindidedir.
- B) Kaz üretimi 2000 ve 2005 yılları arasında önemli bir dalgalanma göstermemiştir.
- C) Üç hayvan türünden en az üretileni ördektir.
- D) Ördek ve kaz sayısının birbirine en yakın olduğu yıl 2000'dir.
- E) Ülkemizde bütün kümes hayvanları içerisinde üretim sayısı en fazla olan hindidir.

41. I. Şeker fabrikası
II. Dokuma sanayi
III. Otomotiv sanayi
IV. Petrokimya sanayi

Yukarıda verilen sanayi kuruluşlarından hangisi sermaye ve gelişmiş teknoloji isteği fazla olduğu için Türkiye’de daha geç gelişme göstermiştir?

- A) I ve II B) I ve III C) II ve III
D) II ve IV E) III ve IV

42. En ucuz ulaşım deniz yolu ile sağlanmasına rağmen ülkemizde deniz yolu ile ulaşım fazla gelişmemiştir. **Bu durumun temel sebebi aşağıdakilerden hangisidir?**

- A) Deniz taşımacılığına yönelik yatırım maliyetlerinin yüksek olması
B) Doğal liman sayısının az olması
C) Kıyılarımızda deniz kazası riskinin yüksek olması
D) Uluslararası taşımacılığın gelişmemesi
E) Boğazlardaki gemi trafiğinin yoğun olması

43.



Yukarıdaki haritada verilen kentlerden hangisinde hazır giyim sanayinin gelişmesinde hammaddeye yakınlık öncelikle etkili olmamıştır?

- A) İstanbul B) İzmir C) Adana
D) Gaziantep E) Şanlıurfa

44. I. İzmir
II. Bursa
III. Mersin
IV. Kırıkkale
V. Batman

Yukarıda verilen kentlerden hangisinde petrol rafinerisi yoktur?

- A) I B) II C) III D) IV E) V

45. Karadeniz Bölgesi’nde ticaretin en çok geliştiği kentler aşağıdakilerden hangisinde birlikte verilmiştir?

- A) Sinop – Zonguldak
B) Zonguldak – Samsun
C) Giresun – Trabzon
D) Rize – Samsun
E) Bayburt – Gümüşhane

46. Aşağıdakilerden hangisi Ege Bölgesi’ne ait özelliklerden biri değildir?

- A) En uzun kıyı şeridine sahiptir.
B) Bölgenin bölümlerinde yetiştirilen tarım ürünleri benzerlik gösterir.
C) Batısından doğusuna doğru gidildikçe nüfus miktarı azalır.
D) Menteşe yöresinde demiryolu ulaşımı yoktur.
E) Linyit üretiminin en fazla olduğu bölgedir.



47. GAP'ın tamamlanması durumunda Güneydoğu Anadolu Bölgesi'nde aşağıdaki gelişmelerden hangisi yaşanmaz?

- A) Nadasa bırakılan alanlar azalır.
- B) Mercimek ekim alanları genişler.
- C) Elektrik üretimi artar.
- D) Sanayileşme hızı artar.
- E) Bölge dışına göç azalır.

48. İç Anadolu ve Güneydoğu Anadolu bölgeleri aşağıda verilen özelliklerden hangisi açısından benzerlik göstermez?

- A) Karasal iklim şartları etkilidir.
- B) Koyun yetiştiriciliği fazladır.
- C) Kerpiç evler yaygındır.
- D) Şekerpancarı üretimi fazladır.
- E) Tarımda makine kullanımı kolaydır.

49. Medeni Kanun'un 170. maddesindeki "Dava boşanmaya ilişkinse, ancak ortak hayatın yeniden kurulma olasılığı bulunduğu takdirde ayrılığa karar verilebilir." hükmündeki kural içi boşluğu hakim aşağıdakilerden hangisiyle doldurur?

- A) Yorum yaparak
- B) Takdir yetkisini kullanarak
- C) Hukuk yaratarak
- D) Örf ve adet hukukuna bakarak
- E) İçtihadlara bakarak

50. Türk Medeni Kanunu'na göre hak ehliyeti nasıl başlar?

- A) Ayırt etme gücünün kazanılmasıyla
- B) Evlenmekle
- C) Ergin olmakla
- D) Sağ doğmak koşuluyla ana rahmine düşüldüğü andan itibaren
- E) Sağ ve tam doğumla

51. 1982 Anayasası'na göre aşağıdaki temel hak ve özgürlüklerden hangisi Türkiye'de ikamet eden yabancılara "karşılıklılık esası gözetilmek" şartıyla tanınmış bir haktır?

- A) Seçme hakkı
- B) Kamu hizmetlerine girme hakkı
- C) Dilekçe hakkı
- D) Siyasi parti kurma hakkı
- E) İspat hakkı

52. "Konut dokunulmazlığı" 1982 Anayasası sistematüğının hangi başlığı altında düzenlenmiştir?

- A) Kişinin temel hak ve ödevleri
- B) Sosyal ve ekonomik hak ve ödevler
- C) Siyasi hak ve ödevler
- D) Pozitif statü hakları
- E) Aktif statü hakları

53. TBMM seçimleriyle ilgili aşağıdaki yargılardan hangisi doğrudur?

- A) Seçimler sonunda seçim konularıyla ilgili bütün şikayet ve itirazlar TBMM Başkanınca karara bağlanır.
- B) Seçim kanunlarında yapılan değişiklikler, yürürlüğe girdiği tarihten itibaren 1 yıl içinde yapılacak seçimlerde uygulanmaz.
- C) Seçimler çift derecelidir.
- D) Seçimlerin savaş sebebiyle 1 yıl ertelenmesine Yüksek Seçim Kurulu karar verir.
- E) TBMM seçimleri 5 yılda bir yapılır.

54. "Halk oylamasının" usulüne uygun yapılıp yapılmadığını aşağıdaki mercilerden hangisi denetler?

- A) TBMM Başkanı
- B) Anayasa Mahkemesi
- C) Yüksek Seçim Kurulu
- D) Danıştay
- E) Cumhurbaşkanı

55. "Kesin hesap kanun tasarısını" aşağıdakilerden hangisi TBMM'ye sunar?

- A) Bakanlar Kurulu
- B) Sayıştay
- C) Danıştay
- D) TBMM Başkanı
- E) Başbakan

56. 1982 Anayasası'nda 2007 yılında yapılan değişikliğe göre aşağıdaki ifadelerden hangisi yanlıştır?

- A) Cumhurbaşkanının görev süresinin 5 yıla inmesi
- B) TBMM genel seçimlerinin 4 yıla indirilmesi
- C) Cumhurbaşkanının halk tarafından seçilmesi
- D) Milletvekili seçilme yaşının 25'e indirilmesi
- E) Cumhurbaşkanının en fazla iki kez seçilebilmesi

57. I. TBMM Başkanı
II. İktidar partisi meclis grubu
III. Başbakan
IV. Cumhurbaşkanı

Yukarıdakilerden hangileri 1982 Anayasası'na göre, Kanun Hükmünde Kararnemelerin anayasa aykırı olduğu iddiasıyla Anayasa Mahkemesi'nde doğrudan doğruya iptal davası açabilir?

- A) Yalnız I
- B) Yalnız III
- C) I ve II
- D) II ve IV
- E) III ve IV

58. Aşağıdakilerden hangisi Birleşmiş Milletler'in uzmanlık kuruluşu olup, açlığı yok etmek ve beslenme şartlarını iyileştirmek amacıyla 1943'te kurulmuş örgüttür?

- A) ILO
- B) FAO
- C) WFP
- D) WHO
- E) UNICEF



59. "Yetki genişliği ilkesi" aşağıdaki idarelerden hangisine tanınmış bir yetkidir?

- A) İl özel idaresine
- B) İlçe idaresine
- C) İl idaresine
- D) Büyükşehir belediyelere
- E) İl daimi encümenine

60. Türkiye'de yapılacak olan 2011 Avrupa Gençlik Olimpiyatları aşağıdaki şehirlerden hangisinde düzenlenecektir?

- A) Antalya
- B) İstanbul
- C) İzmir
- D) Trabzon
- E) Kayseri

İktisat Bakanlığı

GENEL KÜLTÜR TESTİ BİTTİ.
CEVAPLARINIZI KONTROL EDİNİZ.